

Adı:
Soyadı:



1/G Çalışma Kağıdı



Tarih
...../...../2019

1. Bayrağımıza ve İstiklal Marşı'mıza niçin saygı duyarız?

- A) Yurdumuzda yaşayan insanları temsil ettiği için
- B) Ailemizi temsil ettiği için
- C) Ulusal bağımsızlığımızı temsil ettiği için

• Beslenme • Barınma • Giyinme

2. Yukarıda verilenlerden kaç tanesi temel ihtiyaçtır?

- A) 1
- B) 2
- C) 3

3. Hangi öğrencinin ifadesi kaynakları tutumlu kullandığını göstermez?



A) Kalorifer yanarken pencereleri açarım.



B) Sınıf aydınlıkken lambaları kapatırım.



C) Banyo yaparken şampuanı yeteri kadar kullanırım.

4. "Yaya Geçidi" trafik levhası aşağıdakilerden hangisidir?

A)



B)



C)



- Kurban Bayramı
- 19 Mayıs Atatürk'ü Anma ve Gençlik ve Spor Bayramı
- 23 Nisan Ulusal Egemenlik ve Çocuk Bayramı
- Ramazan Bayramı

5. Yukarıdakilerden kaç tanesi dinî bayramdır?

A) 4

B) 3

C) 2

5. Bursa'da yaşayan Deniz ve ailesi, Atatürk'ün anıt mezarı Anıtkabir'i ziyaret etmek için hangi ilimize gitmelidir?

- A) Samsun B) İstanbul C) Ankara

7. Ülkemizdeki yerleşim birimlerinin küçükten büyüğe doğru sıralanışı hangi seçenekte doğru verilmiştir?

- A) Köy → İl → İlçe
B) Köy → İlçe → İl
C) İlçe → İl → Köy

..... ülkemizin adı, ise başkentimizin adıdır.




8. Yukarıdaki noktalı yerlere hangileri sırasıyla yazılmalıdır?

- A) Türkiye - Ankara
B) Ankara - İstanbul
C) Türkiye - İstanbul

9. Her yıl 19 Mayıs günü kutladığımız bayram hangisidir?

- A) Cumhuriyet Bayramı
B) Ulusal Egemenlik ve Çocuk Bayramı
C) Atatürk'ü Anma ve Gençlik ve Spor Bayramı

10. Aşağıdakilerin hangisinde hayvanlar ve hareket şekilleri yanlış eşleştirilmiştir?

- A)  → Yüzerek
Alabalık
- B)  → Uçarak
Serçe
- C)  → Uçarak
Kaplumbağa