

Adı:
Soyadı:




3/G SINIFI
HAFTALIK EV ÇALIŞMAMIZ

Tarih
...../...../2021

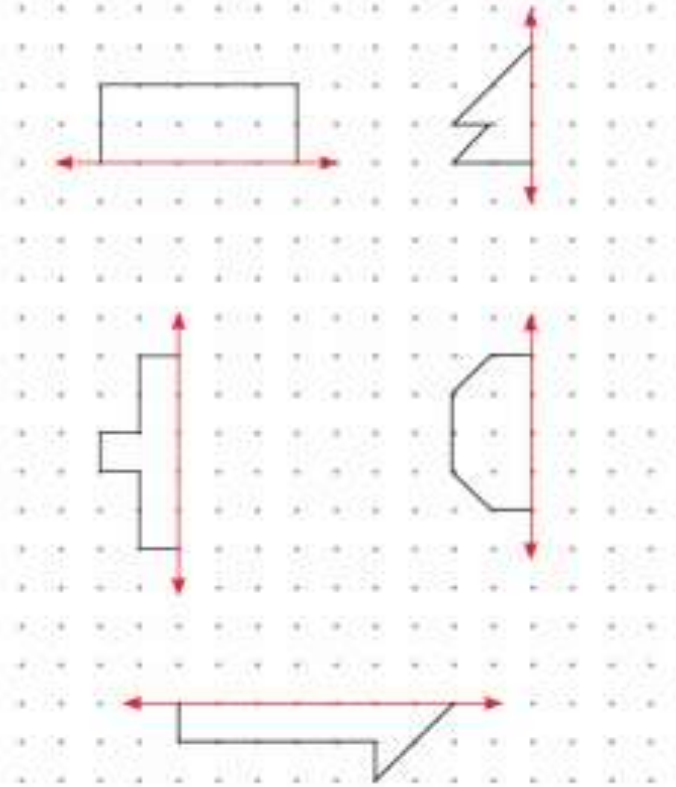
Adı Soyadı:

Uzamsal İlişkiler/Simetri Doğrusu


Aşağıda verilen kare, dikdörtgen ve daire şeklindeki kâğıtlar simetrik olarak katlandığında kaçar simetri doğrusu bulunduğunu belirleyelim. Simetri doğrularını cetvelle çizelim.

	Simetri Doğrusu Sayısı
	
	
	

Aşağıda bulunan noktali ve kareli kâğıttaki simetrik şekilleri, dikey ve yatay olarak çizilen simetri doğrularına göre tamamlayalım.



Köşegenleri çizilen kare ve dikdörtgen ile ilgili aşağıdaki bilgileri tamamlayalım.




Köşegenler, dikdörtgenin simetri doğrusu değildir çünkü

.....

Köşegenler, karenin simetri doğrusudur çünkü

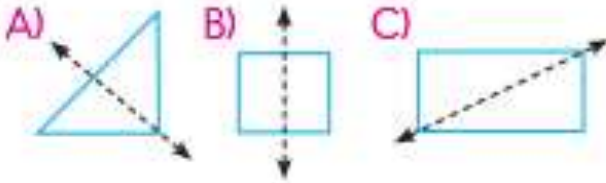
.....



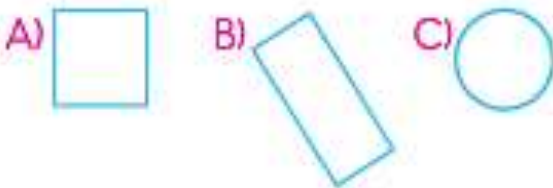
1. Aşağıdaki resimlerden hangisi simetrik değildir?



2. Aşağıdaki geometrik şekillerden hangisinin simetri doğrusu yanlış çizilmiştir?




3. Aşağıdaki düzlemsel şekillerden hangisine diğerlerinden daha az simetri doğrusu çizilebilir?



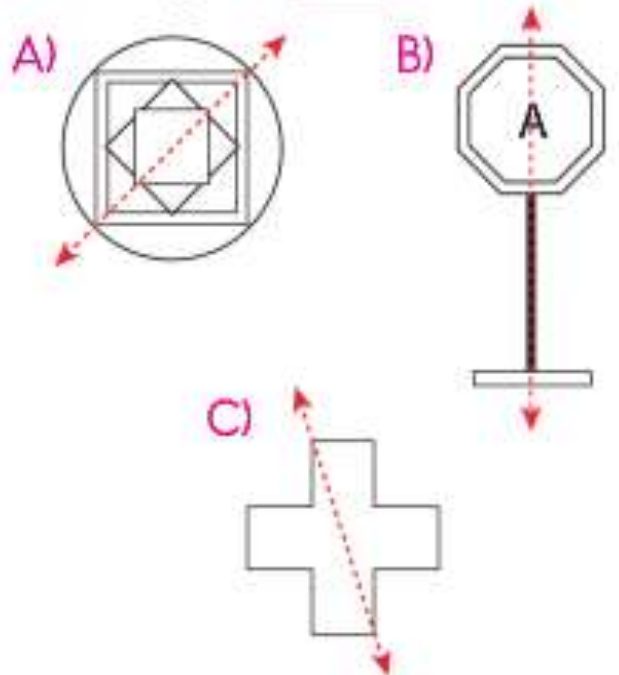
4. Aşağıdaki kelimelerden hangisi yatay simetri doğrusuyla iki eş parçaya ayrılabilir?

- A) KEK B) ODA
C) CEKET

5.  Yandaki şekille ilgili aşağıdaki ifadelerden hangisi yanlıştır?

- A) İki eş parçaya ayrılabilir.
B) Simetri doğrusu sadece yatay çizilebilir.
C) Şekle birden çok simetri doğrusu çizilebilir.


6. Aşağıdakilerden hangisinin simetri doğrusu yanlış çizilmiştir?



7. Aşağıdaki nesnelere hangisinin simetri doğrusu çizilebilir?



8. Aşağıdaki şekillerden hangisinin simetri doğrusu hem yatay hem dikey hem de eğik olarak çizilebilir?



9.



Yukarıdaki şekil, simetri doğrusuna göre tamamlandığında aşağıdakilerden hangisi gibi görünür?

A)



B)



C)



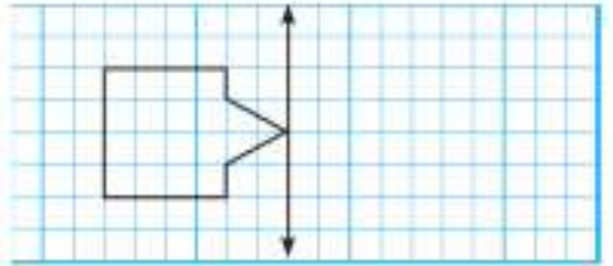
10. Aşağıdaki rakamlardan hangisine hem dikey hem yatay simetri doğrusu çizilebilir?

A) 8

B) 3

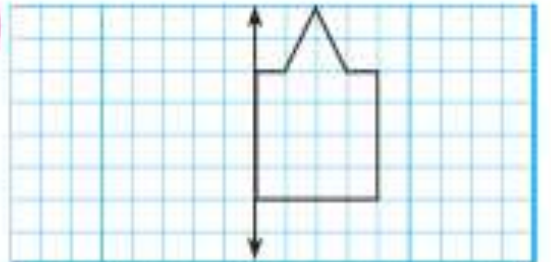
C) 9

11.

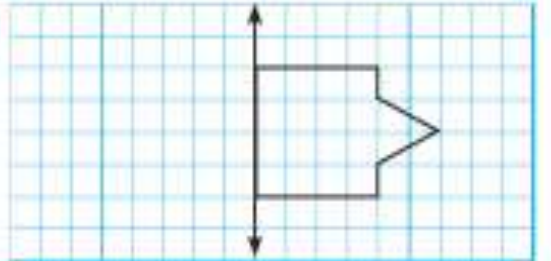


Verilen şeklin doğruya göre simetriği aşağıdakilerden hangisinde verilmiştir?

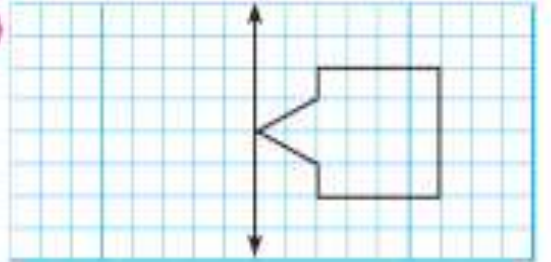
A)



B)





C)






Adı Soyadı:




1.  •  • 
- Küp
- Üçgen prizma
- Koni

Yukarıdaki nesnelere benzedikleri geometrik cisimlerle eşleştirildiğinde okların görünümü nasıl olur?

- A)  B)  C) 

2. Kare prizma ile ilgili aşağıdaki bilgilerden hangisi yanlıştır?
- A) Tüm yüzleri karedir.
- B) 12 ayrıtı vardır.
- C) 8 köşesi vardır.




3. Aşağıdaki şekillerden hangisinin köşegeni yanlış çizilmiştir?
- A)  B)  C) 


4. Aşağıdaki şekillerden hangisinin köşegeni çizilemez?
- A)  B)  C) 

5. 

Melek, noktalı kâğıttaki noktaları birleştirerek bir dikdörtgen çizmek istiyor.

Buna göre Melek'in kullanacağı doğru parçaları aşağıdakilerden hangisidir?

- A) 
- B) 
- C) 

6. 

Noktalı kâğıttaki hangi varlığın bulunduğu nokta yanlış adlandırılmıştır?

- A) Kelebek
- B) Balık
- C) Tavşan

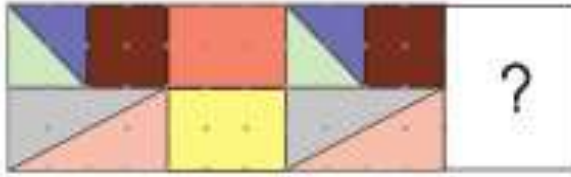
7.

1.  → Altıgen
2.  → Sekizgen
3.  → Beşgen


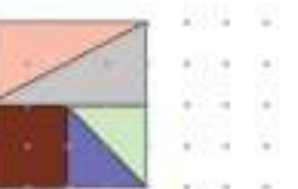
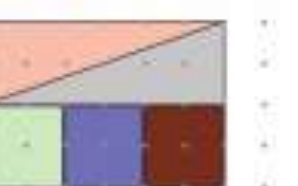
Numaralanmış geometrik şekillerden hangilerinin yeri değiştirilirse, şekiller adları ile doğru eşleştirilmiş olur?

- A) 1 ve 2
- B) 1 ve 3
- C) 2 ve 3

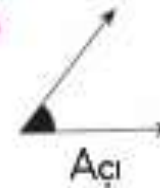


8.



Noktalı kâğıtta verilen kaplama örüntüsü aşağıdakilerden hangisiyle devam ettirilmelidir?

- A) 
- B) 
- C) 

9. Aşağıdaki modellerden hangisi doğru adlandırılmıştır?

- A) 
- B) 
- C) 

10. Aşağıdakilerden hangisi bir ışın modelidir?

- A) 
- B) 
- C) 

11. Aşağıdaki şekillerden hangisinin simetri doğrusu diğerlerinden fazladır?

- A) 
- B) 
- C) 

12.



Duru'nun sallandığı salıncaktaki ipler, aşağıdakilerden hangisine örnektir?

- A) Dikey doğru parçası
- B) Eğik doğru parçası
- C) Yatay doğru parçası

Metni okuyalım. Metinle ilgili soruları cevaplayalım.

BONCUKÇU TEYZE

Özlem, her hafta annesi ile birlikte pazara gidiyordu. Bu hafta pazarda alışveriş yaparken bir teyzeyle rastlamışlardı. Ona herkes, Boncukçu Teyze di-yordu. Boncukçu Teyze, çok yaşlıydı. Yaşlı olduğu elindeki ve yüzündeki kırışık-lıklardan belliydi.

Boncukçu Teyze evde yaptığı boncuktan süs eşyalarını pazarda satıyordu. Özlem, diğer pazara amcalardan bazen bu teyzenin hiçbir şey satamadan ak-şamı ettiğini duyunca çok üzölmüştü. Ama o, yine de akşam güneş batana kadar pazarda tezgâhının başında oturuyordu.

Boncukçu Teyze, Özlem'e göre çok ilginç biriydi. Bir keresinde onunla konu-şmuş ve boncukları nasıl dizeceğini sormuştu. O da Özlem'e anlatmıştı. Sonra da kalın camlı gözlüklerini takarak elindeki kitabı okumaya devam etmişti. Boncukçu Teyze, pazarda kaldığı sürece boş boş etrafı seyretniyor, kitap okuyordu. Öz-lem her pazara gidişinde onun elinde farklı bir kitap görüyordu. Boncukçu Tey-ze, hiç de diğer yaşlı teyzelere benzemiyordu.

1. Metnin başlığını değiştirmek iste-seydik aşağıdakilerden hangisi uy-gun bir başlık olurdu?

- A) Pazara Amcalar
- B) Satıcılar
- C) Okumanın Yaşı Yoktur

2. Özlem, Boncukçu Teyze'nin çok yaşlı olduğunu nereden anlıyor?

- A) Boncukların eski olmasından
- B) Ellerindeki ve yüzündeki kırışık-lıklardan
- C) Elbiselerinden

Aşağıdaki metni okuyalım. Metinle ilgili soruları cevaplayalım.

KELOĞLAN İLE ANASI

Keloğlan'la anası, almışlar bir acı haber. Diyormuş ki "Acele geliver!" Hastaymış büyükbaba, varıp gitseler hemen, şifa olurmuş ona.

Başlamışlar aralarında konuşmaya:

— Ah oğul, canım oğull Menzilimiz uzaktır. Katığımız pek azdır. Ne yapsak nasıl etsek? Kuş gibi uçabilsek!

Keloğlan anasına cevap vermiş:

— Ah anam, canım anam! Nur yüzlü pamuk anam! Dert etme sen azığı. Yüklendiğim kazığı, ucuna da oltayı. Çakarım kazığı! Sererim üstüne çulu. Al sana bir çadır, istediğin gibi yayıl. Sallarım oltayı. Tutarım derelerden balığı. Yedirir, doyururum seni yolda. Dert etme sen, oğlun var yanında, demiş.

Toplamışlar döşegi, yüklemişler eşegi. Koyulmuşlar bir yola.

Kim araya, kim bulal

1. "Keloğlan" sözcüğünün doğru hecelenişi aşağıdakilerden hangisidir?
A) Kelo-ğlan
B) Kel-oğlan
C) Ke-loğ-lan
2. Okuduğunuz metnin türü aşağıdakilerden hangisidir?
A) Masal
B) Şiir
C) Mektup
3. Metinde geçen aşağıdaki cümlelerden hangisi, "Gideceğimiz yol uzaktır, yemeğimiz pek azdır." anlamına gelir?
A) Ah anam, canım anam! Nur yüzlü pamuk anam!
B) Menzilimiz uzaktır. Katığımız pek azdır.
C) Toplamışlar döşegi, yüklemişler eşegi.

Konu - Ana Duygu

Aşağıdaki şiirleri okuyalım. Şiirin konusunu ve ana duygusunu yazalım.

HOŞ GELDİN BAHAR



Sabah oldu hey ahali
Uyandı sahildeki balıklar,
Çiçeklendi ağaçlar,
Hazırlandı güneşe bahar.
Vırak vırak kurbağalar,
Vak vak vak ördekler,
Hav hav hav köpekler.
Herkes oradaydı,
Karınları açkımıştı,
Hepsi kahvaltıya koştu.
Dostça ve kardeşçe,
Sevgiyle paylaştılar yemeklerini.
Çınladı mutlu kahkahalar,
Hoş geldin güzel bahar.

(ATA Özgün Metinler
Koleksiyonu'ndan)

Şiirin Konusu :

Şiirin Ana Duygusu :

KÖYÜM



Dağlarında ormanlar,
Açmış kollarını ağaçlar,
Bekliyor beni köyümden
Hala, teyze, amcalar.

Şehirde yaşasam da,
Mektupla avunsam da,
Uzaklarda olsam da,
Köyümü düşünüyorum.

Karnemi alıyorum,
Az kaldı geliyorum,
Unutmadım sizleri,
Özlemle koşuyorum.

(ATA Özgün Metinler
Koleksiyonu'ndan)

Şiirin Konusu :

Şiirin Ana Duygusu :



Ad Soyad :

1.

Kilim	Kirli
Kirpi	Kilit

Sözcükler hangi seçenekte sözlük sırasına göre sıralanmıştır?

- A)

Kilit	Kilim	Kirli	Kirpi
-------	-------	-------	-------
- B)

Kirli	Kirpi	Kilim	Kilit
-------	-------	-------	-------
- C)

Kilim	Kilit	Kirli	Kirpi
-------	-------	-------	-------
2. “Dengesiz beslenme şişmanlamaya neden olur.”

Cümledeki alt çizili sözcüğün zıt anlamı hangi cümlede kullanılmıştır?

- A) Yağlı yiyecekler sağlığımızı olumsuz etkiler.
- B) Büyük balık küçük balığı yer.
- C) Doktor babama biraz zayıflamasını tavsiye etti.

3. **Aşağıdaki cümlelerin hangisinde “aç” sözcüğü farklı anlamda kullanılmıştır?**

- A) Temiz hava için pencereleri açmalısın.
- B) Eğer açsan önce yemek yiyelim.
- C) Güvenlik görevlileri stadyumun kapılarını açtı.

4. Besle kargayı oysun gözünü.
Atasözünün anlamı hangi seçenekte verilmiştir?

- A) Her felaket bizi üzüntüye boğar, ancak daha kötü durumlarında olabileceğini düşünerek teselli olmalıyız.
- B) Birine iyilik yapıp da ondan kötülük görülürse bunun üzüntüsü büyük olur.
- C) İnsanların hepsini iyi ya da hepsini kötü saymak yanlıştır.

5. Katlanır kapıların çalışma şekli sürgülü kapılara benzer. Bu kapıların sürgülü kapılardan farkı birkaç parçadan oluşması ve kapının parçalarının birbiri üzerine katlanabilmesidir. Bu katlanabilen kısımlar bir ray üzerinde ilerler.

Metne göre aşağıdakilerden hangisi yanlıştır?

- A) Sürgülü kapılar birkaç parçadan oluşur.
- B) Katlanır ve sürgülü kapıların benzer yönleri vardır.
- C) Katlanan kısımlar ray üzerinde hareket eder.

6.



Gömlek etiketinin üzerindeki harfler neyi göstermektedir?

- A) Alınan ürünün bedenini
- B) Alan kişinin isminin ilk harfini
- C) Satan mağazanın adını

7. Aşağıdaki cümlelerin hangisinde yazım yanlışı yapılmıştır?

- A) Bu yaz ailecek Fransa turu yapacağız.
- B) Turumuza önce paristen başlayacağız.
- C) Şehirlerin hemen hemen hepsini gezeceğiz.

8. Aşağıdaki cümlelerin hangisinde varlığı niteleyen bir sözcük kullanılmıştır?

- A) Okul çantamın fermuarı bozuldu.
- B) Kütüphanenin kapısını maviye boyamışlar.
- C) Okul kantininden simli kalem aldım.

9. Değerli müşterimiz 20.04.2020 tarihine kadar geçerli haftalık 1GB internet paketinizdeki kullanım hakkınız bitmiştir.

Bu metnin gönderilme amacı nedir?

- A) davet
- B) bilgilendirme
- C) kutlama

10.



Ege, gittiği müzenin girişinde yukarıdaki görseli gördü.

Bu görselde verilen mesaj aşağıdakilerden hangisidir?

- A) Fotoğraf makinası almalısın.
- B) Fotoğraf çekmek yasaktır.
- C) Cep telefonu yasaktır.





Ad Soyad :

1. Mustafa'nın resimlerini çektiği yerlerden kaç tanesi onun yakın çevresini oluşturur?

- A) 2 B) 3 C) 4



Oyun parkımız



Marketimiz



Tatil için gittiğimiz yer



Okulumuz

2. • Develer çöl yaşamına uygun hayvanlardır.

- Tarlalardaki ürünler toplanmaya başlandı.
- Bataklıkta su miktarı azalmış.
- Kutuplardaki buzullar erimeye devam ediyor.

Yukandaki ifadelerde yer alan altı çizili sözcüklerden kaç tanesi yapay çevreye örnektir?

- A) 1 B) 2 C) 3

3. 1. Canlı ve cansız varlıklar bir arada yaşar.

2. Oluşumları için çok uzun yıllar gerekir.

3. Canlı varlıklar yaşamak için cansız varlıklara ihtiyaç duyarlar.

Bu ifadelerden hangileri doğal ve yapay çevrenin ortak özellikleri arasında yer alır?

- A) 1 ve 2 B) 1 ve 3

C) 1, 2 ve 3

4.



Yukarıdaki görselle ilgili olarak verilen bilgilerden hangisi yanlıştır?

- A) Doğa olaylarının etkisiyle oluşmuştur.
B) Doğal anıttır.
C) Oluşumunda insan etkisi vardır.

5. Buse ve ablasının çizdikleri resimlerden bazılarını aşağıda verilmiştir.

Buna göre hangi resimde yapay çevre unsuru sayısı daha fazladır?





1. Çetin, Sinem ve Emre canlıların ortak özellikleri ile ilgili afişler hazırlamışlardır.

Buna göre hangi renkteki afişi hazırlayan öğrencinin verdiği bilgi yanlıştır?

A) Sarı

B) Mor

C) Yeşil

2. Toprak

Karınca

Ateş

Ağaç

Yukarıdaki varlıklardan canlı olanların kutular boyanırsa aşağıdaki şekillerden hangisi oluşur?

A)

B)

C)

3. • Genellikle tohumla çoğalırlar.
• Hepsi uygun şartlar sağlandığında uzun yıllar boyunca yaşayabilir.
• Kendi besinlerini kendileri yaparlar.

Bitkilerle ilgili olarak yukarıda verilen bilgilerden kaç tanesi doğrudur?

A) 1

B) 2

C) 3

4. •1..... canlıların zamanla boyutlarının artmasıdır.

•2..... artık maddelerin dışarı atılmasıdır.

•3..... canlıların kendi türlerini devam ettirmesidir.

Bu cümlelerde noktalı yerlere aşağıdaki sözcüklerden hangileri yazılmalıdır?

1	2	3
A) Beslenme	Boşaltım	Çoğalma
B) Büyüme	Beslenme	Solunum
C) Büyüme	Boşaltım	Çoğalma

5. Canlılar çevrelerinden aldıkları uyarılara tepki verirler.

Aşağıdaki durumlardan hangisi canlıların çevresindeki olaylara karşı verdiği tepkilere bir örnek değildir?

A) Fareyi gören kedinin kaçması

B) Köpeğin ses duyduğunda kulağını dikleştirmesi

C) Balıkların sudaki oksijeni almak için solungaçlarını kullanması