

Adı:
Soyadı:



TÜRKÇE
3/F Çalışma Kağıdı



Tarih
...../...../2018

Oku ve Anla

Aşağıdaki şiiri iki defa sesli bir şekilde okuyunuz.

Besin almak zorunda
Yaşam için canlılar,
Sağlık verir vücuda
Alınan bu gıdalar.

Madensel tuz, vitamin
Beslenmenin gereği,
Gıdasız kalmamalı
Dengeli beslenmeli.

Et, sebze, meyve, balık
Gerekli tüm besinler,
Yoğurt, süt, bal, peynir
Hayvansal ve bitkisel

Oburluk hiç hoş değil
İştahsızlık bahane
Sağlık için gerekli
Dengeli bir beslenme



Atilla ÇAKIROĞLU

Kitap en iyi arkadaş,
Bana neyi sorsam söyler.
Ne anlatsa en sonunda
Çalış; iyi, doğru ol der.
Geceleri uyumaz o,
Beni kaldırır erkenden.
Okulum kadar güzeldir,
Kitabı çok severim ben.
F. Hüsnü DAĞLARCA

1 ve 2. soruları yukarıdaki şiire göre cevaplayınız.

1. Yukarıdaki şiirin başlığı hangisi olabilir?

- A) Arkadaşım B) Okulum
C) Kitabım

2. Şiirin ana duygusu aşağıdakilerden hangisidir?

- A) Aile sevgisi B) Kitap sevgisi
C) Anne sevgisi

3. Sağlıklı olanlar

Gerçek mutluluğu bulur.

Temiz olursa eller

Mikroplar yok olur.

Dörtlüğe göre gerçek mutluluğun kaynağı nedir?




- A) Sağlık B) Temizlik
C) Gençlik

1, 2, 3, 4, ve 5. soruları yukarıdaki şiire göre cevaplayınız.

1. Canlılar niçin besin almak zorundadırlar?

- A) Yaşamak için
B) Büyümek için
C) Olgunlaşmak için

2. Aşağıda verilen besinlerden hangisi hayvansal bir besin değildir?

- A)  B) 
C) 

3. Şiirin başlığı aşağıdakilerden hangisi olabilir?

- A) Dengeli Beslenme
B) Oburluk ve Sağlık
C) Vitaminler

4. Alınan gıdalar vücuda nasıl etki eder?

- A) Vücuda sağlıklı yapar.
B) Çabuk yaralanmaya neden olur.
C) Vücuda hasta eder.

5. Aşağıdakilerden hangisi şiire göre beslenmenin gereklerinden biri değildir?

- A) Madensel tuz
B) Spor yapmak
C) Vitamin

Adı:
Soyadı:

Matematik
3/F Çalışma kağıdı

Bir Atasözü

Sakla samanı, gelir zamanı.

Eldeli Toplama

Aşağıdaki toplama işlemlerini yaparak verilen şifreyi çözünüz.

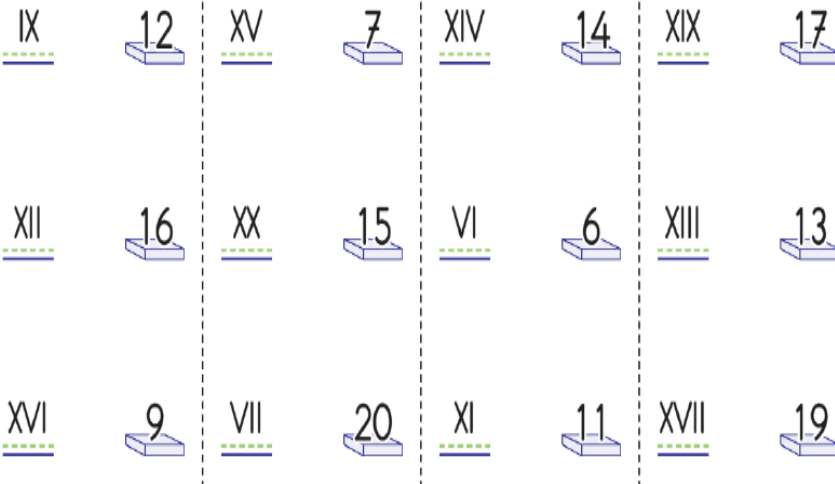
$$\begin{array}{r} 312 \\ + 198 \\ \hline \end{array} \quad \begin{array}{r} 476 \\ + 358 \\ \hline \end{array} \quad \begin{array}{r} 536 \\ + 373 \\ \hline \end{array} \quad \begin{array}{r} 656 \\ + 244 \\ \hline \end{array} \quad \begin{array}{r} 121 \\ + 859 \\ \hline \end{array} \quad \begin{array}{r} 847 \\ + 99 \\ \hline \end{array}$$



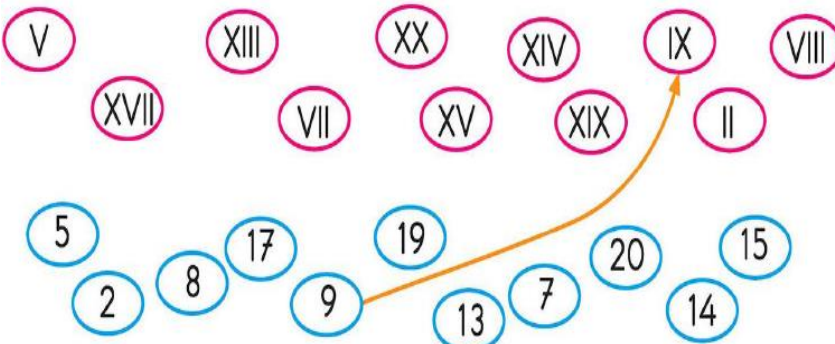
ŞİFRE					
990	980	908	510	834	500

----Romen Rakamları----

Aşağıdaki romen rakamları ile sayıları eşleştirelim.



Aşağıda verilen sayılarla Romen rakamlarını örnekteki gibi eşleştiriniz.



ELDELİ TOPLAMA

3 yüzlük + 4 onluk + 9 birlik

+ 3 onluk + 3 birlik

... yüzlük + ... onluk + ... birlik

6 yüzlük + 8 onluk + 4 birlik

+ 5 onluk + 2 birlik

... yüzlük + ... onluk + ... birlik

5 yüzlük + 9 onluk + 5 birlik

+ 2 yüzlük + 3 onluk + 0 birlik

... yüzlük + ... onluk + ... birlik

2 yüzlük + 4 onluk + 8 birlik

+ 4 yüzlük + 9 onluk + 4 birlik

... yüzlük + ... onluk + ... birlik

3 yüzlük + 8 onluk + 7 birlik

+ 3 yüzlük + 1 onluk + 5 birlik

... yüzlük + ... onluk + ... birlik

4 yüzlük + 7 onluk + 4 birlik

+ 4 yüzlük + 7 onluk + 6 birlik

... yüzlük + ... onluk + ... birlik

Annem 47 yaşındadır. Babam, annemden 6 yaş büyüktür. Annemle, babamın yaşları toplamı kaçtır?