

DOĞRU MU YANLIŞ MI

- Barınma temel bir ihtiyaçtır.
- Top almak istektir.
- Kahvaltı yapmak isteğe bağlıdır.
- Tiyatroya gitmek sosyal ihtiyaçlarımızdandır.
- İhtiyaçlar, isteklerden önce giderilmelidir.
- Satranç oynamak temel ihtiyaçtır.
- Hava durumuna göre giyinmek ihtiyaçtır.
- Temel ihtiyaçlarımızı karşılamazsak yaşamımızı sürdüremeyiz.

FEN BİLİMLERİ

- Aşağıda görselleri verilen aydınlatma araçlarının geliştirilme sırasını altlarındaki kutucuklara başlangıçtan sonra doğru numaralandırarak belirtiniz.



- Aşağıdaki ortamlarda ışık kirliliği olup olmadığını yazınız. Işık kirliliği varsa kirliliğin nedenini belirtiniz.

①  Işık kirliliği _____
Nedeni: _____

②  Işık kirliliği _____
Nedeni: _____

DOĞRU MU YANLIŞ MI

- () Uygun aydınlatma için her zaman gücü yüksek ampuller kullanılmalıdır.
- () Ders çalışırken ışığın arkadan gelmemesi gerekir.
- () Pano aydınlatmasında ışık pano üzerine gelecek ve gökyüzüne dağılmayacak şekilde yönlendirilmelidir.
- () Aydınlatmada ampul gücü ile oda büyüklüğü uyumlu olmalıdır.
- () Uygun aydınlatma aile ve ülke ekonomisine katkı sağlar.
- () Ders çalışırken ışık yandan gelmelidir.
- () Küçük odalarda gücü az olan ampuller tercih edilmelidir.
- () Sokak aydınlatmalarında ampul ışığının gökyüzüne dağılmaması için ampullerin üst yüzeyi opak (ışık geçirmeyen) bir madde ile kapıtılmalıdır.

BOŞLUK DOLDURMA

sosyal

yaşamsal

temel

hayat

barınma

ihtiyaç

beslenme - giyinme
- barınma

❖ Yaşamımızı devam ettirebilmek için gerekli olan şeylere _____ denir.

❖ _____, _____ ve _____ bizim ihtiyaçlarımızdır.

❖ Televizyon seyretmek, kitap okumak gibi şeyler _____ ihtiyaçtır.

❖ Temel ihtiyaçlarımız karşılanmazsa _____ şartlarımız zorlaşır.

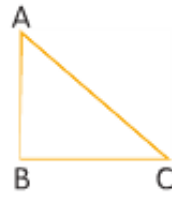
❖ İstekler ve ihtiyaçlar _____ gereksinimlerdir.

❖ İhtiyaçların karşılanması _____ bir zorunluluktur.

❖ Evimiz bizim _____ ihtiyacımızı karşılar.

MATEMATİK

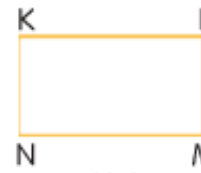
A. Aşağıda verilen üçgen, kare ve dikdörtgeni üç farklı şekilde adlandırınız. Boşluklara yazınız.



____ üçgeni
____ üçgeni
____ üçgeni

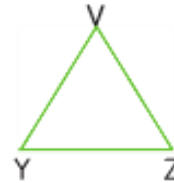
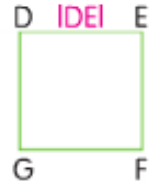


____ karesi
____ karesi
____ karesi



____ dikdörtgeni
____ dikdörtgeni
____ dikdörtgeni

B. Aşağıda verilen kare, dikdörtgen ve üçgenin tüm kenarlarının isimlerini örnekteki gibi yazınız.



C. Aşağıdaki boşlukları doldurunuz.

- Karenin _____ tane kenarı vardır. _____ tane köşesi vardır. Bütün kenarları birbirine _____ tir. Köşe açıları _____ 'dir.
- Dikdörtgenin _____ tane kenarı vardır. _____ tane köşesi vardır. Yalnızca _____ kenarları birbirine _____ tir. Köşe açıları _____ 'dir.

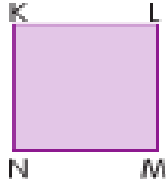
1. Yanda verilen dikdörtgen aşağıdakilerden hangisi ile isimlendirilir?



- A) ORPS
C) SPRO

- B) OPRS
D) PSOR

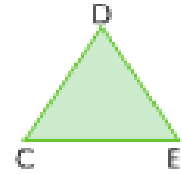
2. Yandaki kare aşağıdakilerden hangisi ile isimlendirilemez?



- A) KLMN
C) MNKL

- B) LMNK
D) NKML

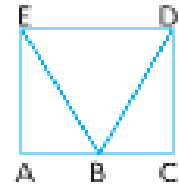
3.



Yukarıdaki üçgen kaç farklı şekilde isimlendirilir?

- A) 4 B) 5 C) 6 D) 3

4.



Yukarıdaki şekilde aşağıdakilerden hangisi **yoktur**?

- A) ABC üçgeni B) BDC üçgeni
C) ACDE karesi D) EAB üçgeni