

Aşağıdaki ifadeleri tamamlayınız.

- 12 fındığın yarısı6..... fındıktır.
- 16 elmanın yarısı elmadır.
- 20 yumurtanın yarısı yumurtadır.
- 8 armudun yarısı armuttur.
- 14 cevizin yarısı cevizdir.
- Bir düzine kalemin yarısı kalemidir.
- Bir deste silginin yarısı silgidir.
- 18 kayısının yarısı kayısıdır.



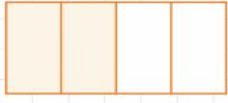

Aşağıdaki ifadeleri tamamlayınız.



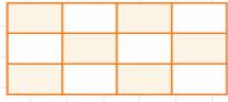
- 8 tebeşirin çeyreği2..... tebeşirdir.
- 12 kalemin çeyreği kalemidir.
- 16 silginin çeyreği silgidir.
- 20 muzun çeyreği muzdur.
- 1 düzine defterin çeyreği defterdir.
- 40 sayısının yarısının yarısı dur.
- 24 sayısının yarısının yarısı dir.
- 100 sayısının yarısının yarısı tir.

BÜTÜN - YARIM

→ Aşağıdaki şekillerin altına boyalı kısımlara göre yarım veya bütün yazalım.

Aşağıdaki şekillerin altına boyalı kısımlara göre yarım veya bütün yazalım.



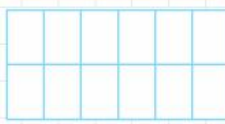
A  B  C  D 




E  F  G 

ÇEYREĞİNİ BOYA

→ Aşağıdaki şekillerin çeyreklerini boyayalım. Kesir şeklinde yazalım.

Aşağıdaki şekillerin çeyreklerini boyayalım. Kesir şeklinde yazalım.

Boşluklara uygun rakamları yazalım.

$$\begin{array}{r} \dots 5 \\ + 2 \dots \\ \hline 88 \end{array}$$
$$\begin{array}{r} 3 \dots \\ + \dots 7 \\ \hline 77 \end{array}$$
$$\begin{array}{r} 42 \\ + \dots \dots \\ \hline 96 \end{array}$$

$$\begin{array}{r} 2 \dots \\ + \dots 9 \\ \hline 99 \end{array}$$
$$\begin{array}{r} \dots \dots \\ + 36 \\ \hline 87 \end{array}$$
$$\begin{array}{r} 5 \dots \\ + \dots 2 \\ \hline 85 \end{array}$$

$$\begin{array}{r} 4 \dots \\ + \dots 3 \\ \hline 72 \end{array}$$
$$\begin{array}{r} 39 \\ + \dots \dots \\ \hline 56 \end{array}$$
$$\begin{array}{r} \dots 8 \\ + 3 \dots \\ \hline 83 \end{array}$$

Yan yana verilen toplama işlemlerinde verilmeyen toplananları bulalım.

$30 + \dots = 70$



$\dots + 16 = 86$

$30 + \dots = 94$

$\dots + 20 = 43$

$10 + \dots = 55$

$60 + \dots = 99$

$\dots + 15 = 65$

$88 + \dots = 88$

$\dots + 28 = 88$

$\dots + 50 = 90$

$42 + \dots = 92$

$\dots + 10 = 72$

Toplama dikkat ederek toplananları eşleştirelim.

17	•	•	20	17	•	•	20
20	•	•	39	15	•	•	26
1	•	•	23	11	•	•	22

Toplam 40

Toplam 37