

Adı:
Soyadı:



1/G Çalışma Kağıdı



Tarih
...../...../2019

1. Aşağıdakilerin hangisinde gök cisimleri büyükten küçüğe doğru sıralanmıştır?

- A) Güneş - Dünya - Ay
- B) Ay - Güneş - Dünya
- C) Güneş - Ay - Dünya

2. Mevsimlerle ilgili aşağıdakilerden hangisi yanlıştır?

- A) Bir yılda dört mevsim vardır.
- B) İlkbaharda, göçmen kuşlar sıcak yerlere göç eder.
- C) Sonbaharda ağaçlar yapraklarını döker.

- Çöpleri çöp kutularına atmalıyız.
- Pil ve plastik gibi atıkları geri dönüşüm kutusuna atmalıyız.
- Kirli suları denize boşaltmalıyız.
- Piknik yaptıktan sonra çöplerimizi toplamalıyız.

3. Yukarıdakilerden kaç tanesi çevre temizliği için yapılmalıdır?

- A) 2
- B) 3
- C) 4



4. Hangi mevsimin görseli yukarıda verilmemiştir?

- A) İlkbahar
- B) Yaz
- C) Sonbahar

5. Atatürk'ün hayatı ile ilgili bilgilerden hangisi yanlıştır?

- A) Annesinin adı Zübeyde Hanım'dır.
- B) Atatürk, İstanbul'da doğmuştur.
- C) Babasının adı Ali Rıza Efendi'dir.

Tabloda millî bayramlarımız ve kutlandıkları günler eşleştirilmiştir.

6. Hangi eşleştirme yanlıştır?




A) Cumhuriyet Bayramı	29 Ekim
B) Ulusal Egemenlik ve Çocuk Bayramı	19 Mayıs
C) Zafer Bayramı	30 Ağustos

Polis: 1-5-5 Ambulans : 1-1-0 Jandarma: 1-5-6

7. Yukarıdaki acil durum numaralarından hangisi yanlış yazılmıştır?

A) Polis B) Ambulans C) Jandarma

8. Hangi eşleştirme yanlıştır?

A) Bitkisel Besin	→		Süt
B) Hayvansal Besin	→		Peynir
C) Bitkisel Besin	→		Havuç



9. Bir öğrencinin gün içinde yaptıklarının oluş sırasına göre numaralandırılışı hangisidir?

A) 4 - 2 - 3 - 1 B) 3 - 2 - 1 - 4 C) 2 - 1 - 4 - 3

10. Hangisi sınıfımızın şeref köşesinde bulunmaz?

- A) Okulumuzun tarihçesi
B) Atatürk'ün resmi
C) İstiklâl Marşı