

Adı:  
Soyadı:



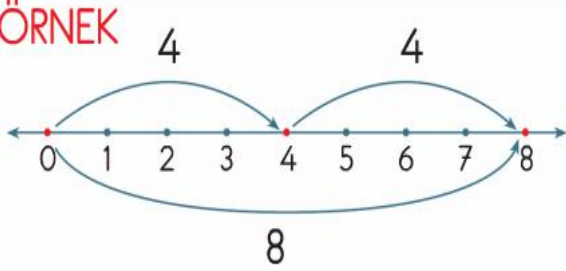
Matematik  
Çalışma Kağıdı



Tarih  
...../...../2018

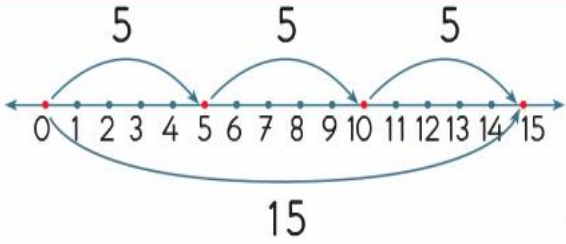
Sayı Doğrusunda Çarpma İşlemi Yapalım

ÖRNEK



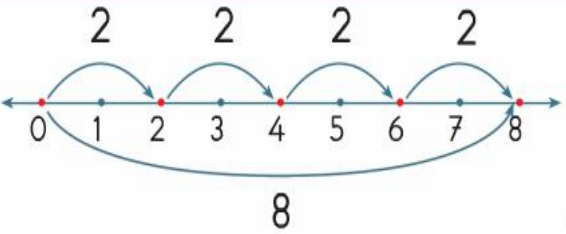
$$\begin{array}{r} 4 \\ \times 2 \\ \hline 8 \end{array}$$

$$2 \times 4 = 8$$



$$\begin{array}{r} 5 \\ \times \dots \\ \hline \dots \end{array}$$

$$\dots \times \dots = \dots$$

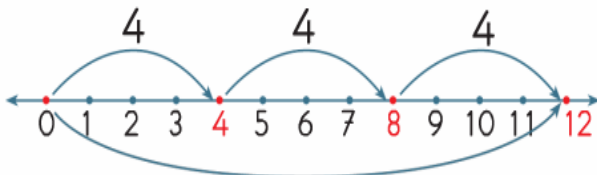


$$\begin{array}{r} \dots \\ \times \dots \\ \hline \dots \end{array}$$

$$\dots \times \dots = \dots$$

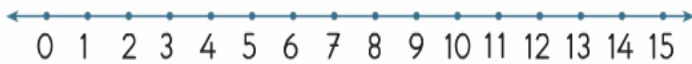
ÖRNEK

$$3 \times 4 = 12$$



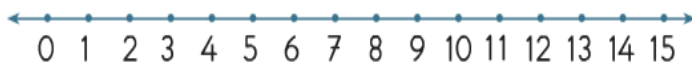
3 kere dört, on iki eder.

$$2 \times 4 = 8$$



.....

$$5 \times 3 = 15$$



.....

Zihinden Kat Problemi Yap.  
Sonuçları boşluğa yaz.

3'ün 5 katının 4 eksiği kaç eder?

3'ün 2 katının 6 fazlası kaç eder?

3'ün 7 katının 4 fazlası kaç eder?

3'ün 5 katı 10'dan kaç fazladır?

3'ün 8 katı 20'den kaç fazladır?

4'ün 2 katının 7 fazlası kaç eder?

4'ün 5 katı kaç deste eder?

4'ün 6 katı kaç düzine eder?

4'ün 7 katı 30'dan kaç eksiktir?

Aşağıdaki çarpma işlemlerini yapınız.

$$\begin{array}{r} 24 \\ \times 2 \\ \hline \end{array}$$

$$\begin{array}{r} 32 \\ \times 3 \\ \hline \end{array}$$

$$\begin{array}{r} 44 \\ \times 2 \\ \hline \end{array}$$

$$\begin{array}{r} 14 \\ \times 2 \\ \hline \end{array}$$

$$\begin{array}{r} 13 \\ \times 3 \\ \hline \end{array}$$

$$\begin{array}{r} 28 \\ \times 1 \\ \hline \end{array}$$

$$\begin{array}{r} 23 \\ \times 2 \\ \hline \end{array}$$

$$\begin{array}{r} 32 \\ \times 4 \\ \hline \end{array}$$

$$\begin{array}{r} 12 \\ \times 4 \\ \hline \end{array}$$

$$\begin{array}{r} 23 \\ \times 3 \\ \hline \end{array}$$

$$\begin{array}{r} 68 \\ \times 0 \\ \hline \end{array}$$

Aşağıdaki ifadeleri tamamlayalım.

2'nin 2 katı .....4..... eder.

2'nin 6 katı ..... eder.

2'nin 3 katı ..... eder.

2'nin 7 katı ..... eder.

2'nin 4 katı ..... eder.

2'nin 8 katı ..... eder.

2'nin 5 katı ..... eder.

2'nin 9 katı ..... eder.

Aşağıdaki ifadeleri tamamlayalım.

3'ün 2 katı .....6..... eder.

3'ün 6 katı ..... eder.

3'ün 3 katı ..... eder.

3'ün 7 katı ..... eder.

3'ün 4 katı ..... eder.

3'ün 8 katı ..... eder.

3'ün 5 katı ..... eder.

3'ün 9 katı ..... eder.

Aşağıdaki ifadeleri tamamlayalım.

4'ün 2 katı .....8..... eder.

4'ün 6 katı ..... eder.

4'ün 3 katı ..... eder.

4'ün 7 katı ..... eder.

4'ün 4 katı ..... eder.

4'ün 8 katı ..... eder.

4'ün 5 katı ..... eder.

4'ün 9 katı ..... eder.

Aşağıdaki ifadeleri tamamlayalım.

5'in 2 katı .....10..... eder.

5'in 6 katı ..... eder.

5'in 3 katı ..... eder.

5'in 7 katı ..... eder.

5'in 4 katı ..... eder.

5'in 8 katı ..... eder.

5'in 5 katı ..... eder.

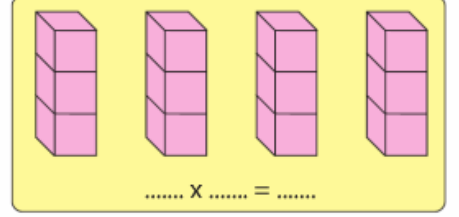
5'in 9 katı ..... eder.

### Mini Testim



Yukarıdaki sürahi 4 su bardağı su ile dolmaktadır. Kova ise 3 sürahi su ile dolmaktadır. **Buna göre, kova bardak ile doldurulursa kaç bardak su alır?**

- A) 8 B) 10 C) 12



Yukarıda verilenlere göre, belirtilen işlemin sonucu kaçtır?

- A) 16 B) 14 C) 12

Bir basamaklı en büyük sayı ile 4'ün çarpımı kaçtır?

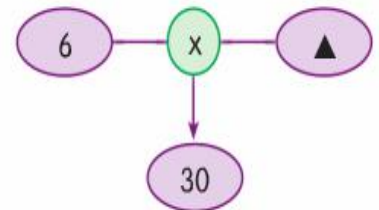
- A) 40 B) 36 C) 32

Öner, 7 yaşındadır. Ablasının yaşı, Öner'in yaşının 3 katından 2 fazladır. **Öner'in ablası kaç yaşındadır?**

- A) 21 B) 23 C) 12

Sema, 9 yaşındadır. Annesinin yaşı, Sema'nın yaşının 4 katıdır. **Sema doğduğunda annesi kaç yaşındaydı?**

- A) 27 B) 24 C) 20



Yukarıdaki işlemde verilmeyen çarpan kaçtır?

- A) 4 B) 5 C) 6

Adı:  
Soyadı:



Türkçe  
Çalışma Kağıdı



Tarih  
...../...../2018



### ASYA'NIN SARI SAÇLARI



Bir varmış, bir yokmuş. Çok eski zamanlarda küçük bir bahçede, çiçeklerin tam ortasında, tek katlı beyaz bir ev varmış. Bu evde sarı saçlı, mavi gözlü, al yanaklı; Asya adında 8-10 yaşlarında bir kız çocuğu, annesi Meriko ile beraber yaşamış. Annesi, her sabah, anneannesinden kalma bir kemik tarak ile kızının saçlarını taramayı pek severmiş. Bir saat, iki saat hiç bıkmadan usanmadan taramış. Sonra da tarağın dişlerine takılan, yere dökülen tellerini toplar; onları pembe mendilinin içine sarar bir çekmeceye saklamış.



Meriko, haftada bir kere, karanlık çöker çökmez Asya'nın altın sarısı tellerinden birisini alır, bahçedeki o güzel çiçeklerden birinin içine usulca koyarmış. Ertesi sabah da aynı çiçek Meriko'ya bir altın verirmiş. Anne kız böyle yaşar giderlermiş işte. Kimseye zararları yokmuş. Kimseye de muhtaç değillermiş.

Günlerden bir gün, kadının biri, bir köşede dururken Meriko'nun çiçekten aldığı altını görmüş. Hayret etmiş. gözlerine inanamamış. Aynı gün akşamı, üzerine eski püskü, yırtık pırtık giysiler giyip evin kapısına gelmiş. Eliyle kapıya birkaç kere vurmuş.

Kapıyı açan Meriko, karşısında perişan durumda o kadını görünce gülümseyerek, "Buyrun!" demiş. Kadın iki büklüm, "Bu gece beni misafir edin." diye yalvarmış. Meriko, kadına pek acımış, onu içeri almış. Sıcak çorba ikram etmiş. Akşam çay içip pasta yemişler. Uyuma vakti gelince Meriko, yere iki tane yatak sermiş. Kadın yataklardan birine yatmış. Meriko da kızıyla birlikte diğer yatağa yatmış.

Gece yarısı kadın yataktan kalkmış. Mışıl mışıl uyuyan Asya'nın saçlarını kökünden kesmiş. İşte o an ne olduysa olmuş, Asya'nın saçının telleri birleşerek sapsarı tüylü bir papağan olup odanın içinde oradan oraya uçmaya başlamış ve kadına saldırmış. Meriko ile Asya sese uyanmışlar. Korkudan ne yapacağını şaşırان kadın, kapıyı açıp arkasına bile bakmadan hızla kaçmış. Papağan, anne ile kızına olanları bir bir anlatmış. Meriko, yaptığı iyiliğe karşı kadının yaptıklarına çok üzülmüş, ancak olan olmuş bir kere.

Aradan birkaç ay geçmiş. Asya'nın saçları uzamış. Yine eskisi gibi taranacak hale gelmiş. Anne, kız ve sevimli papağan birlikte yaşamaya devam etmişler.

O kadına gelince onu bir daha oralarda gören hiç olmamış.

Anonim

Aşağıdaki soruları, okuduğunuz masala göre cevaplayınız.

Soru: 1

Masaldaki ev için aşağıdakilerden hangisi söylenemez?

- A) Küçük bir bahçedeymiş.
- B) Beyaz bir evmiş.
- C) İki katlı ve büyük bir evmiş.



Soru: 2

Meriko, altını kimden ya da nereden almıyormuş?

- A) Kapıya gelen kadından
- B) Saç telini koyduğu çiçekten
- C) Yastığının içindeki yünlerden

### Mini Test

Soru: 3

Meriko, kapıya gelen kadına nasıl davranmış?

- A) Acımış, misafir etmiş.
- B) Eve almamış, kovmuş.
- C) "Git, yarın gel." demiş.

Soru: 4

Kadının kestığı saçlar ne olmuş?

- A) Yere dökülmüş.
- B) Papağana dönüşmüş.
- C) Hepsi altına dönüşmüş.

..... adam, elinde bastonu ile ..... sokakta ağır ağır ilerliyordu.



Yukandaki cümlede noktalı yerlere sıra ile hangi sözcükler yazılırsa kırmızı renkteki sözcüklerin özelliğini belirtmiş olur?

- A) herkes - cadde
- B) yaşlı - dar
- C) insan - yol

"Neşeli maymun, yüksek ağaca hızla tırmandı." cümlesinde hangi sözcük maymunun özelliğini bildirmektedir?

- A) hızla
- B) yüksek
- C) neşeli

Yayalar için kırmızı ışık yanarken karşıya geçmeye çalışmak tehlikelidir.



Yukandaki görseli açıklayan cümlede varlığın hangi özelliğini bildiren bir sözcük vardır?

- A) rengini
- B) sayısını
- C) durumunu

## ETKİNLİK-

Aşağıdaki noktalı yerlere, kenarlardaki ön adlardan uygun olanları yazınız.

Leylek ..... gagasını açtı.



yaşlı

..... fasulye yemeğini kim sevmez?



yarım

Otobüste ..... bayana yer verdim.



kuru

Senin kadar ..... birini, hiç görmedim.



elli

Simit, kantinde ..... kuruşa satılıyor.



uzun

..... saat sonra film başlayacak.



şanslı

### Varlığın Özelliği Neyi Bildiriyor

	BIÇİM	DURUM	RENK	SAYI	SIRA
kuru soğan	<input type="radio"/>	<input checked="" type="radio"/>	<input type="radio"/>	<input type="radio"/>	<input type="radio"/>
iki kardeş	<input type="radio"/>	<input type="radio"/>	<input type="radio"/>	<input type="radio"/>	<input type="radio"/>
kareli defter	<input type="radio"/>	<input type="radio"/>	<input type="radio"/>	<input type="radio"/>	<input type="radio"/>
pembe kazak	<input type="radio"/>	<input type="radio"/>	<input type="radio"/>	<input type="radio"/>	<input type="radio"/>
ikinci sınıf	<input type="radio"/>	<input type="radio"/>	<input type="radio"/>	<input type="radio"/>	<input type="radio"/>
sisli hava	<input type="radio"/>	<input type="radio"/>	<input type="radio"/>	<input type="radio"/>	<input type="radio"/>
oval tepsi	<input type="radio"/>	<input type="radio"/>	<input type="radio"/>	<input type="radio"/>	<input type="radio"/>

## ETKİNLİK-

Aşağıdaki özellik bildiren sözcüklerden sonraki kutulara, belirten özelliğe uygun birer varlık adı yazınız.

yaşlı

çizgili

tembel

beyaz

uzun

soğuk

yassı

uzak

## Görsellere Uygun Üç Özellik Yaz



..... gül

..... gül

..... gül



..... kitap

..... kitap

..... kitap

### Oku ve Anla

Yıllar önce, köyün birinde bir çoban yaşarmış. O daha küçükken bir deprem olmuş. Annesini ve babasını depremde kaybetmiş. Babası sağlığında oğluyla koyun otlatmaya gidermiş. Koyunları otlatırken Garip birazcık yaramazlık yapsa, koyunlarla oynarken onların canlarını azıcık yaksas;

— Oğlum, onlar bize köylünün emaneti. Sakın canlarını yakma. Onları koru, dermiş.

**Garip, köyde hangi hayvanları otlatıyormuş?**

A)




Tavuklar

B)



Koyunlar

C)



İnekler

**Aşağıda verilenlerden hangisini, babasının Garip'i uyarmasının sebepleri arasında sayamayız?**

- A) Yaptığı yaramazlıklar
- B) Koyunların canlarını acıtması
- C) Köylülerin sözlerini dinlememesi

**Yukarıdaki hikâyeden çıkaracağımız ders, verilenlerden hangisi olabilir?**

- A) Verilen emanetlere iyi bakmalıyız.
- B) Büyüklerin her dediğini yapmalıyız.
- C) Her zaman çevremizi temiz tutmalıyız.