

Adı:  
Soyadı:



TÜRKÇE  
4/F Çalışma Kâğıdı



Tarih  
...../...../2019

Serhat'ın babasının tayini Ankara'ya çıkmıştı. Ankara'ya gidince Serhat da yeni okuluna başlayacaktı. Yeni bir okula başlama düşüncesi Serhat'ı sevindirdi. Yeni arkadaşlar edinmek, yeni insanlar tanımak ona heyecan verirdi. Bir gün arkadaşı Alper:

– Ben iyi ki hiç okul değiştirmedim, yoksa nasıl davranacağımı bilemezdim, dedi.

Serhat, gayet kendine güvenli bir edayla:

– Sihirli sözcükler bana her zaman yardımcı olur, diye karşılık verdi. Alper, sihirli sözcükleri hemen aklından geçirdi. Bunu hiç düşünmemişti. “Teşekkür ederim, özür dilerim, lütfen, rica ederim, afedersiniz, sağ ol, tebrik ederim.” sözleri çok işine yarayabilirdi. Serhat, yüzünde sıcak bir gülümsemeyle devam etti. Biliyor musun, yüzümde güneş sıcaklığında, bulut yumuşaklığında gülümsemeyi eksik etmem. İşte o zaman yeni gittiğim sınıftaki tüm çocukları bekleğimden beri tanıyormuşum gibi oluyor.

Serhat okuluna başladığı ilk gün gözüne kestirdiği bir sıranın yanına giderek:

– Merhaba, benim adım Serhat Tosun, rica etsem yanınıza oturabilir miyim?

– Tabi ki oturabilirsin. Sınıfımıza yeni gelen arkadaşımızın galiba. Benim adım İrem.

O sırada öğretmenleri içeri girdi. Serhat'ı diğer çocuklarla tanıştırdı. Uzun boylu, kısa boylu, zayıf, kilolu, kıvrık saçlı, yeşil gözlü... hepsi farklı görünüşlü bir sürü çocuk vardı.



**Etkinlik C:** Aşağıdaki soruları metne göre cevaplandırınız.

Babasının tayini nereye çıkmış?



Serhat yeni okula gideceği için neden seviyor?



Serhat yeni okulunda ilk gün ne yaptı?



Serhat' ta yeni okul endişesi neden yokmuş?



Serhat gülümseme ile ilgili ne düşünüyor?



**Etkinlik A:** Parçada geçen sözcükler ile anlamlarını eşleştirilim.

gözüne kestirmek	eda	güven	sihirli
? A	? B	? C	? D

**Etkinlik B:** Aşağıdaki cümlelerde boş bırakılan yere uygun sözcükleri yazalım.

? özür dilerim	? Afedersiniz.	? tebrik ederim	? teşekkür ederim
-------------------	-------------------	--------------------	----------------------

Korkmadan, çekinmeden, kuşku duymadan inanma ve bağlanmadır.	.....
Kısaca büyü, etkileyici olarak tanımlıyoruz.	.....
Bir işi başarabileceğine, yapabileceğine inanmak anlamındadır.	.....
Kısaca durum, davranış, tavır olarak açıklanabilir.	.....

Yazdığın şiiirden dolayı seni .....	.....
Bilmeden çarpmıştım, .....	.....
Beni yalnız bırakmadığın için .....	.....
..... bir şey sorabilir miyim?	.....

Metinde geçen çoğul durumda olan sözcüklerden bularak yazalım.

? .....	? .....
? .....	? .....
? .....	? .....

Metinde geçen özel isimleri bularak yazalım.

? .....	? .....
? .....	? .....

Adı:  
Soyadı:



Sosyal  
4/F Çalışma Kâğıdı



Veli İmza

.....

### Sosyal Bilgiler



**Etkinlik A:** Aşağıdaki boş bırakılan yerleri yukarıda verilen kavramlardan uygun olanı ile dolduralım.

1. Aile bireyleri birbirlerine güçlü .....  
bağlarıyla bağlıdır.

2. Aile tarihi hazırlarken edindiğimiz bilgileri..... sıraya koymalıyız.

3. ...., kökleri geçmişe doğru uzanan toplumsal bir kurumdur.

4. ...., olayların tanığı olan kişilerle yapılan söyleşilere dayanılarak yazılır.

5. Aile tarihi çalışması yaparken ailemizin ..... doğru bir yolculuğa çıkarız.

**Etkinlik B:** Aşağıda verilen ifadeler doğru ise "D", yanlış ise "Y" bölümünü işaretleyelim.

Ailemizin geçmişini bilmek aile birliğini ve akrabalık bağlarının devam ettirebilmek için gereklidir.

D

Y

Aile tarihimizi kütüphanedeki kitaplarda hazır hâlde bulabiliriz.

D

Y

Aile tarihi yazma çalışmamıza mutlaka babamızla görüşerek başlamalıyız.

D

Y

Sözlü tarih sadece olayların tanığı olan kişilerle yapacağımız söyleşilerle yapılabilir.

D

Y

Aile tarihimizi oluştururken yazılı ve görsel kaynaklardan ve çeşitli nesnelere de yararlanırız.

D

Y

Sözlü tarih çalışmasının ilk aşaması görüşme kayıtlarını düzenleyerek yazılı hale getirmektir.

D

Y

Aile tarihi çalışması yaparak ailemizin bundan sonraki planları hakkında bilgilere ulaşabiliriz.

D

Y

Aile tarihi çalışması hazırlarken edindiğimiz bilgileri kronolojik olarak yazmalıyız.

D

Y

### Mini Test

1. Dünya'nın hareket çeşitlerinin sayısı aşağıdakilerden hangisidir?

- A) 1 B) 2  
C) 3 D) 4

2.



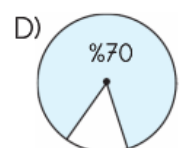
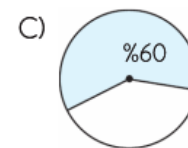
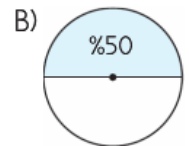
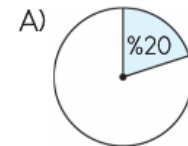
Dünya'nın görseldeki hareketine verilen ad aşağıdakilerden hangisidir?

- A) Dönme B) Dolanma  
C) Sallanma D) İleri - geri

3. Aşağıdakilerden hangisi Dünya'nın Güneş etrafındaki dolanımının sonuçlarından biridir?

- A) Havanın gün içinde ısınıp soğuması  
B) Gündüz ve gecenin birbirini takip etmesi  
C) Gündüz süresinin uzayıp kısalması  
D) Gece ve gündüzün meydana gelmesi

4. Vücutumuzdaki su oranı aşağıdaki grafiklerin hangisinde doğru verilmiştir?



Enes SERT

4/F Sınıfı Çalışmaları