

Kültür ve Miras - 2

1. Türklerin konargöçer (göçebe) bir yaşam tarzı benimsemesinin, aşağıdakilerden hangisinin üzerinde etkisi olduğu söylenemez?

- A) Türklerin daha çevik ve atik olmasında
- B) Eşyaların kolay taşınır yapılmasında
- C) Yazılı hukuk kurallarının yapılmasında
- D) Hayvancılık ile uğraşılmasında


2. Aşağıdakilerden hangisi ilk Türk Devletlerinde ordunun özelliklerinden biri değildir?

- A) Savaşlarda hilal taktiğinin uygulanması
- B) Ordunun paralı askerlerden oluşturulması
- C) Ordunun onlu sisteme göre düzenlenmesi
- D) Ordu-millet anlayışının olması

3. İlk Türk Devletleriyle ilgili olarak aşağıda verilen bilgilerden hangisi doğru değildir?

- A) Uygurlar yerleşik hayata geçtikleri için kalıcı eserler vermişlerdir.
- B) Çinicilik, dokumacılık ve ahşap süslemeciliği geleneksel Türk sanatlarından.
- C) Orta Asya'da Türklerin eşyaları ve atlarıyla gömüldükleri mezarlara balbal denir.
- D) İlk Türk devletlerinde halı ve kilim dokumalarında hayvan motiflerine yer verilmiştir.

4.



Babam Teoman'ın verdiği on bin kişiden oluşan ve tümen adını verdiğim askerlerimi binli, yüzlü ve onlu gruplara ayırarak başlarına binbaşı, yüzbaşı ve onbaşı atadım. Hızlı hareket etmeleri için ok ve yay gibi hafif silahlarla donattım.

Buna göre Türklerin ordu sistemi ile ilgili aşağıdakilerden hangisine ulaşamaz?

- A) Ok ve yay başlıca silahlarındandır.
- B) Günümüz ordu sistemleri ile benzerlikleri vardır.
- C) Ordu onluk sistem üzerine kurulmuştur.
- D) Turan taktiğini kullanmışlardır.

5. Eski Türklerin yönetim sistemi ile ilgili aşağıda verilen bilgilerden hangisi doğru değildir?

- A) Hükümdarın tanrıdan kut alması
- B) Halkın yönetimde söz sahibi olması
- C) Ülkenin doğu ve batı olmak üzere ikiye ayrılması
- D) Kurultay adı verilen bir danışma meclisinin bulunması

6. İpek Yolu doğuda Çin'i, Asya üzerinden Anadolu ve Avrupa'ya bağlayan tarihî kervan yoludur. Çoğunlukla ipek ve ipekli kumaş taşındığı için 1870 yılında bu yola "İpek Yolu" adı konulmuştur. İpek Yolu toplumlar arasında etkileşimlere neden olmuş bir ticaret yoludur.

Verilen metinde aşağıdaki sorulardan hangisinin cevabına ulaşamaz?

- A) Bu yol ne zaman kullanılmaya başlanmıştır?
- B) İpek Yolu'nda daha çok hangi ürün taşınmaktadır?
- C) İpek Yolu nerede başlayıp nerede bitmiştir?
- D) Bu yola İpek Yolu denilmesinin sebebi nedir?

Kültür ve Miras - 2

7. Aşağıdakilerden hangisi Hun İmparatoru Mete Han'ın Türkler arasında birlik ve beraberliği sağladığını gösterir?

- A) Çin'i baskı altında tutup vergiye bağlaması
- B) Türk boylarını bir bayrak altında toplaması
- C) İpek Yolu'nu kontrol altına alması
- D) Hun ordusunu onluk sisteme göre düzenlemesi

8. Mete Han Asya Hun Devleti'nin başında iken, Çin'deki iç karışıklıklardan da yararlanarak yaptığı seferlerde Çin'i mağlup edip vergiye bağlamış, İpek Yolu'nun denetimini ele geçirmiştir.

Bu bilgidен hareketle aşağıdaki ifadelerden hangisine ulaşamaz?

- A) Asya Hun Devleti ekonomik bir kazanç sağlamıştır.
- B) Asya Hun Devleti Çin'e siyasi üstünlüğünü kabul ettirmiştir.
- C) Çinliler Türklerle bir daha mücadeleye girememişlerdir.
- D) Mete Han, Çin'in içinde bulunduğu karışık durumdan yararlanmıştır.

9. Orta Asya Türk toplumlarında askerlik bir meslek olmaktan çok savaşa her an hazır olunan normal bir yaşam biçimi olarak görülürdü. Diğer toplumlar Türkler için "Ordu Millet" tanımlaması yapmıştır.

Verilen bilgiye göre, Türk ordu teşkilatı ile ilgili aşağıdakilerden hangisi söylenemez?

- A) Askerlik toplumsal bir görevdir.
- B) Türklerde ordu millet anlayışı yerleşmiştir.
- C) Türkler toplum olarak her an savaşa hazırdır.
- D) Türklerde sadece erkekler savaşa katılabilir.

10. Aşağıdakilerden hangisi Dört Halife Dönemi'nin özelliklerinden biri değildir?

- A) Halifelerin seçim yoluyla belirlenmesi
- B) Devlet örgütlenmesinin oluşturulması
- C) Bütün müslümanların eşit kabul edilmesi
- D) Devlete ait resmî para kullanılması

11. Hz. Ömer Dönemi'nde;

- Ülkenin illere ayrılarak uzak illere valiler atanması,
- Merkeze uzak şehirlere ordugâhlar kurulması

düzenlemelerinin yapılmasında aşağıdakilerden hangisinin etkili olduğu söylenebilir?

- A) Sınırların genişlemesinin
- B) Medine'nin başkent olmasının
- C) Fetihlerin duraklamasının
- D) Toplumsal dayanışmanın artmasının

12. Hz. Osman Dönemi'nde;

- I. Kıbrıs'ın fethedilmesi,
- II. Kur'an-ı Kerim'in çoğaltılması,
- III. İran'ın fethinin tamamlanması

gelişmelerinden hangileri İslam Devleti'nin denizcilik faaliyetleri ile ilgilendiğini kanıtlar?

- A) Yalnız I.
- B) Yalnız II.
- C) Yalnız III.
- D) I ve III.



Solunum ve Boşaltım Sistemleri

1. Yaşam için gerekli oksijeni vücut içine almak ve oluşan karbondioksit ile su buharını vücut dışına atmakla görevli sistem aşağıdakilerden hangisidir?

- A) Dolaşım
B) Destek ve Hareket
C) Boşaltım
D) Solunum

2. Akciğerlerimiz ile ilgili verilen bilgilerden hangisi yanlıştır?

- A) Karın boşluğunda bulunur.
B) Solunum sisteminin temel organıdır.
C) Gaz alışverişinin gerçekleştiği alveolleri bulundurur.
D) Biri sağ diğeri sol yanımızda olmak üzere iki tanedir.

3. Uzmanlar, burundan soluk almanın ağızdan soluk almaya göre daha sağlıklı olduğunu belirtmektedir.

Aşağıdakilerden hangisi bu durumun nedenlerinden biri değildir?

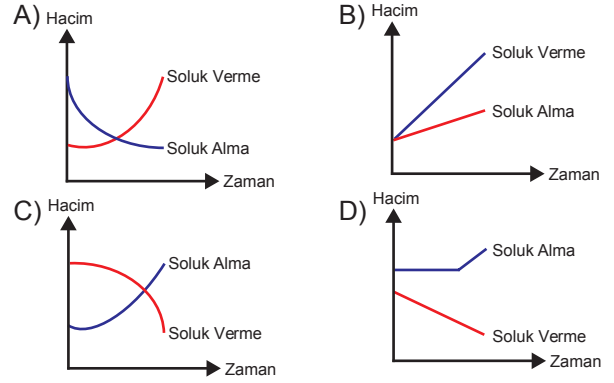
- A) Burundaki kılların havadaki tozları tutması
B) Burundaki kılcıl damarların havayı ısıtması
C) Burundaki mukus tabakasının havayı nemlendirmesi
D) Burun deliklerinin havadan alınan oksijen miktarını kontrol etmesi

4. I. Göğüs kafesi genişler.
II. Diyafram kası kubbeleşir.
III. Akciğerlerin hacmi küçülür.

Soluk verme sırasında yukarıda verilenlerden hangileri gerçekleşir?

- A) Yalnız I.
B) I ve II.
C) II ve III.
D) I, II ve III.

5. Soluk alıp verme sırasında akciğerlerin iç hacminin değişimini gösteren bir grafik çizilirse aşağıdakilerden hangisi elde edilir?



6. Bir öğrenci soluk alıp verme olayları ile ilgili sınıfta yapacağı sunum için aşağıdaki düzeneği hazırlamıştır.

1. Uygulama



2. Uygulama



Bu düzende 1. ve 2. uygulamaları arkadaşlarına sunarken de şu ifadeleri kullanmıştır:

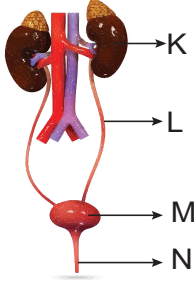
- I. Kırmızı renkli kalın balon ile diyafram kasımızı, yeşil özdeş balonlar ile akciğerlerimizi modelledim.
II. 1. uygulamada; göğüs boşluğumuz yerine kullandığım cam fanus içindeki yeşil balonların tıpkı akciğerlerimizdeki gibi içlerine hava dolarak şiştiğini gözlemledim.
III. 2. uygulamada; yeşil balonların küçülmesini diyafram kasımızın kubbeleşmesi ile akciğerlerimiz içindeki havanın dışarı atılmasına benzettim.

Bu öğrencinin kurduğu düzenek ve çalışması ile ilgili yaptığı açıklamalardan hangileri doğrudur?

- A) I ve II.
B) I ve III.
C) II ve III.
D) I, II ve III.

Solunum ve Boşaltım Sistemleri

7. Boşaltım sisteminde görevli yapı ve organlar aşağıdaki şekil üzerinde harfler ile gösterilmiştir.



Buna göre,

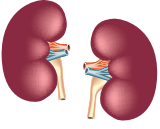

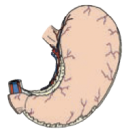

- ---- , idrarın biriktiği yerdir.
- ---- , kanın süzülmesi yeridir.
- ---- , idrarın atıldığı yerdir.
- ---- , idrarı idrar kesesine taşır.

cümlelerinin başındaki boşluklara uygun olan harfler yazıldığında yukarıdan aşağıya oluşan sıralama, hangi seçenekte doğru verilmiştir?

- A) K, L, M, N B) M, K, N, L
C) N, L, M, K, D) L, M, K, N

8. Proteinli besinlerin sindirilmesi sonucu vücudumuzda oluşan amonyak, çok zehirli bir madde olup karaciğer tarafından daha az zararlı olan üreye dönüştürülür.

Vücuttan atılması gereken maddelerden olan ürenin aşağıdaki organlardan hangisi tarafından dışarı atılması sağlanır?

- A)  Böbrekler B)  Kalın bağırsak
C)  Mide D)  Akciğerler

9. Vücudumuzda oluşan ve uzaklaştırılması gereken atık maddelerin bazıları şunlardır.

- Su
- Tuz
- Sindirim atıkları
- Üre
- Su buharı
- Karbondioksit

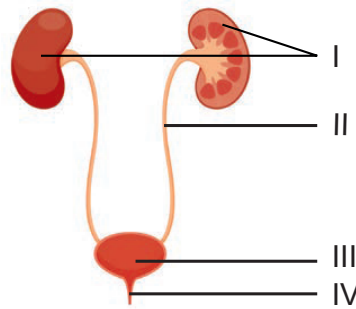
Bu maddelerin hangi organlar tarafından vücuttan atıldığını gösteren aşağıdaki tablonun hangi satırında hata yapılmıştır?

	Organ	Atık Madde
A)	Böbrek	Üre, su, sindirim atıkları
B)	Akciğer	Karbondioksit, su buharı
C)	Deri	Tuz, su
D)	Kalın bağırsak	Sindirim atıkları, su

10. Sağlıklı bir insanın idrarında aşağıdakilerden hangisi bulunmaz?

- A) Üre B) Şeker
C) Su D) Madensel tuz

11.




Verilen görselde numaralanmış bölümlerden hangisi, idrarın vücuttan dışarı atılmadan önce toplanarak depolandığı yerdir?

- A) I. B) II. C) III. D) IV.



Kesirlerle İşlemler

1. 
- Yukarıdaki sayı doğrusunda 0 ile 1 arası 9 eş parçaya ayrılmıştır.
- Buna göre A noktasına karşılık gelen kesir aşağıdakilerden hangisidir?**
- A) $\frac{7}{9}$ B) $\frac{7}{8}$ C) $\frac{2}{10}$ D) $\frac{8}{10}$

2. **Aşağıdaki sıralamalardan hangisi yanlıştır?**

A) $\frac{3}{11} < \frac{7}{11} < \frac{8}{11}$ B) $\frac{9}{7} < \frac{9}{5} < \frac{9}{2}$
C) $\frac{1}{3} < \frac{5}{12} < \frac{5}{6}$ D) $\frac{3}{5} < \frac{15}{4} < \frac{5}{2}$

3. Bir pastanın $\frac{1}{5}$ 'ini Sudenaz, $\frac{3}{20}$ 'ünü Yahya, $\frac{2}{5}$ 'sini Eray ve $\frac{1}{4}$ 'ini Ezgi yemiştir.

Buna göre en fazla pasta yiyen kimdir?

- A) Sudenaz B) Yahya
C) Eray D) Ezgi

4. $\frac{5}{3} + \frac{7}{18} + \frac{2}{9}$ işleminin sonucu kaçtır?

A) $\frac{14}{30}$ B) $\frac{14}{18}$ C) $\frac{41}{54}$ D) $\frac{41}{18}$

5. $3\frac{1}{4} - 1\frac{2}{3}$ işleminin sonucu kaçtır?

A) $1\frac{7}{12}$ B) $1\frac{5}{6}$ C) $2\frac{1}{12}$ D) $2\frac{5}{6}$

6. **Aşağıdaki işlemlerden hangisinin sonucu bir tam sayıdır?**

A) $6 \cdot 1\frac{1}{4}$ B) $15 \cdot \frac{1}{2}$ C) $14 \cdot \frac{1}{6}$ D) $20 \cdot 2\frac{1}{10}$

Kesirlerle İşlemler

7. $2\frac{4}{9} \cdot 1\frac{1}{11}$ işleminin sonucu kaçtır?

- A) $1\frac{2}{3}$ B) $2\frac{2}{3}$ C) $2\frac{4}{99}$ D) $3\frac{4}{99}$

8. Aşağıdaki eşitliklerden hangisi yanlıştır?

- A) $15 : \frac{1}{3} = 45$ B) $8 : \frac{1}{2} = 16$
C) $5 : \frac{1}{3} = 15$ D) $3 : \frac{1}{3} = 1$

9.

$\frac{2}{5}$		$\frac{1}{15}$
	$\frac{7}{30}$	
$\frac{1}{10}$?

Yukarıdaki şekilde her satır ve her sütundaki sayıların toplamı 1'e eşittir.

Buna göre "?" olan kareye hangi sayı yazılmalıdır?

- A) $\frac{2}{3}$ B) $\frac{3}{5}$ C) $\frac{1}{2}$ D) $\frac{3}{10}$

10. $4\frac{1}{5} \div 2\frac{1}{10} \rightarrow \square \div 1\frac{1}{4} \rightarrow \square$

Yukarıdaki şemada \square içerisindeki sayılara \circ içerisindeki işlemler uygulanıp elde edilen sonuç boş kutucuklara yazılacaktır.

Buna göre en sağdaki boş kutucuğa hangi sayı yazılmalıdır?

- A) 3 B) $\frac{5}{2}$ C) $\frac{5}{4}$ D) 1

11. Bir kasadaki 2500 lira paranın $\frac{2}{5}$ 'si çalışanlara veriliyor ve $\frac{3}{25}$ 'ü de diğer giderlere harcanıyor.

Bu kasada geriye kaç lira para kalır?

- A) 1100 B) 1200 C) 1300 D) 1400

12. Yağmur kitabının $\frac{7}{15}$ 'sini okuyor. 10 sayfa daha okusaydı kitabın yarısını okumuş olacaktı.

Buna göre kitabın tamamı kaç sayfadır?

- A) 200 B) 240 C) 300 D) 360



Zamirler

1. Zamirler, ismin yerini tutan sözcüklerdir.

Buna göre,

“Ah bu türküler, köy türküleri
Dilimizin tuzu, biberi
Memleket ahvalini onlardan sor
Kitaplarda değil, türkülerde ara Yemen’i
Öleni, kalanı, gidip gelmeyi”

dizelerindeki altı çizili zamirin, yerini tuttuğu isim aşağıdakilerden hangisidir?

- A) Kitap B) Köy C) Türkü D) Dil

2. İnsan isimlerinin yerini tutan zamirlere kişi zamiri denir.

Buna göre aşağıdaki cümlelerin hangisinde kişi zamiri yoktur?

- A) Onları hemen kitaplığa koysan iyi olur.
B) Toplantıya senin yerine ben katılabilirim.
C) Kendi kopyam imiş meğer şu dünya.
D) Bana bu imkânı siz verdiniz.

3. İsimlerin yerini işaret yoluyla tutan zamirlere işaret zamiri denir.

Buna göre aşağıdaki dizelerde altı çizili sözcüklerden hangisi işaret zamiri değildir?

- A) Burası İstanbul mu böyle yosun kokulu
Gel gitme, vakit erken.
B) O benim milletimin yıldızıdır, parlayacak;
O benimdir, o benim milletimindir ancak.
C) Dönüp bakmaz hiçbirine, aldırmaz
Bütün hayranlarını sesinden tanır.
D) Ötekiler beni anlamaz, ey vefasız
Sen beni anlamadıktan sonra!

4. “O” sözcüğü hem kişi zamiri hem de işaret zamiri olabilir.

Buna göre aşağıdakilerin hangisinde “o” sözcüğü kişi zamiri olarak kullanılmıştır?

- A) Onu dün yokuşun başındaki marketten satın aldım.
B) O bugüne kadar hiçbir arkadaşına kötü söz söylemedi.
C) O benim çok severek okuduğum bir kitaptı.
D) Sizin geçen yıl almayı düşündüğünüz ev o muydu?

5. Belirsizlik bildiren sözcükler bir ismin yerini tutuyorsa belgisiz zamir, bir isimden önce kullanılıyor ve o ismi etkiliyorsa belgisiz sıfat olur.

Buna göre aşağıdaki cümlelerde altı çizili sözcüklerden hangisi belgisiz zamir değildir?

- A) Bardakların birkaçı taşıma esnasında kırılmış.
B) Kimileri böyle durumlarda sabırsız olabiliyor.
C) Kar yağınca insanların birçoğu yolda kalmış.
D) Bazı öğrenciler bahçe kapısında bekliyor.

6. Aşağıdaki cümlelerin hangisinde, anlam belirsizliğini gidermek için cümlenin başına bir kişi zamiri getirilmelidir?

- A) Evim birkaç kilometre uzaktaydı.
B) Çantayı getirmeyi yine unuttum.
C) Oturduğun sandalye kırık olabilir.
D) Endişemizi anlıyorsun değil mi?

Zamirler

7. Onlar ki şafakları bütün dağda denizde

I

Her manzara onlardan akistir içimizde

II

Onlar ki bugün gökte birer kasra çekildi

III

Devrinde, fakat, hangisi mesut olabilir

IV

Bu dizelerde numaralanmış sözcüklerden hangileri zamir değildir?

- A) I ve II. B) I ve IV.
C) II ve III. D) III ve IV.

8. “Bu, şu, o” sözcükleri bir ismin yerini tutarsa işaret zamiri, bir isimden önce kullanılıp o ismi etkilerse işaret sıfatı olur.

Buna göre aşağıdaki cümlelerin hangisinde “şu” sözcüğü zamir görevinde kullanılmıştır?

- A) Ablam şu apartmanda oturuyor.
B) Şu çiçekleri balkona götürelim.
C) Sana en yakışan elbise şu oldu.
D) Yarına kadar şu işleri bitirmeliyiz.

9. Belgisiz zamirler, ismin yerini belirsiz bir şekilde tutan zamirlerdir.

Buna göre aşağıdaki dizelerin hangisinde belgisiz zamir kullanılmamıştır?

- A) Varsın yine bir yudum su veren olmasın,
Baş ucumda biri bana su yok desin de
B) Yıllardır ki bir kılıcım kapalı kında,
Kimsesizlik dört yanımda bir duvar gibi
C) Vur kazmayı dağa Ferhat
Çoğu gitti, azı kaldı.
D) Gurbet o kadar acı ki ne varsa içimde,
Hepsi bana yabancı, hepsi başka biçimde

10. Varlıkların yerini soru yoluyla tutan zamirlere soru zamiri denir.

Buna göre aşağıdaki cümlelerin hangisinde soru zamiri vardır?

- A) Mutfak masasının üzerindeki saati kim aldı?
B) Buraya kadar tek başına nasıl gelmiş?
C) Beni dinlememekte neden ısrar ediyorsun?
D) Ankara'ya gideceğini sana söylemedi mi?

11. **Aysun** : Merve eve gelmedi mi?

Nida : Gelmedi henüz.

Aysun : Nereye gitti acaba?

I

Nida : Kütüphaneye gitmiş.

Aysun : Merve bana bir kitap verecekti.

Nida : Aaa, onu sana vermemi söylemişti bana. Çek-

II

III

meceye koymuştum. İşte, burada.

IV

Bu karşılıklı konuşmada numaralanmış zamirlerle ilgili aşağıdaki açıklamalardan hangisi yanlıştır?

- A) I numaralı zamir, soru zamiridir ve “kütüphane” isminin yerine kullanılmıştır.
B) II numaralı zamir, işaret zamiridir ve “kitap” isminin yerine kullanılmıştır.
C) III numaralı zamir, kişi zamiridir ve “Nida” isminin yerine kullanılmıştır.
D) IV numaralı zamir, belgisiz zamirdir ve “çekmece” isminin yerine kullanılmıştır.

12. **Aşağıdaki cümlelerin hangisinde ismin yerine kullanılmış bir sözcük yoktur?**

- A) Yaklaşık otuz yıldır burada yaşıyoruz.
B) Arkadaşlarımdan bazıları yaz tatilinde kursa gidiyor.
C) Birçoğumuz hayatın sadece olumlu yanlarını görür.
D) Bu dostluğu hiçbir fırtına kolay kolay sarsamaz.

