

Adı:
Soyadı:


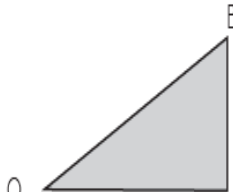

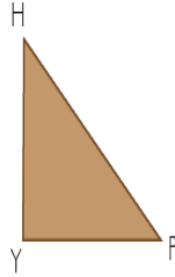
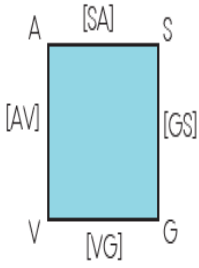


MATEMATİK
4/F Çalışma Kâğıdı

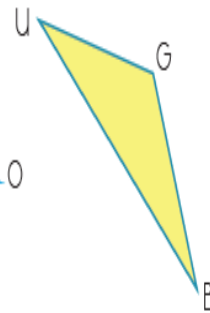
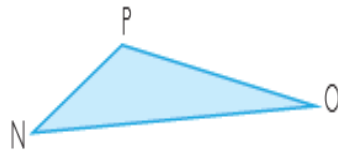
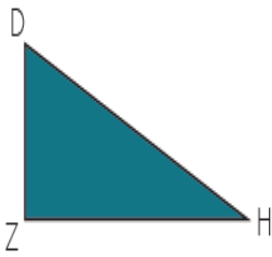
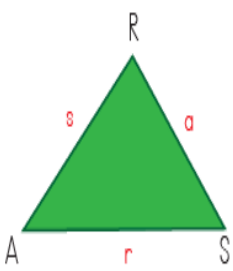


Tarih
...../...../2020

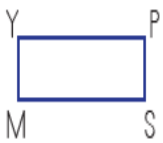
1 Aşağıda yer alan geometrik şekillerin kenarlarını örnekteki gibi isimlendiriniz.



2 Aşağıda verilen geometrik şekillerin kenarlarını örnekteki gibi isimlendiriniz.



3 Aşağıdaki geometrik şekilleri isimlendiriniz. Şekillerin isimlerini örnekteki gibi yazınız.



YMSP Dikdörtgeni



.....

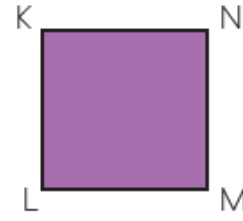


.....

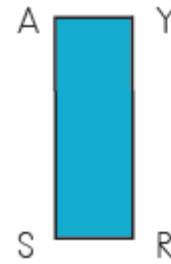


.....

Aşağıdaki geometrik şekillerin istenen kenar uzunluklarını noktalı bölüme yazınız.



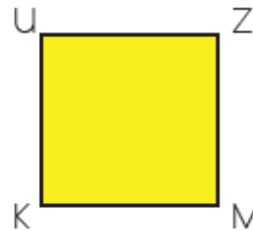
IKLI = 3 cm
INMI =



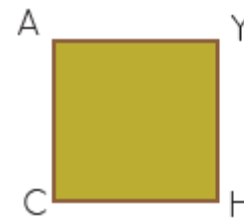
IAYI = 1 cm
ISRI =



ICEI = 7 cm
IDFI =



IUZI = 4 cm
IKMI =



IAYI = 6 cm
IHYI =



IAEI = 2 cm
IOUI =

1 Aşağıda verilen kenar uzunlukları ile bu uzunluklarla oluşabilecek üçgen çeşitlerini eşleştiriniz.

$6\text{cm} - 6\text{cm} - 3\text{cm}$

Eşkenar Üçgen

$2\text{cm} - 4\text{cm} - 5\text{cm}$

$3\text{cm} - 5\text{cm} - 6\text{cm}$

İkizkenar Üçgen

$4\text{cm} - 4\text{cm} - 4\text{cm}$

$3\text{cm} - 3\text{cm} - 3\text{cm}$

Çeşitkenar Üçgen



$4\text{cm} - 7\text{cm} - 4\text{cm}$









$6\text{cm} - 4\text{cm} - 5\text{cm}$

$7\text{cm} - 7\text{cm} - 7\text{cm}$

$2\text{cm} - 1\text{cm} - 2\text{cm}$

EĞLENELİM

Aşağıdaki bulmacayı *     şekillerini kullanarak tamamlayınız. Şekillerin her birini, her satırda ve her sütunda bir kez kullanınız.

| | | | |
|-------------------------------------------------------------------------------------|-------------------------------------------------------------------------------------|-------------------------------------------------------------------------------------|-------------------------------------------------------------------------------------|
| |  |  | |
| | | | |
|  |  |  |  |
|  |  | | |

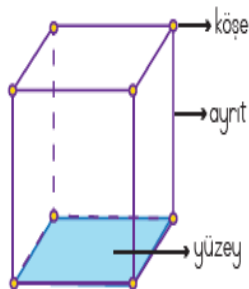
ÖĞRENELİM

Betül, zeka küpüyle oynarken küp cisminin özelliklerini inceliyor.

 Küpün 8 köşesi vardır.

 Bir küpte uzunlukları birbirine eşit olan 12 ayrıntı bulunur.

Altı eş büyüklükteki kare yüzeyin birbirleri ile dik kesisecek şekilde oluşturduğu üç boyutlu şekil, küp olarak adlandırılır.



Eş Küplerle Model Oluşturma



1 küp

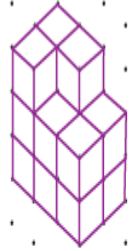
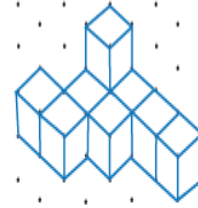
3 küp

4 küp



.....

.....



.....

.....

Eş Küp Çizme

