

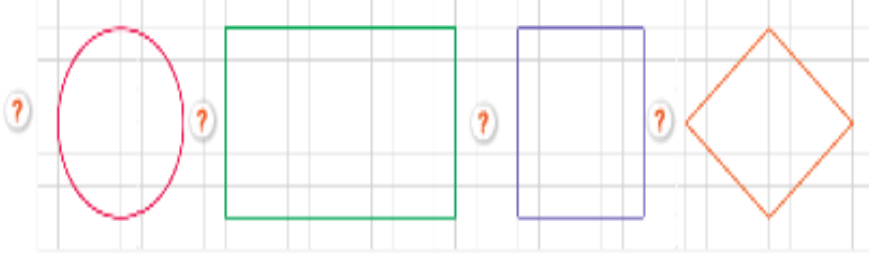
Adı:
Soyadı:

3.SINIF
ÇALIŞMA YAPRAKLARI

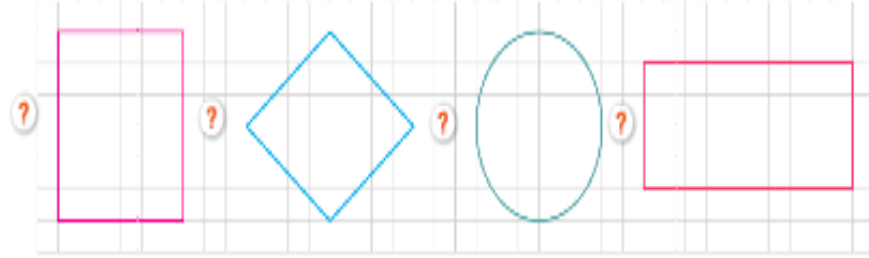
Tarih
...../...../2021

Kesirler

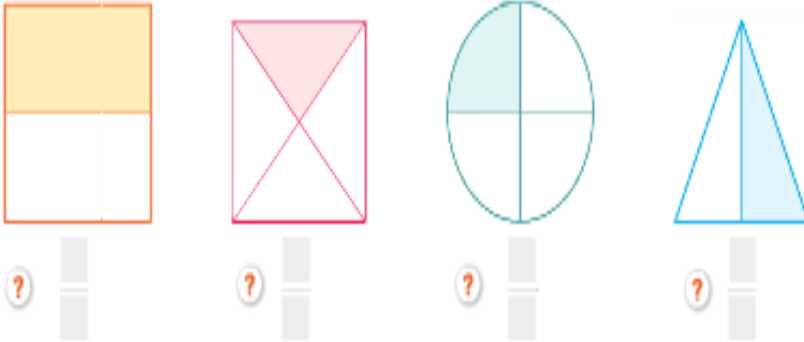
1 Aşağıdaki bütünlerin yarısını boyayınız.



2 Aşağıdaki bütünlerin çeyreğini boyayınız.




3 Aşağıdaki şekillerin boyalı kısmına karşılık gelen kesirleri yazınız.



4 Aşağıdaki nesnelerin yarısını ayırınız.



5 Aşağıdaki nesnelerin çeyrek kadarını ayırınız.



Problem Çözüm

$$\begin{array}{r} \square \quad 6 \\ - \quad \square \quad 4 \\ \hline \square \end{array}$$

Yukarıdaki kalanlı bölme işleminde bölünen en çok kaç olabilir?



Defterime modelle çizdiğim kesir yedide üçtür.

Akın'ın söylediği kesir aşağıdakilerden hangisidir?

- A) $\frac{7}{3}$ B) $\frac{3}{7}$ C) $\frac{7}{7}$



Uğur böceğinin sayısı doğrusu üzerinde bulunduğu nokta hangi kesri ifade eder?

- A) $\frac{5}{10}$ B) $\frac{7}{10}$ C) $\frac{10}{10}$

Bir otobüste 63 yolcu vardır. Bu yolcuların $\frac{1}{7}$ 'i bayan yolcudur.

Buna göre otobüste kaç erkek yolcu vardır?

- $\frac{3}{6}$ İki bölü üç
 $\frac{6}{6}$ Altıda üç
 $\frac{2}{3}$ Altıda altı

Yukarıdaki kesirlerle okunuşları eşleştirilecektir.

Buna göre doğru eşleştirme nasıl olmalıdır?

- A) B) C)

Bir Çokluğun Belirtilen Kesir Kadarnı Bulma

1 Aşağıdaki problemleri çözünüz.

a. 65 öğrencinin $\frac{1}{5}$ 'i tiyatroya gitti.

? Kaç öğrenci tiyatroya gitmiştir?

| | | | | | | | | | |
|--|--|--|--|--|--|--|--|--|--|
| | | | | | | | | | |
| | | | | | | | | | |
| | | | | | | | | | |
| | | | | | | | | | |

ç. Cebimdeki 70 ₺'nin $\frac{1}{7}$ 'ini harcadım.

? Geriye kaç liram kaldı?

| | | | | | | | | | |
|--|--|--|--|--|--|--|--|--|--|
| | | | | | | | | | |
| | | | | | | | | | |
| | | | | | | | | | |
| | | | | | | | | | |

b. Bahçemizdeki 91 çiçeğin $\frac{1}{7}$ 'i soldu.

? Kaç çiçek soldu?

| | | | | | | | | | |
|--|--|--|--|--|--|--|--|--|--|
| | | | | | | | | | |
| | | | | | | | | | |
| | | | | | | | | | |
| | | | | | | | | | |

d. Tabaktaki 60 fındığın $\frac{1}{4}$ 'ini yedim.

? Tabakta kaç fındık kaldı?

| | | | | | | | | | |
|--|--|--|--|--|--|--|--|--|--|
| | | | | | | | | | |
| | | | | | | | | | |
| | | | | | | | | | |
| | | | | | | | | | |

e. Bir kutudaki 84 kalemin $\frac{1}{4}$ 'i kırmızı renktedir. Kutudaki kırmızı kalemlerin sayısı kaçtır?

? Kaç kalemlerin sayısı kaçtır?

| | | | | | | | | | |
|--|--|--|--|--|--|--|--|--|--|
| | | | | | | | | | |
| | | | | | | | | | |
| | | | | | | | | | |
| | | | | | | | | | |

e. Öykü kitabım 64 sayfadır. Kitabımın $\frac{1}{4}$ 'ini okudum. Geriye okumam gereken kaç sayfa kaldı?

? Geriye okumam gereken kaç sayfa kaldı?

| | | | | | | | | | |
|--|--|--|--|--|--|--|--|--|--|
| | | | | | | | | | |
| | | | | | | | | | |
| | | | | | | | | | |
| | | | | | | | | | |

Kesir Elde Etme

2 Aşağıda belirtilen kesirleri model üzerinde gösteriniz.

? 2 tane $\frac{1}{4}$

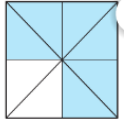
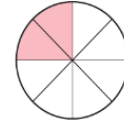
| | | | | | | | | | |
|--|--|--|--|--|--|--|--|--|--|
| | | | | | | | | | |
| | | | | | | | | | |
| | | | | | | | | | |
| | | | | | | | | | |

? 4 tane $\frac{1}{5}$

| | | | | | | | | | |
|--|--|--|--|--|--|--|--|--|--|
| | | | | | | | | | |
| | | | | | | | | | |
| | | | | | | | | | |
| | | | | | | | | | |

? 3 tane $\frac{1}{7}$

| | | | | | | | | | |
|--|--|--|--|--|--|--|--|--|--|
| | | | | | | | | | |
| | | | | | | | | | |
| | | | | | | | | | |
| | | | | | | | | | |



Hangi renkle boyanan modelde $\frac{5}{8}$ kesri gösterilmiştir?

A) Pembe B) Sarı C) Mavi

Bir günümün $\frac{1}{6}$ 'i okulda, $\frac{1}{3}$ 'ü uykuda, $\frac{1}{4}$ 'ü de beslenme ve kişisel bakım için geçiyor.



Duru kalan zamanını ise oyun ve ders çalışmak için ayırmaktadır.

Buna göre Duru'nun oyun ve ders için ayırdığı süre kaç saattir?

Cenk'in dedesi 75 yaşındadır. Cenk'in yaşı dedesinin yaşının $\frac{1}{5}$ 'i kadar, babasının yaşı ise dedesinin yaşının $\frac{3}{5}$ 'ü kadardır.

Buna göre Cenk ve babasının yaşı hangi seçenekte doğru verilmiştir?

| | Cenk | Babası |
|----|------|--------|
| A) | 15 | 45 |
| B) | 12 | 48 |
| C) | 10 | 40 |

Annem 90 ₺ olan parasının $\frac{1}{3}$ 'ü ile bana bir çanta aldı. Kalan parasının $\frac{1}{5}$ 'i ile de defter aldı.

Buna göre annemin kaç lirası kalmıştır?

A) 48 B) 50 C) 60