

Adı:
Soyadı:



Matematik
3/F Çalışma Kağıdı



Tarih
...../...../2018

KONU : Tek ve Çift Doğal Sayılar

1- Aşağıdaki üçlü doğal sayılardan tek olanları kırmızıya boyayınız.

334 474 288
169 287 290

465 564 438
546 348 843

516 521 348
518 445 360

999 886 442
998 340 415

500 303 750
400 742 777

916 980 307
973 306 308

2- Aşağıdaki doğal sayılardan çift olanları boyadığımızda hangi harfi elde ederiz?

444	382	540	336	548	712
76	840	216	322	556	992
201	913	428	526	549	617
777	417	198	248	625	365
19	491	110	230	763	817
919	513	548	304	555	619
885	623	700	872	863	411
707	909	596	488	209	301
111	143	888	222	423	819

3- Aşağıdaki soruları cevaplandırınız.

• Birler basamağında 1, 3, 5, 7 ve 9. bulunan doğal sayılara ne ad verilir?

• Bir basamaklı kaç tane çift doğal sayı vardır?

• Üç basamaklı en büyük doğal sayı kaçtır?

• 0'dan 70'e kadar yedişer saydığımızda kaç tane çift doğal sayı söyleriz?

• Sekizer ileri ritmik sayarken kaç tane tek doğal sayı söyleriz?

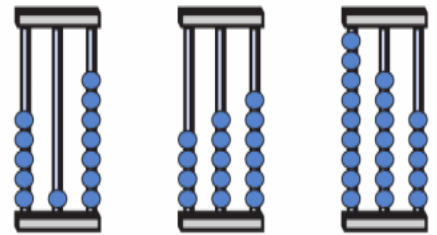
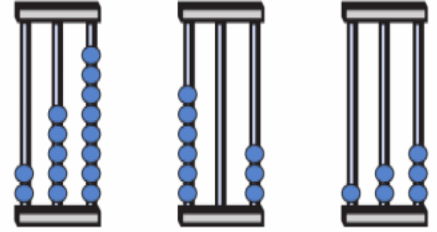
• İki basamaklı kaç tane tek doğal sayı vardır?

4- Aşağıdaki romen rakamları ile doğal sayıları ok çizerek eşleştiriniz.

IV	20
XIII	14
XX	3
XVII	4
IX	7
VII	13
III	9
XIV	17

Etkinlik Yapalım

Aşağıdaki abaküste modellenen sayıları altına yazınız.



Aşağıda verilen sayıları abaküste boncukları dizerek gösteriniz.



305

100

293

Aşağıdaki doğal sayıların basamak adlarını yazınız.

241
603

752
843

605
192

Adı:
Soyadı:

Türkçe
3/F Çalışma kağıdı

Aklın Yolu Birdir...

KONU : Okulun ve Sınıfımızın Kroki - Okulun Bizle Kazandırdıkları

1- Aşağıdaki sınıf kroskisini inceleyerek soruları cevaplayınız.

Yandaki kroki 3-B sınıfının kroskisidir.

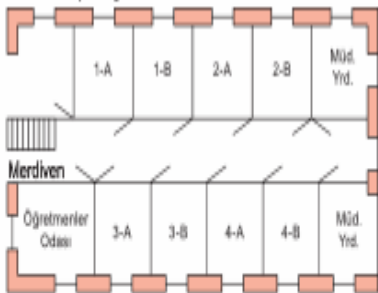
Öğrencilerin isimlerinin ilk harfleri de sıralara yazılmıştır.

- Krokiye göre 3-B sınıfının mevcudu kaçtır?

• Kapı tarafındaki sıra grubunun 3 sırasının sağ tarafında oturan öğrencinin adı nedir?

• 3-B sınıfında Ömer'in yerini tarif ediniz.

2- Aşağıdaki okul kroskisine göre soruları cevaplayınız.



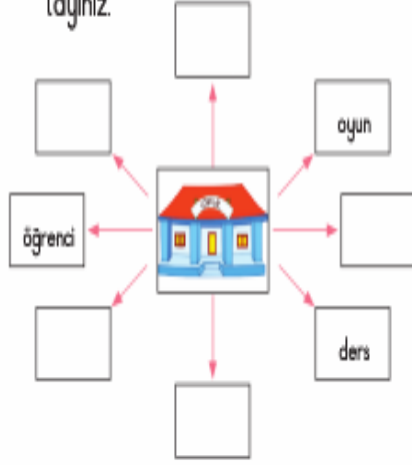
• Merdivenin sağında hangi oda vardır?

• Koridorun sonunda, en solda hangi oda vardır?

• 3-B sınıfının karşısında hangi sınıf vardır?

• Müdür yardımcısı odasının solunda hangi oda vardır?

3- Aşağıdaki kavram şemasını tamamlayınız.



4- Aşağıdaki ifadelerde yer alan noktalı yerlere verilen kelimelerden uygun olanları yazınız.

- okuma ve yazma
- yardımlaşma
- arkadaş
- ödev
- kazandırdıkları
- kültürel
- bilgi
- öğretimi
- çalışkan

- Okul yuvarıdır.
- Okulda bize eğitim ve öğretmenler verir.
- Okulda birçok ediniz.
- Okulun bizlere eğitsel, sosyal ve yönden bir çok katkısı vardır.
- Okulda ve başarılı öğrenci olarak ailemize ve vatanımıza karşı sorumluluklarımızı yerine getiririz.
- Okulda bir öğrenci olarak ve sorumluluklarımızı öğreniriz.
- yı okulda öğreniriz.
- Okul, ve dayanışmanın en üst düzeyde olduğu bir yerdir.
- Okulun bizlere saymakla bitmez.

Aşağıdaki doğal sayıları karşılaştırınız. Karşılaştırırken <, >, = sembollerini kullanınız.

138 225

617 617

965 963

248 284

543 345

470 469

216 216

963 899

524 642

738 786

417 516

747 747

592 589

820 819

693 696

848 847

226 263

529 530

Aşağıdaki doğal sayıları aralardaki sembolere uygun olarak sıralayınız.

419 - 543 - 269 - 399 - 651
..... < < < <

984 - 199 - 597 - 504 - 386
..... > > > >

497 - 501 - 489 - 506 - 511
..... < < < <

748 - 598 - 645 - 712 - 675
..... > > > >

167 - 166 - 169 - 170 - 163
..... < < < <

348 - 843 - 483 - 384 - 438
..... > > > >