

Adı:
Soyadı:



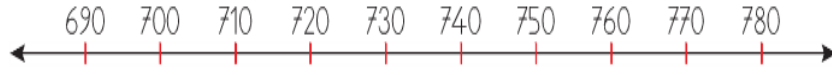
Matematik
3/F Çalışma Kağıdı



Tarih
...../...../2018

Yanlış Bul Doğruyu Yaz

Sayı doğrusuna göre aşağıda verilen sayıları karşılaştırınız. Yanlış olanı bulup doğru işareti koyunuz.



- a. $731 > 699$ b. $780 > 779$ c. $709 > 777$
 $690 < 701$ $759 < 699$ $775 < 729$
 $732 = 723$ $729 > 698$ $719 > 709$

-----Ritmik Saymalar-----

Aşağıdaki ritmik saymaları yaparak boş kutulara uygun sayıları yazınız.

- a. 24'ten başlayarak 60'a kadar **altışar** ritmik sayma



- b. 48'den başlayarak 96'ya kadar **sekizer** ritmik sayma



- c. 35'ten başlayarak 77'ye kadar **yedışer** ritmik sayma



- ç. 18'den başlayarak 72'ye kadar **dokuzar** ritmik sayma



-----Sayı Örüntüsü-----

Aşağıdaki örüntülerin kuralını belirleyip yazınız.

- a. 8 16 24 32 40

Örüntü Kuralı:
..... ritmik sayma

- c. 9 18 27 36 45

Örüntü Kuralı:
..... ritmik sayma

- b. 24 32 40 48 56

Örüntü Kuralı:
..... ritmik sayma

- ç. 21 28 35 42 49

Örüntü Kuralı:
..... ritmik sayma

Şifreyi Bul

Aşağıdaki toplama işlemlerinin sonuçlarını, büyükten küçüğe sıralayarak şifreli kelimeyi bulunuz.

377 $+ 465$	593 $+ 261$	507 $+ 296$	448 $+ 393$
---------------------------	---------------------------	---------------------------	---------------------------

(M) (A) (E) (A)

768 $+ 91$	628 $+ 236$	473 $+ 327$	693 $+ 146$
--------------------------	---------------------------	---------------------------	---------------------------

(L) (P) (M) (i)

429 $+ 378$	653 $+ 286$	486 $+ 328$	624 $+ 251$
---------------------------	---------------------------	---------------------------	---------------------------

(L) (T) (Ş) (O)

939	875	864	859	854	842	841	839	814	807	803	800
○	○	○	○	○	○	○	○	○	○	○	○

Aşağıdaki toplama işlemlerinde her satırda toplamı en büyük olan işlem kutucuğunu boyayınız.

369 $+ 287$	526 $+ 383$	645 $+ 367$	686 $+ 175$
---------------------------	---------------------------	---------------------------	---------------------------

○ ○ ○ ○

479 $+ 479$	563 $+ 396$	378 $+ 499$	618 $+ 225$
---------------------------	---------------------------	---------------------------	---------------------------

○ ○ ○ ○

Adı:
Soyadı:

Türkçe
3/F Çalışma kağıdı


Güneş bir yıldızdır.


Romen Rakamları

Aşağıda verilen Romen rakamlarını "<" veya ">" sembollerinden uygun olanı kullanarak karşılaştırınız.

a. VII XIV b. VIII X c. XX XIX

Taban bloklarının belirttiği sayıları noktalı yerlere yazarak toplama işlemlerini yapınız.

a.  $\begin{array}{r} \dots\dots\dots \\ + \dots\dots\dots \\ \hline \dots\dots\dots \end{array}$

b.  $\begin{array}{r} \dots\dots\dots \\ + \dots\dots\dots \\ \hline \dots\dots\dots \end{array}$

Aşağıda modellenen toplama işlemlerini yapınız.

$\begin{array}{r} \square\square \quad ||||| \quad \textcircled{1} \rightarrow \text{elde} \\ 274 \\ \square \quad |||| \\ + 151 \\ \hline 425 \end{array}$ $\begin{array}{r} \square\square\square\square \quad || \quad \dots \\ 426 \\ \square\square\square \quad \dots \\ + 304 \\ \hline \dots \end{array}$

$\begin{array}{r} \square\square \quad ||||| \quad \dots \\ 296 \\ \square\square \quad |||| \\ + 270 \\ \hline \dots \end{array}$ $\begin{array}{r} \square\square\square \quad |||| \quad \dots \\ 357 \\ \square\square \quad ||| \quad \dots \\ + 243 \\ \hline \dots \end{array}$

$\begin{array}{r} \square\square\square\square \quad \dots \\ 409 \\ \square\square \quad ||||| \quad \dots \\ + 294 \\ \hline \dots \end{array}$ $\begin{array}{r} \square \quad ||||| \quad \dots \\ 186 \\ \square \quad || \quad \dots \\ + 122 \\ \hline \dots \end{array}$

$\begin{array}{r} \square\square \quad |||| \\ 250 \\ \square \quad |||| \\ + 150 \\ \hline \dots \end{array}$ $\begin{array}{r} \square\square\square\square \quad \dots \\ 404 \\ \square\square\square \quad \dots \\ + 306 \\ \hline \dots \end{array}$



Horozun biri bir gün inci bulur.
Alıp onu kuyumcuya doğrular.
Kuyumcu ne istediğini sorar.
O da der ki "Bu galiba mücevher.
Al da bunu bana biraz darı ver.
O benim daha çok işime yarar."

İlk dört soruyu yukarıdaki şiire göre cevaplayınız.

1. Horoz ne bulmuş?
A. inci B. gümüş C. altın
2. Horoz nereye gitmiş?
A. bakkala B. kuyumcuya C. bankaya
3. "Bu galiba mücevher." diyen kimdir?
A. kuyumcu B. horoz C. bankacı
4. Horoz, kuyumcudan ne istemiş?
A. Biraz su B. İncinin parasını C. Yiyecek darı
5. Aşağıdakilerden hangisi gerçek bir ifadedir?
A. Minik kedi bu sırrı kimseye söylememiş.
B. Ağaç, izinsiz meyve alan çocuğa öfkelenmiş.
C. Kafesteki papağan sürekli hareket ediyor.