

Adı:
Soyadı:

MATEMATİK
ÇALIŞMA KAĞIDI



Tarih
...../...../2018



GENEL TEKRAR - 3

(MATEMATİK)

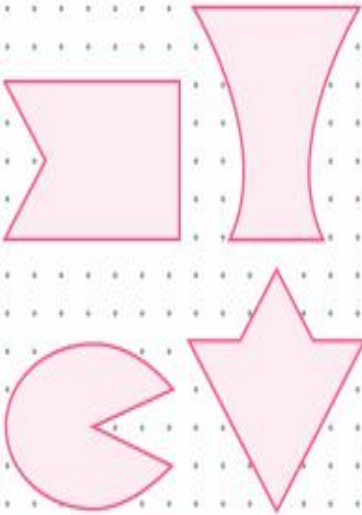
Saat 10.30'dur. İki saat önce ve iki saat sonra saat kaç olur?

Önce

Sonra



Şekillerin simetri doğrularını çizelim.



www.modelgitim.com

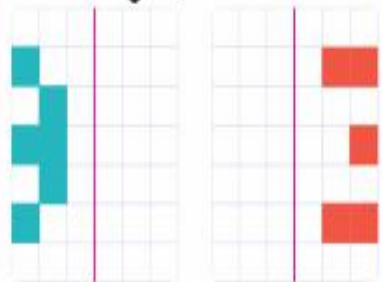
Bir çuval şeker 50 kilogramdır. Bir çuval şekerin önce yarısını, daha sonra 14 kilogramını tükettik. Geriye kaç kilogram şeker kalmıştır?

Bir kova, 5 sürahi su almaktadır. Bir sürahi, 8 su bardağı ile dolmaktadır. Bir kova, kaç su bardağı su ile dolar?

Soruları cevaplayalım.

- 2 çeyrek yarım eder.
- 6 yarım çeyrek eder.
- 8 bütün çeyrek eder.
- 5 bütün yarım eder.

Boyalı karelerle oluşan şekillerin simetriğini çizelim.



ZAMANI ÖLÇME PROBLEM

Ulaş saat 7.00'de kalkıyor. Bir buçuk saat sonra okula gidiyor. Ulaş saat kaçta okulda olur?

Eren 9.30'da okulda oluyor. 8 saat okulda kaldığına göre, okuldan çıktığında saat kaç olur?



Rüzgâr saat 13.00'de uyumuş ve 15.30'da uyanmıştır. Rüzgâr kaç saat uyumuştur?

Sevgi Öğretmen, 7.00'de okula gelmiş ve 12.00'de okuldan çıkmıştır. Sevgi Öğretmen kaç saat okulda kalmıştır?

Selda 12.30'da öğle arasına çıkmış ve bir buçuk saat sonra ise başlamıştır. Selda işe saat kaçta başlamıştır?



İşlemlerde verilmeyenleri yazalım.

$$\dots \times 2 = 6$$

$$5 \times \dots = 5$$

$$3 \times 4 = \dots$$

$$1 \times 3 = \dots$$

$$8 \times \dots = 40$$

$$7 \times \dots = 28$$

$$9 \times \dots = 27$$

$$6 \times 5 = \dots$$

İşlemleri yapalım.



$$\begin{array}{r} 20 \\ \underline{5} \\ \dots \end{array}$$

$$\begin{array}{r} 12 \\ \underline{3} \\ \dots \end{array}$$

$$\begin{array}{r} 15 \\ \underline{5} \\ \dots \end{array}$$

$$\begin{array}{r} 14 \\ \underline{2} \\ \dots \end{array}$$

$$\begin{array}{r} 16 \\ \underline{4} \\ \dots \end{array}$$

$$\begin{array}{r} 18 \\ \underline{3} \\ \dots \end{array}$$

Aşağıdaki işlemlerin sonuçlarını tahmini ve gerçek olarak tabloya yerleştirelim.

	Tahminim	Gerçek Sonuç
$48 - 26$		
$62 - 29$		
$35 + 25$		
$93 - 64$		

Soruları grafiğe göre cevaplayalım.

Kuş çeşitleri	Sayısı
Serçe	★ ★ ★
Güvercin	★ ★ ★ ★ ★
Kırlangıç	★ ★ ★ ★

★ : 4 taneyi göstermektedir.

• En fazla olan kuş hangisidir?

⇒

• Kuş sayıları toplamı kaçtır?

⇒

• Güvercin sayısı, serçe sayısından kaç fazladır?

⇒

İşlemleri yapalım.



$$\begin{array}{r} 80 \\ - 52 \\ \hline \dots \end{array}$$

$$\begin{array}{r} 48 \\ + 37 \\ \hline \dots \end{array}$$

$$\begin{array}{r} 45 \\ + 54 \\ \hline \dots \end{array}$$

$$\begin{array}{r} 71 \\ - 27 \\ \hline \dots \end{array}$$

$$\begin{array}{r} 63 \\ + 27 \\ \hline \dots \end{array}$$

$$\begin{array}{r} 45 \\ - 25 \\ \hline \dots \end{array}$$

$$\begin{array}{r} 39 \\ + 37 \\ \hline \dots \end{array}$$

$$\begin{array}{r} 92 \\ - 76 \\ \hline \dots \end{array}$$

Okçuluk sporu yapan Yankı önce 50 metreden, daha sonra 30 metreden atış yapmıştır. Atış yapılan metreler toplamı kaçtır?

Paten yapan Çisem; dönüş, atlayış ve kaldırış üzerinden tam puan almıştır. Tam puan 6'dır. Kostüm ve müzikten 5'er puan almıştır. Çisem toplamda kaç puan almıştır?

Doğan ve Aydın masa tenisi oynamaktadır. Doğan'ın puanları 15 ve 30'dur. Aydın'ın puanı ise 15'tir. Doğan ve Aydın'ın puanları toplamı kaçtır?

Deniz'in evinin yola uzaklığı 23 metredir. Deniz bu mesafeyi iki defa gidip gelmiştir. Deniz kaç metre yürüyüş yapmıştır?

Adı:
Soyadı:

TÜRKÇE
ÇALIŞMA KAĞIDI



Tarih
...../...../2018

2.
SINIF

TÜRKÇE
TEST - 2/F

YAZMA
Noktalama İşaretleri

HIRÇİN AT

Bir adamın çok huysuz bir atı varmış. Onu başkasına satmış. Satarken de,

— Bu atı çok ucuz satıyorum. Çünkü pek huysuzdur, demiş.

Atı alan Cemal'in babasıymış. İlk günlerde at, ne Cemal'i ne de babasını yanına yaklaştırmış. Her fırsatta kaçıyormuş. Ama Cemal ata her zaman sevgiyle yaklaşmış. Ona şeker vermiş, başını okşamış, sevgi dolu sözler söylemiş.

Günler geçtikçe at, Cemal'e alışmış. Cemal'in sevgisi, atın huysuzluğunu yenmiş. Artık çok uysalmış.

1. ve 2. soruları yukarıdaki metne göre cevaplayınız.

1. Adam, atı niçin ucuza satmış?

- A) Hasta olduğu için
B) Huysuz olduğu için
C) Yaşlı olduğu için

2.) Cemal'in ne yapmasıyla at uysallaşmış?

- A) Cemal'in onu serbest bırakmasıyla
B) Cemal'in ona kızmamasıyla
C) Cemal'in onu sevmesiyle

Enes SERT
2/F Sınıfı Çalışmaları

1. Aşağıdaki sözcüklerden hangisinde kesme işareti (') yanlış kullanılmıştır?

- A) Ali'ler B) Ali'nin C) Ali'de

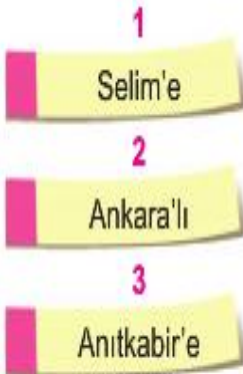
2. Aşağıdaki cümlelerin hangisinde kısa çizgi (-) yanlış kullanılmıştır?

- A) 1999 - 2002 yılları arasında Ankara'daydık.
B) Maç 2-1 sonuçlandı.
C) Ben - annem - Ayşe ve kardeşim bahçede oturduk.

3. Aşağıdaki sözcüklerin hangisinde şaşırma anlamı vardır?

- A) Tamam.
B) Aaal
C) Peki.

4.



Kaç numaralı sözcükte kesme işareti (') yanlış kullanılmıştır?

- A) 1 B) 2 C) 3

5. Aşağıdaki cümlelerden hangisinin sonuna soru işareti (?) konmaz?

- A) Yaptı mı yapar
B) Çok mu okudun
C) Sen mi geldin

6. Aşağıdakilerden hangisinde kesme işareti (') doğru kullanılmıştır?

- A) Baklava'cı
B) İzmir'li
C) Mersin'de

7. Nokta (.), aşağıdaki cümlelerden hangisinin sonuna getirilmelidir?

- A) Defterin yaprağı yırtıldı ()
B) Sular mı kesildi ()
C) Hey, beni dinleyin ()

8. "Çocuk () annesini çok mu üzdü ()" cümlesinde yay ayraç () ile gösterilen yerlere sırasıyla aşağıdaki noktalama işaretlerinden hangileri gelmelidir?

- A) (.) (.) B) (,) (.) C) (,) (?)

9. "Bu gördüğün ağaçların adları çam () köknar () meşe ve çınardır." cümlesinde yay ayraç () ile gösterilen yerlere hangi noktalama işareti konmalıdır?

- A) Virgül (,)
- B) Nokta (.)
- C) Soru işareti (?)

10. Aşağıdaki sözcüklerden hangisinde kesme işareti (') yanlış kullanılmıştır?

- A) Murat'ın
- B) Murat'lar
- C) Murat'tan

11.

Eş görevli sözcüklerin arasına konur.

Yukarıda sözü edilen noktalama işareti hangisidir?

- A) Nokta (.)
- B) Ünlem işareti (!)
- C) Virgül (,)

12. Aşağıdaki cümlelerin hangisinde noktalama işareti yanlış kullanılmıştır?

- A) Ezgi'yi çok seviyorum.
- B) Kapıyı açar mısın!
- C) Yaşasın, yarın bayram!

13. Aşağıdaki cümlelerin hangisinde kesme işareti (') yanlış kullanılmıştır?

- A) Bugün, Esra'nın doğum günüydü.
- B) Asker'ler yürüyüşe geçtiler.
- C) Can'ın silgisi kayboldu.

14. Aşağıdaki cümlelerden hangisinin sonuna nokta (.) gelmelidir?

- A) Ne zaman geldin()
- B) Bunlar senin mi()
- C) Kalemimin hepsi kayboldu()

15. Hangi noktalama işaretinden sonra cümle büyük harfle başlamaz?

- A) Virgül (,)
- B) Ünlem işareti (!)
- C) Soru işareti (?)

16. Hangi cümlenin sonuna ünlem işareti (!) konmalıdır?

- A) Boş zamanlarında neler yapıyorsun()
- B) Üf, hava çok sıcak()
- C) Havalar ısınmaya başladı()

17. Hangi cümlede soru işareti (?) yanlış kullanılmıştır?

- A) Çay içer misin?
- B) Neden uyumadın?
- C) Yarın görüşürüz?

1. Daha sonra öğrenciler sınıflara girdiler.
2. Önce öğrenciler tören alanında sıra oldular.
3. Sonra hep birlikte İstiklal Marşı'nı söylediler.

Bu cümleler oluş sırasına göre nasıl sıralanmalıdır?

- A) 2, 3, 1
- B) 3, 2, 1
- C) 1, 2, 3

2. "Yemekten ellerimizi, yemekten sonra ellerimizi ve ağızımızı yıkar, daha sonra dişlerimizi fırçalarız."

Bu cümlede noktalı yere hangi sözcük yazılmalıdır?

- A) sonra da
- B) önce
- C) sonunda

3. Hikâyeleri ve olayları önce, sonra, daha sonra gibi ifadelerle anlatmaya göre anlatma denir.

Bu cümledeki noktalı yere aşağıdakilerden hangisi yazılmalıdır?

- A) hayallerine
- B) sayılarına
- C) oluş sırasına

4. Bir günün sonunda hangisini yaparız?

- A) Yatmak için pijamalarımızı giyiyoruz.
- B) Okula gitmek için evden çıkarız.
- C) Parkta arkadaşlarımızla oyun oynarız.