

Adı:
Soyadı:

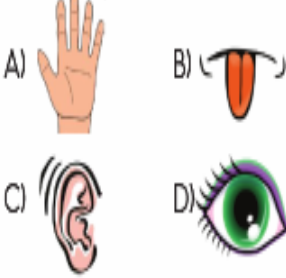


FEN-SOSYAL
4/F Çalışma Kâğıdı



Tarih
...../...../2020

1- Maddeleri nitelleyen özellikleri ayırt ederken aşağıdaki hangi duyu organımızı daha çok kullanırız?

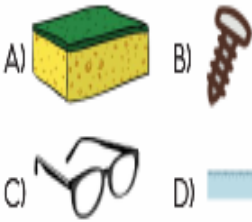


2- Aşağıda verilen maddelerin pürüzlü/pürüzsüz özelliklerini ayırt etmek için aşağıdaki hangi duyu organımızdan yararlanırsınız?



A) dokunma B) işitme
C) tatma D) koklama

3- Aşağıdaki cisimlerden hangisini mıknatıs çeker?



4- Aşağıdakilerden hangisi suyu çekme özelliği bakımından diğerlerinden farklıdır?



5- Aşağıdaki eşyalardan hangisi, içi su dolu bir kovaya attığımızda kovanın dibine çöker?

A) kurşun kalem B) metal kalemtraş
C) plastik eldiven D) kağıt peçete

6- ● suyu çeken madde
▲ mıknatısın çektiği madde
■ ısıyı geçiren madde

Aşağıdaki seçeneklerin hangisinde ●, ▲ ve ■ sembolleri ile gösterilen maddelere ait örnekler doğru verilmiştir?

A) havlu toplu iğne cam
B) poşet kibrit çöpü tahta
C) sünger çivi karton
D) peçete plastik demir

7- Hava durumunun yağmurlu, gösterdiği bir günde giydiğimiz yağmurluk, maddelerin hangi özelliği dikkate alınarak yapılmıştır?

A) suyu çekme B) suda batma
C) suyu geçirmeme D) suda yüzme

8- Aşağıdakilerden hangisi suyu çeken bir maddedir?


A) sünger B) cam
C) taş D) porselen

9- ● sünger ● demir tas
● gümüş kolye ● tahta kaşık
● nikel çubuk ● demir tozu

Yukarıdaki maddelerden kaç tanesi mıknatıs tarafından çekilen maddelerdendir?

A) 2 B) 3 C) 4 D) 5

BOYAMALI SU DOKU



Beyaz olanları boyayarak yukarıdan aşağıya, soldan sağa, dört farklı rengi oluşturmalısın. Her küpte 4 çeşit renk olmalıdır.

FUBUKİ


Toplam = 15

2			→ +	15			
	5	3	→ +	15			
			→ +	15			
← +	15	← +	15	← +	15	← +	15

Toplam = 30

	10	6
12		

1- Aşağıdakilerden hangisi beşeri unsur değildir?



2- Aşağıdakilerden hangisi doğal unsurlar arasında yer almaz?

- A) Tuz Gölü
B) Manavgat Şelalesi
C) İstanbul Boğazi
D) Topkapı Sarayı

3- Pamukkale travertenleri doğal unsurlardandır. Çünkü

Ravza

Ravza'nın cümlesi aşağıdakilerden hangisi ile tamamlanabilir?

- A) Denizli'de bulunuyor.
B) turistik önemi vardır.
C) İnsan eliyle yapılmamıştır.
D) koruma altındadır.

4- Ani gelişen, kontrol edilemeyen, can ve mal kaybına neden olan doğa olaylarına denir.



Yukarıdaki cümlede boş bırakılan yere hangisi gelmelidir?

- A) doğal unsur B) doğal afet
C) beşeri unsur D) iklim

5- • fabrika • deniz • göl
• köprü • ev • orman

Yukarıdakilerden kaç tanesi doğal unsurdur?

- A) 3 B) 4 C) 2 D) 6

6- Aşağıdaki görsellerden hangisi doğal unsur olamaz?




7- Aşağıdakilerden hangisini insanlar oluşturmuş ya da değiştirmiştir?

- A) dağ B) göl
C) vadi D) tarla



Yukarıdaki görsellere uygun olan unsurlar yönünde ilerlediğimizde aşağıdaki hangi doğal unsura ulaşırız?



- Aşırı yağın yağmur suları
- Hızla eriyen kar suları neden olur
- Önlemek için ağaç dikmeliyiz

Yukarıda bazı özellikleri verilen doğal afet hangisidir?

- A) sel B) erozyon
C) yangın D) çığ

1 - Eğimli araziler basamaklandırılmalı.

2- Arazi ağaçlandırılmalı.

Yukarıdaki önlemler aşağıdaki doğal afetlerden hangisinin zararlarını en aza indirmek için alınması gereken önlemlerden değildir?

- A) heyelan B) sel
C) erozyon D) yangın

Aşağıdakilerden hangisi deprem esnasında yapılması uygun bir davranıştır?

- A) Balkona çıkmak
B) Asansörü kullanmak
C) Camlardan uzak durmak
D) Paniğe kapılmak

Ülkemizde hava hareketlerini inceleyerek hava durumunu tahmin eden kurum hangisidir?

- A) Orman Bakanlığı
B) Meteoroloji İşleri Genel Müdürlüğü
C) Devlet Su İşleri
D) Köy Hizmetleri Genel Müdürlüğü



Fasulye



Parfüm



Pirinç



Süt



Demir Tel

Yukarıdaki maddelerden kaç tanesi katı haldedir?

- A) 2 B) 3 C) 4 D) 5