

SINIF Sözcükte Anlam - 1 (Çok Anlamlılık)

1. 1. Kapının kolu tamir edilmiş.
2. Poyrazla birlikte deniz birden kabardı.
3. Uçağın kanadı ağaçları sıyırıp geçti.
4. Bazı insanlar toplumda düşünceleriyle sivrilir.

Numaralanmış cümlelerdeki altı çizili sözcüklerden hangisi mecaz anlamda kullanılmıştır?

- A) 1. B) 2. C) 3. D) 4.

2. Bu olayı biraz kurcalayıp gerçekleri ortaya çıkaracağım.

Bu cümledeki altı çizili sözcüğün anlamı aşağıdakilerden hangisidir?

- A) Teftiş etmek, kontrol etmek
B) Aradığını bulmak amacıyla elle yoklamak
C) Bir kimseye veya topluluğa sözünü geçirmek
D) Bir konuyu araştırmak, eşelemek

3. **Aşağıdaki cümlelerin hangisinde “açılmak” sözcüğü “gereken güce ulaşmak” anlamında kullanılmıştır?**

- A) Çok bunalmıştım, dışarı çıkınca biraz açıldım.
B) Araba uzun yola çıkınca açıldı, hızı arttı.
C) Yürerken hiç farkında olmadan kıydan açılmışım.
D) Kızılay’da bugün iki mağaza daha açıldı.

4. **Aşağıdaki cümlelerin hangisinde bir terim kullanılmamıştır?**

- A) Telefon bir iletişim aracıdır.
B) Nokta, bitmiş cümlelerin sonuna konur.
C) Hücre, canlının en küçük yapı taşıdır.
D) Üçgen geometrik bir şekildir.

5. • Neredeyse bürodaki bütün işleri ben çeviriyorum.
• Evin bahçesini örgülü telle çevirmişlerdi.
• Arkadaşımla yürürken bir adam bizi çevirip adres sordu.

Aşağıdakilerden hangisi, “çevirmek” sözcüğünün bu cümlelerde kazandığı anlamlardan biri değildir?

- A) Bir yerin çevresini bir şeyle sarmak, kuşatmak
B) Yönetmek, idare etmek
C) Yolundan alıkoymak, yoldan döndürmek
D) Bir şeyin yönünü değiştirmek

6. 1. Kitap ince olduğu için hemen bitmişti.
2. Sahilde ayakkabımıza ince kumlar doldu.
3. Bu gülümseyişte ince bir alay gizliydi.
4. Eline ince bir değnek alıp dolaşmaya başladı.

Numaralanmış cümlelerin hangisinde “ince” sözcüğü mecaz anlamda kullanılmıştır?

- A) 1. B) 2. C) 3. D) 4.

Sözcükte Anlam - 1 (Çok Anlamlılık)

7. Aşağıdakilerin hangisinde “dönmek” sözcüğü “kendisini bir yandan bir yana çevirmek” anlamında kullanılmıştır?

- A) Makinenin kolu hızla dönünce koluna çarptı.
B) Yatağında sabaha kadar dönüp durdu.
C) Şu genç, iki saattir bizim evin önünde dönüyor.
D) Babam, Avrupa gezisinden yarın sabah dönüyor.

8. Aşağıdaki cümlelerde geçen altı çizili sözcüklerden hangisi gerçek anlamıyla kullanılmıştır?

- A) Birden sıkınca tüpteki tutkal sağa sola yapıştı.
B) Ahmet nedense bugün çok durgundu.
C) Bize karşı davranışları oldukça soğuktu.
D) Ben onun hırçınlığını çekemem artık.

9. Aşağıdaki cümlelerin hangisinde altı çizili sözcükte ayraç içinde verilen anlamı uyuşmamaktadır?

- A) Eski yapılar birçok depreme, felakete dayanmış.
(Varlığını korumak, hasar görmemek)
B) Haklı olduğumu eninde sonunda göstereceğim.
(Kanıtla inandırmak)
C) Zor durumda kalsa da biriktirdiği paraya hiç dokunmadı. (Karıştırmak)
D) Şu parayı şoför beye uzatır mısınız lütfen? (Vermek, göndermek)

10. • Deftere bir şeyler yazdı ama hemen sildi.
• Bayramdan önce evi köşe bucak sildi.
• Ben onu sildim, bir daha onunla görüşmem.
• Vazoyu silip masanın üzerine yerleştirdi.

Yukarıdaki cümlelerde “silmek” sözcüğü kaç farklı anlamda kullanılmıştır?

- A) 1 B) 2 C) 3 D) 4

11. Çok yorucu bir gündü. O gün matematik dersinde $\frac{1}{3}$ $\frac{2}{4}$ kesirleri işlemiştik. Epeyce kafa patlattığımız için daralmıştık.
4

Bu parçada numaralanmış sözcükler için aşağıdakilerden hangisi söylenemez?

- A) 1 numaralı sözcük gerçek anlamının dışında kullanılmıştır.
B) 2 numaralı sözcük gerçek anlamda kullanılmıştır.
C) 3 numaralı sözcük terim anlamlıdır.
D) 4 numaralı sözcük mecaz anlamda kullanılmıştır.

12. 1. Yaşadığı olayları bir türlü sindiremedi.
2. Sabah uzun bir süre otobüs gelmedi.
3. Sözcükleri alfabetik sıraya göre dizdi.
4. Kuru, heyecansız bir hayattan bıkmıştı.

Yukarıdaki numaralanmış cümlelerin hangilerinde mecaz anlamı sözcük kullanılmıştır?

- A) 1. ve 2.
B) 1. ve 4.
C) 2. ve 3.
D) 3. ve 4.



Adı :
Soyadı :
Sınıf :
NO :

1	2	3	4	5	6	7	8	9	10	11	12
A	A	A	A	A	A	A	A	A	A	A	A
B	B	B	B	B	B	B	B	B	B	B	B
C	C	C	C	C	C	C	C	C	C	C	C
D	D	D	D	D	D	D	D	D	D	D	D

Doğru :
Yanlış :
Boş :
Puan :



SINIF Haklarımı Öğreniyorum

1. 5. Sınıf öğrencisi Ayşe'nin aşağıdaki gruplardan hangisinde yer alması beklenmez?

- A) Voleybol Takımı
- B) Satranç Kulübü
- C) Esnaf ve Sanatkarlar Odası
- D) Halk Oyunları Grubu

2. Gruplar içerisinde bulunan bireylerin farklı zamanlarda farklı rol ve görevleri vardır.

Öğrencinin okulda hangi görevleri üstlenmesi beklenmez?

- A) Derse zamanında girmek
- B) Sınav sorusu hazırlamak
- C) Sınıfı temiz tutmak
- D) Dersi dikkatli dinlemek

3. Bizim başkalarına karşı yapmamız gerekenler....., başkalarının bize karşı yapması gerekenler dir.

Boş bırakılan yerlere sırasıyla aşağıdakilerden hangisi gelmelidir?

- | | |
|---------------|------------|
| A) Sorumluluk | Hak |
| B) Görev | Sorumluluk |
| C) Hak | Sorumluluk |
| D) Hak | Görev |

4. Aşağıdakilerden hangisi Çocuk Haklarından biri değildir?

- A) Eğitim, kız erkek tüm çocuklara zorunludur
- B) Çocuklar sağlıklı bir çevrede yaşamalıdır
- C) Çocuklar düşüncelerini özgürce açıklayabilmelidir
- D) Çocuklar fabrikalarda çalıştırılmalıdır

5. Sınıfa giden Mehmet okul basketbol takımında oyuncudur. Takımın antrenörü Mehmet'in babasıdır.

Parçaya göre aşağıda verilen bilgilerden hangisi yanlıştır?

- A) Mehmet'in babasının farklı rolleri vardır.
- B) Mehmet babasına takımda koç demelidir.
- C) Rollerimiz duruma göre değişir.
- D) Rollerimizde yaş önemli değildir.

6. 1. Derslerimde başarılı olmak için okula giderim

2. Sınıf başkanlığı seçimine katılıyorum

3. Hastalandığımda hastaneye giderim

Yukarıda, örneği verilmeyen insan hakkı aşağıdakilerden hangisidir?

- | | |
|------------------------|-----------------|
| A) Seçme Seçilme Hakkı | B) Eğitim Hakkı |
| C) Sağlık Hakkı | D) Yaşama Hakkı |

Haklarımı Öğreniyorum

7. 1. Faaliyetler birlikte yapılır.

2. Ortak amaçları vardır.

3. Üye sayıları değişmez.

grupla ilgili verilen bilgilerden hangileri doğrudur?

A) Yalnız 1

B) Yalnız 2

C) 1 ve 2

D) 2 ve 3

8. Çocuk Hakları Sözleşmesi'ne göre aşağıdaki sorumluluklardan hangisi çocuklara verilirse sözleşme ihlal edilmiş olmaz?

A) İşçi olarak çalıştırılması

B) Askere götürülmesi

C) Satranç kulübüne katılması

D) Sokakta mendil satması

9. Aşağıdakilerden hangisi 5. sınıf öğrencisinin okuldaki sorumluluklarından biri olamaz?

A) Derse zamanında girmek

B) Kırılan tahtayı onarmak

C) Çantasını hazırlamak

D) Boşa akan musluğu kapatmak

10. Aşağıdakilerden hangisi yanlıştır?

A) Kurumlar ve gruplar belli bir amaç için kurulmuşlardır.

B) Bir kişiyle grup oluşturulur.

C) İnsanlar aynı anda birçok grup ve kurum içinde yer alabilir.

D) Gruplar isteyerek ve planlayarak bir araya gelirler.

11. - Ameliyatlarda çok dikkatli ve titiz olmalıyım.

- Öğrencileri zamanında okullarına yetiştirmeliyim.

- Toplumda huzur ve güveni sağlamaya çalışmalıyım.

Yukarıda verilen roller aşağıda verilen meslekler ile eşleştirildiğinde hangisi boşta kalır?

A) Öğretmen

B) Şoför

C) Doktor

D) Polis

12. Aşağıdakilerden hangisi grupla birlikte yaptığımız bir davranış değildir?

A) Basketbol oynamak

B) Evde resim yapmak

C) Koroda şarkı söylemek

D) Okulda derse katılmak



Adı :

Soyadı :

Sınıf :

NO :

1	2	3	4	5	6	7	8	9	10	11	12
A	A	A	A	A	A	A	A	A	A	A	A
B	B	B	B	B	B	B	B	B	B	B	B
C	C	C	C	C	C	C	C	C	C	C	C
D	D	D	D	D	D	D	D	D	D	D	D

Doğru :

Yanlış :

Boş :

Puan :

5. MATEMATİK



SINIF Doğal Sayılar

1.



Bir maraton koşusunda Fatih 1., Ümit 2. ve İsmail 3. olmuştur. Kürsüye çıkan koşucuların soldan sağa doğru göğüs numaralarının okunuşu aşağıdakilerden hangisidir?

- A) Altı milyon yedi yüz dokuz bin altı yüz elli dört
 B) Yedi yüz dokuz milyon altı yüz elli dört bin altı
 C) Altı yüz elli dört milyon altı bin yedi yüz dokuz
 D) Altı yüz elli dört milyon yedi yüz dokuz bin altı

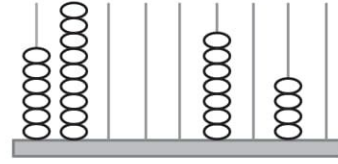
2. 876 ABC 417 sayısının okunuşu “sekiz yüz yetmiş altı milyon altı yüz dokuz bin dört yüz on yedi” olduğuna göre ABC yerine gelmesi gereken sayı aşağıdakilerden hangisidir?

- A) 976
 B) 960
 C) 690
 D) 609

3. Okunuşu “kırk sekiz milyon doksan bin beş yüz altı” olan doğal sayı aşağıdakilerden hangisidir?

- A) 480 900 056
 B) 480 090 506
 C) 48 090 506
 D) 48 009 506

4.



Yukarıdaki abaküste gösterilmek istenen sayı 698 007 745 olduğuna göre boş çubuklara kaç tane boncuk yerleştirilmesi gerekir?

- A) 23
 B) 20
 C) 18
 D) 13

5. 724 532 821 sayısının birler bölümü ile milyonlar bölümü yer değiştirdiğinde oluşan sayı aşağıdakilerden hangisidir?

- A) 532 724 821
 B) 724 532 821
 C) 724 821 532
 D) 821 532 724

6. 15 435 152 sayısının on milyonlar basamağı ile yüz binler basamağındaki rakamların sayı değerleri toplamı kaçtır?

- A) 3
 B) 4
 C) 5
 D) 6

7.

808

888

088

Yukarıdaki her bir kart bir bölüğü temsil etmektedir. Bu kartlarla yazılabilecek en büyük doğal sayı aşağıdakilerden hangisidir?

- A) 808 088 888 B) 888 088 808
C) 808 888 088 D) 888 808 088

8. 72 306 849 sayısının milyonlar basamağı ile onlar basamağındaki rakamların basamak değerleri sırasıyla aşağıdakilerden hangisidir?

- A) 2 000 000 ve 40
B) 2 ve 4
C) 4 ve 2
D) 4 000 000 ve 20

9.

	31
23	
15	
11	
7	
3	

Yukarıdaki sek sek oyun alanında sayılar belirli bir kurala göre dizilmiştir. Boş bırakılan yerlere gelecek olan sayılar aşağıdakilerden hangisidir?

- A) 19 ve 27 B) 18 ve 26
C) 18 ve 27 D) 19 ve 26

10. 4 , 10 , 16 , 22 , K , L , M

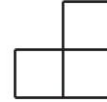
Yukarıdaki sayı örüntüsünde K, L ve M sayılarının toplamı kaçtır?

- A) 102 B) 108
C) 114 D) 120

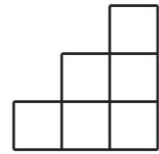
11.



1. Şekil



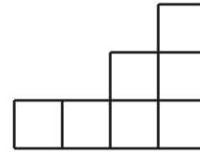
2. Şekil



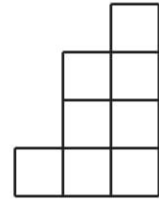
3. Şekil

Verilen şekil örüntüsünde 4. şekil aşağıdakilerden hangisidir?

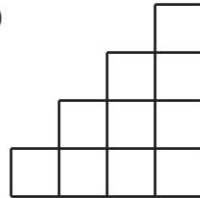
A)



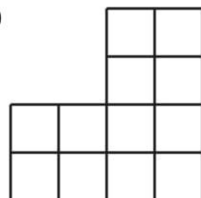
B)



C)



D)



12. Para biriktirmeye 5 lira ile başlayan Nurşen, sonraki her hafta kumbarasına 3 lira eklerse 13. hafta sonunda Nurşen'in kumbarasında kaç lira olur?

- A) 47 B) 44
C) 41 D) 38



Adı :
Soyadı :
Sınıf :
No :

1	2	3	4	5	6	7	8	9	10	11	12
A	A	A	A	A	A	A	A	A	A	A	A
B	B	B	B	B	B	B	B	B	B	B	B
C	C	C	C	C	C	C	C	C	C	C	C
D	D	D	D	D	D	D	D	D	D	D	D

Doğru :
Yanlış :
Boş :
Puan :

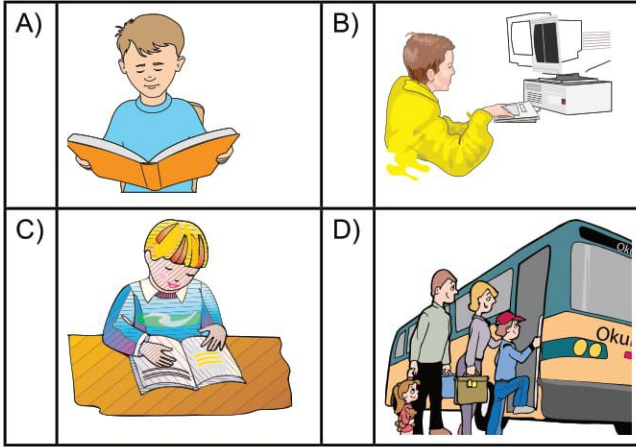
5. İNGİLİZCE

SINIF MY DAILY ROUTINES



1. Emre : "After I do my homework, I go online for a short time every evening."

Altı çizili olan kelimeyi ifade eden görsel aşağıdakilerden hangisidir?



2 ve 3. sorularda boşluğa gelen uygun kelime ya da ifadeyi işaretleyiniz.

2. Before I go to school, I - - - - .

- A) have dinner with my family
B) put on my school uniform
C) have lunch at canteen
D) return my home

3. Mark : - - - - ?

Bob : By bus.


- A) When do you get up
B) Do you have breakfast every morning
C) How do you go to school
D) What time do you sleep

4. Aşağıdaki eylemlerin oluş sırası hangisinde doğru verilmiştir?

1. I have breakfast with my family.
2. I get up early every morning.
3. Before breakfast, I wash my face and get dressed.
4. Then, I brush my teeth.

- A) 4 - 2 - 3 - 1
B) 2 - 3 - 1 - 4
C) 3 - 2 - 1 - 4
D) 1 - 3 - 2 - 4

5. Konuşma balonuna gelebilecek doğru ifadeyi bulunuz.



- A) Do you comb your hair every day
B) What about you
C) How do you come to school
D) What time is it

6. Tom ile ilgili verilen tabloya göre hangisi doğrudur?

TOM	in the mornings	in the afternoons	in the evenings
arrives at school	✓	✗	✗
reads a book	✗	✗	✓
has lunch	✗	✓	✗
does homework	✗	✗	✓

✓ = Yes ✗ = No

- A) Tom arrives at school at eight p.m.
B) Tom reads a book after school.
C) Tom has lunch at 11:00 a.m.
D) Tom does his homework before lunch.



7. Jack : My brother every weekend.

Yukarıdaki cümlede resmin yerine hangisi gelmelidir?

- A) has a bath
- B) gets dressed
- C) arrives home
- D) washes hands

8. wake up / What / time / you / do?
1 2 3 4 5

Anlamli bir cümle oluşturmak için doğru sıralama hangi seçenekte verilmiştir?

- A) 2 - 3 - 4 - 5 - 1
- B) 5 - 2 - 3 - 4 - 1
- C) 3 - 2 - 5 - 4 - 1
- D) 2 - 3 - 5 - 4 - 1

9. Gareth : When does your brother get out of bed?

Bill : Generally at quarter to nine.

Altı çizili ifadenin yerine hangisi yazılabilir?

- A) 07:15
- B) 09:15
- C) 09:45
- D) 08:45

10 - 11- 12. soruları aşağıda verilen parçaya göre cevaplayınız.

I am Tim. I'm a fourth grade student at Planet Elementary School. I get up at half past seven and after thirty minutes I have breakfast with my parents. My school starts at quarter past eight. I have lunch with my friends at one p.m. Then, I have classes until quarter to four. I arrive home at four because my school is near my home.

10. Parçaya göre hangi ifade yanlıştır?

- A) Tim gets up at 07:30.
- B) Tim has breakfast at 08:15.
- C) Tim has lunch at 13:00.
- D) Tim arrives home at 16:00.

11. Parçaya göre doğru olan ifade hangisidir?

- A) Tim has breakfast with his father and mother.
- B) He gets out of his bed at 8:30.
- C) Tim comes home before four p.m.
- D) His school finishes at 13:00

12. Tim yaptığı işlerin hangisinden bahsetmemiştir?

- A) He gets up at 07:30.
- B) He goes to school.
- C) He goes on a picnic at the weekend.
- D) He has lunch with his friends.



Adı :

Soyadı :

Sınıf :

NO :

1	2	3	4	5	6	7	8	9	10	11	12
A	A	A	A	A	A	A	A	A	A	A	A
B	B	B	B	B	B	B	B	B	B	B	B
C	C	C	C	C	C	C	C	C	C	C	C
D	D	D	D	D	D	D	D	D	D	D	D

Doğru :

Yanlış :

Boş :

Puan :

SINIF Besinler ve İçerikleri

1. Aşağıda verilenlerden hangisinin içerdiği besin grubu diğerlerinden farklıdır?

- A) Balık
C) Süt
B) Makarna
D) Et

2. I. Yaraları iyileştirmek
II. Enerji elde etmek
III. Yaşamsal faaliyetleri yapmak

Verilenlerden hangileri "niçin besleniriz?" sorusuna cevap olarak verilebilir?

- A) I ve II
C) II ve III
B) I ve III
D) I, II ve III

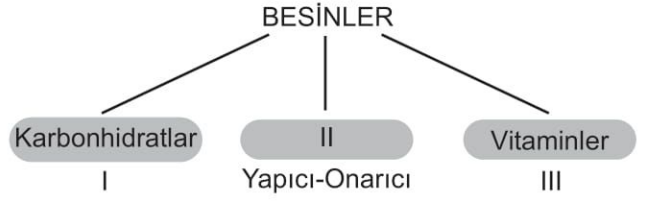
3.

Vitaminler	Görevleri
A	Vücudun mikroplara karşı dirençli olmasını sağlar.
B	Kemik ve diş gelişimine yardımcıdır.
C	Deri ve göz sağlığı için gereklidir.
D	

Tablodaki bazı vitaminler ve görevleri karışık eşleştirilirken görevi açıklanmayan vitamin hangisidir?

- A) A
B) B
C) C
D) D

4.



Öncelikli görevlerine göre besinlerin sınıflandırılmasına ilişkin verilen şemada, I, II ve III numaralı boşluklara aşağıdakilerden hangileri gelmelidir?

	I	II	III
A)	Düzenleyici	Protein	Enerji verici
B)	Enerji verici	Mineral	Düzenleyici
C)	Düzenleyici	Mineral	Enerji verici
D)	Enerji verici	Protein	Düzenleyici

5. Oyun oynarken düşüp kolunu yaralayan Ege, aşağıdaki yiyeceklerden hangisini öncelikli olarak tüketmelidir?

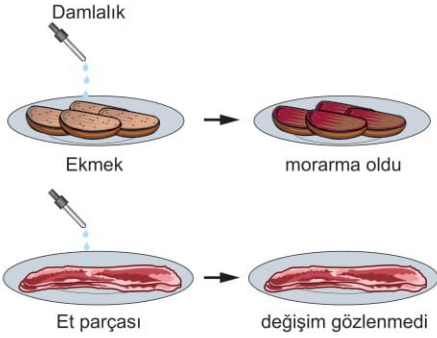
- A) Baklava
C) Et
B) Ekmek
D) Meyve

6. Aşağıda verilen örnek öğün listelerinden hangisi dengeli beslenmeye uygundur ?

- A) Köfte
Kızartma
Kola
B) Köfte
Salata
Pilav
C) Börek
Salata
Makarna
D) Pilav
Kızartma
Makarna

Besinler ve İçerikleri

7.



Ayşe şekildeki besin çeşitleri üzerine damlalıklarla bir sıvı damlatarak, besinlerin karbonhidrat içerip içermediğini tespit etmek istiyor.

Buna göre, Ayşe'nin damlalıkta kullandığı sıvı aşağıdakilerden hangisidir?

- A) İyot Çözeltisi B) Nitrik Asit
C) Su D) Alkol

8. I. Sebze ve meyvelerde bolca bulunurlar
II. Enerji verirler
III. Vücut direncini arttırmırlar
IV. Yapıcı onarıcı besin grubundadırlar

Vitaminlerle ilgili yukarıdaki verilen ifadelerden hangileri yanlıştır?

- A) I ve II B) I ve III
C) II ve III D) II ve IV

9. **Mehmet Öğretmen:** Sigara ve alkol kullanan insanlarda hangi hastalıkların görülme ihtimali daha yüksektir?

Serhat: Akciğer kanseri

Ayşe: Ülser

Ahmet: Astım ve solunum zorluğu

Elif: Kızamık

Mehmet öğretmenin sorduğu soruya hangi öğrenci yanlış cevap vermiştir?

- A) Serhat B) Ayşe
C) Ahmet D) Elif

10. **Aşağıdaki organlardan hangisi alkolün en çok zarar verdiği organdır?**

- A) Karaciğer B) Gırtlak
C) Akciğer D) Böbrek

11. I. Son kullanma tarihine
II. Ürünün markasına
III. Temizlik ve tazeliğine
IV. Ambalajındaki resimlere

Marketten alışveriş yapılırken, öncelikle hangilerine dikkat etmek gerekir?

- A) I ve II B) I ve III
C) II ve III D) II ve IV

12. Besinlerin tazeliğinin korunması ve uzun süre bozulmadan kalması için bazı yöntemler kullanılır.

Aşağıdakilerden hangisi bu yöntemlerden değildir?

- A) Besinleri açıkta bırakma
B) Besinleri kurutarak saklama
C) Konserve ederek saklama
D) Pastörize etme



Adı :
Soyadı :
Sınıf :
NO :

1	2	3	4	5	6	7	8	9	10	11	12
A	A	A	A	A	A	A	A	A	A	A	A
B	B	B	B	B	B	B	B	B	B	B	B
C	C	C	C	C	C	C	C	C	C	C	C
D	D	D	D	D	D	D	D	D	D	D	D

Doğru :
Yanlış :
Boş :
Puan :