

SINIF Fiil - 1 (Anlam - Kip - Kişi)

1. Öznenin etkisi olmadan onun iradesi dışında, kendiliğinden oluşan ve öznedeki değişimi gösteren fiiller oluş anlamı taşır.

Buna göre aşağıdaki cümlelerin hangisinde oluş fiili yoktur?

- A) Uzun süre dolapta bekleyen ekmek küflenmişti.
B) Sonbaharın gelmesiyle bütün yapraklar sarardı.
C) Aklına gelen her soruyu mutlaka sorardı.
D) Ağaçtaki meyvelerin tamamı olgunlaştı.

2. Aşağıdakilerin hangisinde "iş (kılış), durum ve oluş" fiilleri sırasıyla verilmiştir?

- A) Yırtmak, yatmak, kovmak
B) Görmek, bilmek, büyümek
C) Uyanmak, ağlamak, kızarmak
D) Kırmak, gülmek, yaşlanmak

3. Aşağıdaki cümlelerin hangisinde iş (kılış) fiili kullanılmıştır?

- A) Derste bütün soruları çözdüm.
B) Bahçede oynayan çocuklar yorulmuş.
C) Tatilde saçlarım çok uzadı.
D) Havanın ısınmasıyla buzlar eridi.

4. Aşağıdaki cümlelerin hangisinde yer alan fiilde zaman anlamı yoktur?

- A) Bu konuları konuşmak için size uğrayacağım.
B) Türkçe yazılısına akşam birlikte çalışalım.
C) Her sabah kahvaltıdan önce spor yapar.
D) Söylediklerini dikkatlice dinledim.

5. Aşağıdaki cümlelerin hangisinde fiil, haber kipi ile çekimlenmiştir?

- A) Ödevini en kısa sürede tamamlamalısın.
B) Arkadaşlarına biraz sessiz olmalarını söyle.
C) Pikniğe ben de sizinle geleyim.
D) Yorgunluktan erkenden uyumuş.

6. "Bil-" fiilinin gereklilik kipi 2. tekil şahıs çekimi aşağıdakilerden hangisidir?

- A) Bilsin
B) Bilmeliyiz
C) Bilmelisin
D) Bileyim

Fiil - 1 (Anlam - Kip - Kişi)

7. Aşağıdaki cümlelerin hangisinde çekimli fiil kullanılmamıştır?

- A) Karnesini aldıktan sonra tatil hazırlıklarına başladı.
B) Yeni aldığı ayakkabı çok pahalıymış.
C) Her gün erkenden yürüyüşe çıkarlar.
D) Yağmurlu günlerde dolaşmayı severim.

8. "Bu işe başlıyorum, akşama kadar bitireceğim." cümlesindeki fiillerin zamanı aşağıdakilerin hangisinde sırasıyla verilmiştir?

- A) Şimdiki zaman- gelecek zaman
B) Şimdiki zaman- geniş zaman
C) Geniş zaman- geçmiş zaman
D) Gelecek zaman- şimdiki zaman

9. Aşağıdaki cümlelerin hangisinde iş ile anlatım aynı anda yapılmaktadır?

- A) Her sabah evin önünde beni bekliyor.
B) Yatmadan önce mutlaka dişlerini fırçalıyor.
C) Kardeşim salonda televizyon izliyor.
D) Teyzem haftaya bize geliyor.

10. Aşağıdaki cümlelerin hangisinde fiil kipinde anlam kayması yoktur?

- A) Sabah uyanınca ilk olarak yatağımı topluyorum.
B) Yarın dokuzda kararlaştırdığımız yerde olurum.
C) Geceleri karanlıktan çok korkuyorum.
D) Sınavın sonuçları iki gün sonra açıklanacak.

11. Bu sıralar çok çalışıyorsun.

Bu cümledeki fiilin "olumsuz, soru biçimi" aşağıdakilerden hangisidir?

- A) çalışıyor musun
B) çalışmayacak mı
C) çalışmıyor musun
D) çalışmadın mı

12. Aşağıdaki cümlelerin hangisinde şimdiki zaman kipi, gelecek zaman anlamında kullanılmıştır?

- A) Yarın karneler dağıtılıyor.
B) Babam evde seni bekliyor.
C) Eşyalarını dikkatlice topluyor.
D) Durakta otobüsün gelmesini bekliyor.



Adı :
Soyadı :
Sınıf :
NO :

1	2	3	4	5	6	7	8	9	10	11	12
A	A	A	A	A	A	A	A	A	A	A	A
B	B	B	B	B	B	B	B	B	B	B	B
C	C	C	C	C	C	C	C	C	C	C	C
D	D	D	D	D	D	D	D	D	D	D	D

Doğru :
Yanlış :
Boş :
Puan :

MATEMATİK

SINIF 7. Tam Sayılarla Çarpma ve Bölme İşlemleri



1. Aşağıdakilerden hangisinde verilen iki sayının çarpımı - 48'dir?

- A) - 6 ile - 8
B) - 12 ile 4
C) 3 ile 16
D) - 48 ile - 1

2. $[(+6) \cdot (-6)] : (-2)$ işleminin sonucu kaçtır?

- A) - 18
B) - 6
C) 6
D) 18

3. $(-20) : (+4) + (-1) \cdot (-6)$ işleminin sonucu kaçtır?

- A) 11
B) 1
C) - 1
D) - 11

4. I. $(+6) \cdot (-1) = (-6)$
II. $(-17) : (-1) = (+17)$
III. $(-2) \cdot (+3) = (+6)$
IV. $(-8) : (+2) = (+4)$
V. $(+10) : (-2) = (-5)$

Yukarıdaki işlemlerden kaç tanesinin sonucu doğrudur?

- A) 5
B) 4
C) 3
D) 2

5.

10	6	2
9	5	1
8	4	0
7	3	-1

Yukarıda bir apartmanın asansör kabinindeki tuşlar verilmiştir. Bu apartmanda İlker Murat'tan 5 kat aşağıda, Nurşen Murat'tan 6 kat yukarıda oturmaktadır. İlker, Murat ve Nurşen asansöre birlikte binmiş ve a, b, c tuşlarına basmışlardır. Buna göre a.b.c işleminin sonucu kaçtır?

- A) - 40
B) - 45
C) - 54
D) - 60

6. $(-3) \cdot (-4) \cdot (-6) = (-1) \cdot (-8) \cdot \blacktriangle$ olduğuna göre \blacktriangle kaçtır?

- A) - 12
B) - 9
C) 9
D) 12

7. Bir odadaki termometrede sıcaklık 28 dereceyi göstermektedir. Odanın sıcaklığını dakikada 4 derece düşürebilen bir klima 8 dakika açık bırakıldığında oda sıcaklığı kaç derece olur?

- A) 4
B) 0
C) - 4
D) - 8

8. 20 soruluk bir testte öğrenciler doğru cevapladıkları her bir soru için +5 puan, yanlış cevapladıkları her bir soru için ise -3 puan almaktadır. Bu testin tamamını cevaplayan bir öğrenci 14 soruyu doğru cevapladığına göre kaç puan almıştır?

- A) 88
B) 64
C) 52
D) 28

9. a ve b doğal sayılardır. $a^b = b^a$ olduğuna göre a - b işleminin sonucu en az kaçtır?

- A) -8
B) -6
C) -4
D) -2

10. Aşağıdakilerden hangisi yanlıştır?

- A) $(-2)^4 = 16$
B) $(-3)^3 = -27$
C) $(-1)^5 = -1$
D) $(-5)^2 = -25$

11. $(-2)^3 < M < (-1)^4$ olduğuna göre M yerine yazılabilecek kaç tane tam sayı vardır?

- A) 6
B) 8
C) 9
D) 10

12. $(-1)^6 + (-2)^2 = A$
 $(-3)^1 + (-1)^7 = B$

Yukarıdaki eşitliklere göre A.B kaçtır?

- A) 100
B) 70
C) - 20
D) - 50

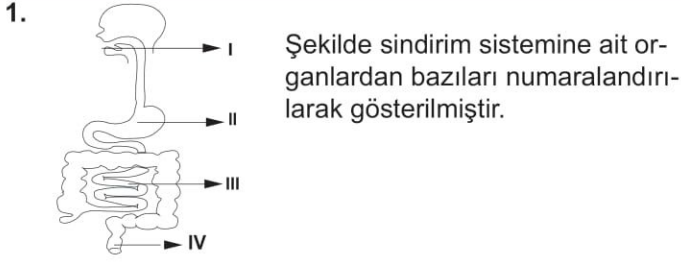


Adı :
Soyadı :
Sınıf :
No :

1	2	3	4	5	6	7	8	9	10	11	12
A	A	A	A	A	A	A	A	A	A	A	A
B	B	B	B	B	B	B	B	B	B	B	B
C	C	C	C	C	C	C	C	C	C	C	C
D	D	D	D	D	D	D	D	D	D	D	D

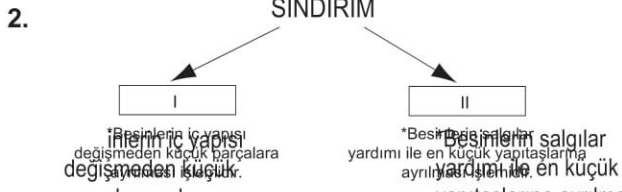
Doğru :
Yanlış :
Boş :
Puan :

SINIF Sindirim ve Boşaltım Sistemi



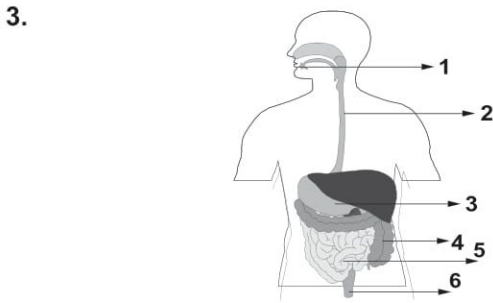
Bu organlarla ilgili olarak aşağıdakilerden hangisi söylenemez?

- A) I- Sindirimin başladığı yerdir.
B) II- Sindirim yoktur.
C) III- Sindirilen besinler kana karışır.
D) IV- Sindirim atıklarının atıldığı yerdir.



Verilen şemada numaralandırılmış boşluklara aşağıdakilerden hangileri gelmelidir?

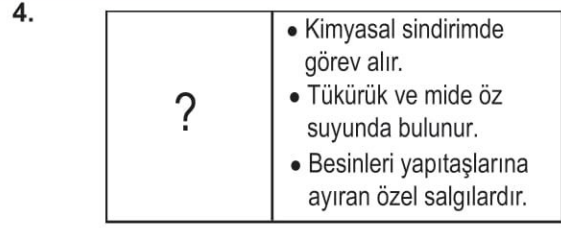
- | | |
|----------------------|-------------------|
| I | II |
| A) Kimyasal sindirim | Fiziksel sindirim |
| B) Fiziksel sindirim | Mekanik sindirim |
| C) Mekanik sindirim | Kimyasal sindirim |
| D) Kimyasal sindirim | Mekanik sindirim |



Şekilde sindirim sistemi organları verilmiştir.

Bu organlardan hangilerinde fiziksel sindirim gerçekleşir?

- A) 2 - 4 - 6
B) 1 - 4 - 5
C) 4 - 5 - 6
D) 1 - 3 - 5



Sindirim sistemi ile ilgili hazırlanmış kavram kartında soru işareti yerine aşağıdakilerden hangisi gelmelidir?

- A) Enzim
B) Villus
C) Safra
D) Pankreas

5. **Kalın bağırsak ile ilgili aşağıda verilen bilgilerden hangisi yanlıştır?**

- A) Kalın bağırsakta besinler en küçük yapıtaşına ayrılır.
B) Kalın bağırsaktaki bazı bakteriler B ve K vitamini sentezler.
C) Kalın bağırsakta vitamin, mineral ve su emilimi gerçekleşir.
D) Kalın bağırsakta protein, karbonhidrat ve yağların sindirimi yapılmaz.

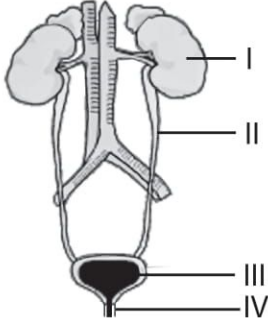
6. • Lokmaları iyice çiğnemek.
• Lifli besinlerden uzak durmak.
• Kafeinli, asitli, katkı maddeli içecekler tüketmemek.
• Çok soğuk ve çok sıcak besinler tüketmemek.
• Ağız ve diş sağlığına önem vermek.

Yukarıda verilenlerden kaç tanesi sindirim sisteminin sağlığını korumak için yapılması gerekenler arasında yer alır?

- A) 2
B) 3
C) 4
D) 5

Sindirim ve Boşaltım Sistemi

7.



Şekilde numaralandırılmış organlardan hangisi kandaki ürenin süzülmesinde görev almaktadır?

- A) I B) II C) III D) IV

8. İdrarın oluşumundan, vücut dışına atılmasına kadar geçtiği yerlerin sıralaması hangisinde doğru verilmiştir?

- A) Üretra- idrar kesesi- böbrek- üreter
B) Böbrek- üreter- idrar kesesi- üretra
C) Böbrek- üretra- idrar kesesi- üreter
D) İdrar kesesi- böbrek- üreter- üretra

9.



Yapılan bir inceleme sonucunda sağlıklı bir bireyin vücudunda kanın bir organdan geçerken içindeki üre miktarındaki değişim grafikteki gibi gözlenmiştir.

Grafiğe göre bu organ aşağıdakilerden hangisidir?

- A) Böbrek B) Pankreas C) Akciğer D) Karaciğer

10. • Hücrelerde oluşan atık maddeler böbrek (I) ---- ile böbreğe gelir.
• Kandaki zararlı atık maddeler (II) ---- tarafından süzülür.
• Süzülüp temizlenen kan böbrek (III) ---- ile böbreklerden taşınır.

Verilen cümlelerde boş bırakılan yerlere gelmesi gereken yapılar hangisinde doğru verilmiştir?

- | | I | II | III |
|----|--------------|-----------|--------------|
| A) | atardamarı | havuzcuk | toplardamarı |
| B) | toplardamarı | nefronlar | atardamarı |
| C) | toplardamarı | havuzcuk | atardamarı |
| D) | atardamarı | nefronlar | toplardamarı |

11. Ahmet Bey, haftada iki gün üçer saat diyaliz makinesine bağlanmaktadır.

Ahmet Bey'in makinaya bağlanma nedeni ne olabilir?

- A) İdrar yollarında enfeksiyon oluşmuştur.
B) Böbreklerde iltihaplanma olmuştur.
C) Böbrekler kan süzme işini tam yapamamaktadır.
D) İdrar yaparken yanma ve ağrı şikayeti vardır.

12. 1. Nefrit
2. Böbrek yetmezliği
3. Böbrek taşı
4. Reflü

Verilenlerden hangisi boşaltım sistemi hastalıklarından değildir?

- A) 1 B) 2 C) 3 D) 4



SINIF İletişim ve İnsan İlişkileri

1. Olumlu iletişime başlamak zor değildir. Sabahları uyan-
dığımızda, okula gittiğimizde karşılaştığımız insanlara
"günaydın" diyerek onları selamlamak, onların hal
hatırlarını sormak olumlu iletişimi başlatmanın en kolay
yoludur.

**Yukarıdaki metne verilebilecek en uygun başlık
aşağıdakilerden hangisidir ?**

- A) İletişimin önemi
- B) İletişimin unsurları nelerdir
- C) Dikkatli iletişim nasıl olur
- D) Olumlu iletişim nasıl başlar

2. Sen dili;

- Senle başlar veya senle biter
- Yargılayıcı, suçlayıcıdır
- Eleştiricidir
- Kırıcı olabilir.

**Buna göre aşağıdaki cümlelerden hangisi "sen
dili" ne örnek olabilir?**

- A) Okula neden geç kaldın
- B) Seni göremeyince meraklandım
- C) Yüksek sesle konuştuğunda üzülüyorum
- D) Benimle oynayınca mutlu oldum

3. İyi bir dinleyici olan Ali arkadaşlarıyla son derece başa-
rılı bir iletişim kurmaktadır. Arkadaş ortamında sevilen
düşüncelerine önem verilen birisi olmuştur.

**Buna göre iyi bir dinleyici olan Ali'den aşağıdaki-
lerden hangisi beklenmez?**

- A) Dikkatini karşındakine verir
- B) Göz teması kurar
- C) Son sözü söylemek için çabalar
- D) Yargılamadan ve suçlamadan dinler.

4. İletişimin bazı teknikleri kullanarak çok sayıda kişiyi et-
kileyecek biçime getirilmesine kitle iletişimi, bunun için
kullanılan araçlara ise kitle iletişim araçları denir.

**Buna göre aşağıdakilerden hangisi kitle iletişim
aracı olamaz?**

- A) Mektup
- B) Televizyon
- C) Radyo
- D) Dergi

5. Bir ülkede yayın yapan kuruluşların belirli ilkeler çerçe-
vesinde yayın yapmaları gerekmektedir.

**Ülkemizde televizyon ve radyo kanallarını denetle-
me yetkisine sahip devlet kuruluşu aşağıdakilerden
hangisidir?**

- A) TRT
- B) RTÜK
- C) TÜİK
- D) AA

6. İnsanlar arası etkileşimde kitle iletişim araçları önemli
bir etkiye sahiptir.

**Aşağıdakilerden hangisi kitle iletişim araçlarının
olumsuz yönlerinden biridir?**

- A) Demokrasinin gelişmesini sağlar
- B) İnsanların eğlenmesini sağlar
- C) İnsanların eğitilmesine yardımcı olur
- D) İnsanları karamsarlığa sürükler

İletişim ve İnsan İlişkileri

7. **Anne:** Telefonda çok konuşuyorsun

Ayşe: Anneciğim arkadaşımдан ödevimi alıyorum

Anne: Sınıfta dersi dinleseydin hiç gerek kalmazdı, demek ki ders dinlemiyorsun

Ayşe: Hayır anneciğim o sırada öğretmen beni görevlendirmişti.

Yukarıdaki konuşmada Anne hangi iletişim hatası yapmıştır?

- A) Suçlama
B) Alay etme
C) Yalan söyleme
D) Yargılama

8. **Aşağıdakilerden hangisi iyi bir iletişim kurmak için gerekli olan öğelerden değildir?**

- A) Ön yargılı olmak
B) Empati kurmak
C) Dikkatli dinlemek
D) Saygı duymak

9. Etkili bir iletişimde vücut dili, ses tonu, el kol hareketleri, jest ve mimikler çok önemli rol oynar.

Diyen bir kişi iletişimin hangi önemli etkenini unutmuştur?

- A) Konunun akışı
B) Bağırarak konuşma
C) Göz teması
D) Ayrıntıya girmek

10. "Etkili iletişim için en önemli etken iletişimi başlatan cümlelerdir"

Aşağıdakilerden hangisi etkili iletişimi başlatma ifadelerinden biri değildir?

- A) Merhaba
B) Teşekkür ederim
C) Bugün nasılsınız
D) Günaydın

11. Soğuk çay ve pilavı kabul edebiliriz ama asık suratlılığı asla. (Çin atasözü)

Bu atasözü iletişimdeki hangi unsuru vurgulamaktadır?

- A) Dürüstlük
B) Açık sözlülük
C) Güler yüzlü olmak
D) Empati

12. Halk arasında ile ilgili güzel sözler vardır: "benim yerimde sen olsaydın ne yapardın?", kendine yapılmasını istemediğin bir davranışı sende başkasına yapma."

Buna göre ile gösterilen yere aşağıdaki hangi kelime yazılırsa cümle doğru tamamlanmış olur.

- A) Empati kurmak
B) Dürüst olmak
C) Alay etmek
D) Dinlemek



Adı :
Soyadı :
Sınıf :
NO :

1	2	3	4	5	6	7	8	9	10	11	12
A	A	A	A	A	A	A	A	A	A	A	A
B	B	B	B	B	B	B	B	B	B	B	B
C	C	C	C	C	C	C	C	C	C	C	C
D	D	D	D	D	D	D	D	D	D	D	D

Doğru :
Yanlış :
Boş :
Puan :

SINIF DESCRIBING PEOPLE

1 - 2. sorularda boş bırakılan yere uygun gelen kelime ya da ifadeyi işaretleyiniz.

1. Jack : - - - - ?

Arda : He is tall with short wavy hair.

- A) Who has short wavy hair
- B) What does your father look like
- C) What does your uncle do
- D) Who is your best friend

2. Deniz : Merve is my best friend.

Sally : Why?

Deniz : Because she always tells the truth.

Sally : I see, you mean - - - - .

- A) she is energetic
- B) she is generous
- C) she is honest
- D) she is mean

3.



Görseldeki kişiyi ifade eden seçenek hangisidir?

- A) She is slim with short, curly, dark hair.
- B) She is beautiful with long, wavy, blonde hair.
- C) She is well-built with long, wavy, dark hair.
- D) She is overweight with short, curly, blonde hair.

4.

I love my aunt, she is beautiful with long brown hair and glasses.



Konuşma balonunda söz edilen kişi hangisidir?

A)



B)



C)



D)



5. Dave is a good student. He listens to the teacher carefully and studies regularly at home.

Metinde söz edilen kişi ile ilgili söylenenlerden hangisi doğrudur?

- A) He is hardworking.
- B) He is easygoing.
- C) He is honest.
- D) He is lazy.

6. Mark : Tom is sometimes selfish.

Bill : What do you mean?

Mark : - - - - .

Konuşmayı tamamlayan seçenek hangisidir?

- A) He is slim with short hair
- B) He loves helping people
- C) He only thinks about himself
- D) He studies hard

DESCRIBING PEOPLE

7 - 8 - 9. soruları aşağıda verilen konuşma balonlarına göre cevaplayınız.

I am never late for school.



Hilal

I am not careful. I usually break things.



Efe

I care about other people.



Sena

I like spending money and giving presents to my friends.



Umut

7. - - - - is thoughtful.

- A) Hilal B) Sena
C) Efe D) Umut

8. Umut is - - - - .

- A) punctual B) thoughtful
C) generous D) clumsy

9. Which is false?

- A) Hilal is stubborn.
B) Efe is clumsy.
C) Sena isn't selfish.
D) Umut isn't stingy.

10 - 11 - 12. soruları aşağıda verilen diyaloga göre cevaplayınız.

Feride : Look. This is my family photo.

Carol : How nice! Who is that old woman with grey hair?

Feride : She is my grandma, Gönül, I love her. She is very lovely and generous. She gives me presents when I visit her.

Carol : And the tall man?

Feride : He is my uncle, Burak. He is a lawyer. He is really smart and gentle. I love him.

Carol : Who is the young girl?

Feride : She is my cousin, Sude. She is a student. She is cheerful and she has a lot of friends but she is a bit stubborn.

Carol : Is that lady your mom?

Feride : Oh, yes. She is my mom, Pelin. She is a nurse. She likes helping people and she is a perfect cook.

Carol : You have a big family.

Feride : Yes. I love my family.

10. - - - - is sociable.

- A) Gönül B) Pelin
C) Burak D) Sude

11. - - - - is clever.

- A) Burak B) Sude
C) Pelin D) Gönül

12. "Gönül." ifadesi hangi sorunun cevabıdır?

- A) What does Gönül look like?
B) Who is clever?
C) Who is generous?
D) Why does she like Pelin?



Adı :
Soyadı :
Sınıf :
NO :

1	2	3	4	5	6	7	8	9	10	11	12
A	A	A	A	A	A	A	A	A	A	A	A
B	B	B	B	B	B	B	B	B	B	B	B
C	C	C	C	C	C	C	C	C	C	C	C
D	D	D	D	D	D	D	D	D	D	D	D

Doğru :
Yanlış :
Boş :
Puan :