

Adı:
Soyadı:

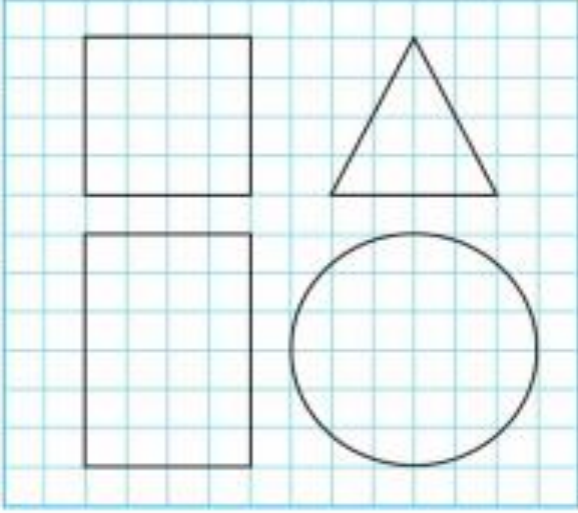


1/G Çalışma Kağıdı

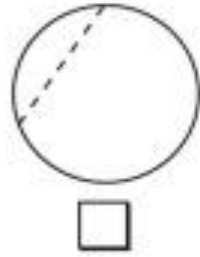
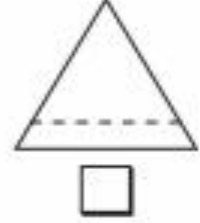


Tarih
...../...../2019

Aşağıdaki şekillerin yarısını boyayalım.



Aşağıdaki şekillerden iki eş parçaya (yarım) ayrılmış olanları işaretleyelim.



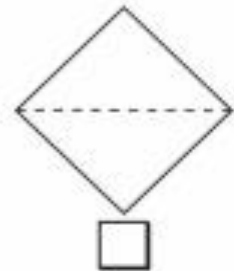
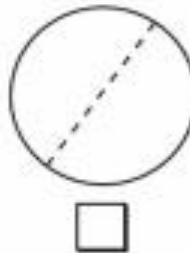
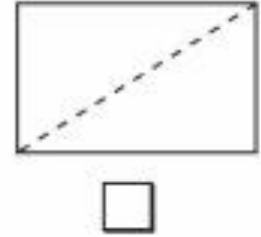
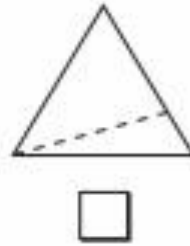
Aşağıda verilen yarım ekmeklerin kaç tam ekmek olduğunu altına yazalım.



..... tam ekmek.



..... tam ekmek.



Aşağıdaki cümleleri örnekteki gibi uygun sayılarla tamamlayalım.

2 tane yarım¹.....
bütün eder.

4 tane yarım
bütün eder.

6 tane yarım
bütün eder.

8 tane yarım
bütün eder.

10 tane yarım
bütün eder.


1 bütün 2 yarım
bütün eder.

8 yarım bütün
eder.

3 bütün 6 yarım
bütün eder.

5 bütün yarım
eder.

Birbirine eş olan yarım meyveleri eşleştirelim.



Aşağıda verilenlerin yarımını bulup örnekteki gibi yuvarlak içine alalım.

