

Adı:
Soyadı:



Türkçe
3/F Çalışma Kağıdı



Tarih
...../...../2019

A. Adların özelliklerine göre tabloyu dolduralım.

Ad	Tekil Adlar	Çoğul Adlar	Topluluk Adlar
çiçek			
saz			
orman			
Mehmetler			
lale			
bahçeler			
Karabaş			
deste			
arabalar			
İngilizler			
sürü			

B. Aşağıda verilen tekil adları çoğul ad yaparak tekrar yazalım.

şarkı	<input type="text"/>
göl	<input type="text"/>
saat	<input type="text"/>
sözlük	<input type="text"/>
bulut	<input type="text"/>
bardak	<input type="text"/>

ZAVALLI HOROZ

Zeynep teyze kocaman bir evde hizmetçileriyle beraber yaşamış. Her sabah horozun sesiyle uyanır, hizmetçileri de kaldırmış. Ama hizmetçiler bu durumdan çok rahatsızlanmış. Horoz yüzünden erken kalktıklarını düşünürler, horoza çok kızarlarmış.

Bir gün evin hanımı yokken horozu yakalayıp kesmişler. Zeynep teyze gelince hemen durumu anlamış. Hizmetçilerine "Artık horoz yok bundan sonra daha erken kalkmalıyız." demiş. Hizmetçiler de horozu kestiklerine pişman olmuşlar.

İlk üç soruyu parçaya göre cevaplayalım.

1. Zeynep teyze nasıl bir evde yaşamış?
A. Küçük bir kulübede
B. Kocaman bir evde
C. Apartman dairesinde
2. Zeynep teyze, kiminle yaşamış?
A) Oğluyla B) Kocasıyla
C) Hizmetçileriyle
3. Hizmetçiler yaptıklarından dolayı kendilerini nasıl hissetmişler?
A. Üzgün B. Pişman C. Mutlu

DAMA ATILAN PABUÇLAR

Ali bahçeden büyük bir şaşkınlıkla evin damına bakıyordu. Dayısı, merak edip sordu. Damda bir şey mi var Ali?

Ali:


- Metin'in pabuçlarını görmeye çalışıyorum.
- Anlamadım ne pabucu?
- Metin'in yeni doğan kardeşi, ağabeyinin pabuçlarını dama attı, dediler.

Gülten DAYIOĞLU

1. Ali neyi görmeye çalışıyordu?
A. Kardeşini
B. Metin'in pabuçlarını
C. Evin çatısını
 2. Evin damına şaşkınlıkla kim bakıyordu?
A. Dayısı B. Babası C. Ali
 3. Yukarıdaki metinde kaç tane soru cümlesi vardır?
A. 1 B. 2 C. 3
- Aşağıdaki cümlelerden olumsuz soru cümlesi olanı işaretleyelim.

- En sevdiğin kitabın adı nedir?
- Ali okuldan hâlâ dönmedi mi?
- Asena ödevini bitirdi mi?
- Efe sütünü içmedi mi?
- Beni kim aradı?
- Kerem beni sormadı mı?

Genel Yetenek



Yukarıdaki ilk iki şekil arasında bir ilişki vardır. Buna göre 3. şekil ile hangi şekil arasında böyle bir ilişki vardır?



Enes SERT
3/F Sınıfı Çalışmaları

Adı:
Soyadı:

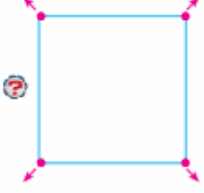
Matematik
3/F Çalışma Kağıdı

Şiir Yazalım
İlkbahar – Piknik - Deniz

Nokta

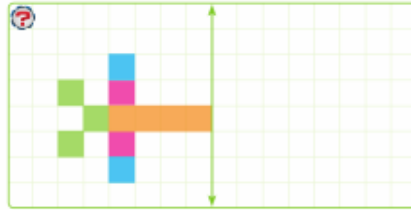
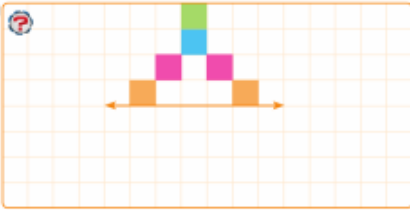
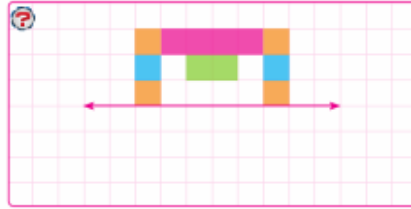
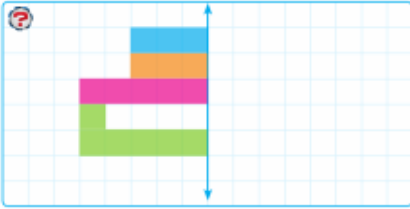
Aşağıdaki geometrik şekillerin köşelerine birer harf vererek isimlendirelim.

A.noktası



Simetri

Aşağıdaki şekillerin simetriğini, simetri doğrularına göre çizip uygun renklerle boyayalım.



Yatay, Dikey ve Eğik Doğru Parçası

Verilen harflerde kullanılan yatay, dikey ve eğik doğru parçası sayılarını yazalım.

A

- Yatay :
- Dikey :
- Eğik :

V

- Yatay :
- Dikey :
- Eğik :

K

- Yatay :
- Dikey :
- Eğik :

L

- Yatay :
- Dikey :
- Eğik :

E

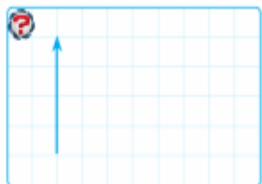
- Yatay :
- Dikey :
- Eğik :

M

- Yatay :
- Dikey :
- Eğik :

Açı

Aşağıdaki ışınlarla açı oluşturabilecek ışınlar çizelim.



Üst Düzey Beceri Soruları

Yaşımın 7 katı ile 4 katının farkı 39'dur. Buna göre ben kaç yaşındayım?

Bir sınıftaki kız öğrencilerin sayısı erkeklerin yarısından 3 fazladır. Sınıftaki öğrenci sayısı 78 kişi olduğuna göre, erkeklerin sayısı kızların sayısından kaç fazladır?

Özlem bir sırada önden 31.'dir. Özlem'den 4 kişi önde olan Özge kaçınıcı sıradadır?

Bir sınıftaki öğrenciler 16 sıraya ikişer kişi oturduklarında 7 öğrenci ayakta kalıyor. Aynı sıralara öğrenciler üçer kişi otururlarsa kaç sıra boş kalır?