

Adı:
Soyadı:

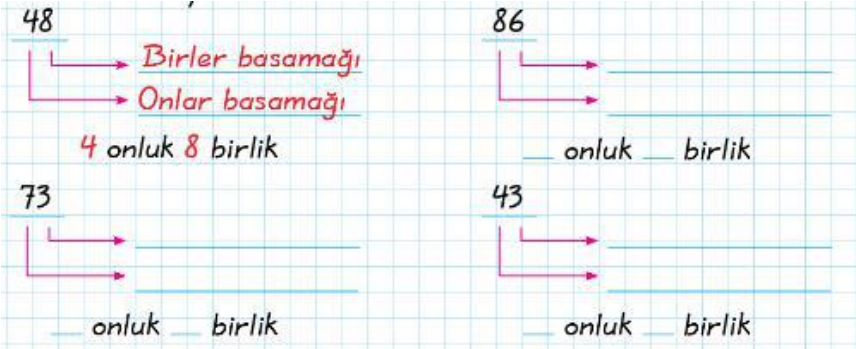


Matematik
2/F Çalışma Kağıdı



Tarih
...../...../2017

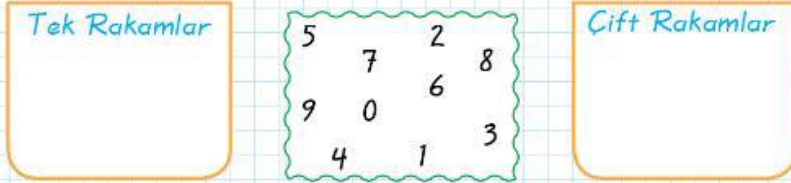
---- Genel Tekrar ----



• 32'den başlayalım. Geriye doğru dörder ritmik sayma yapalım.



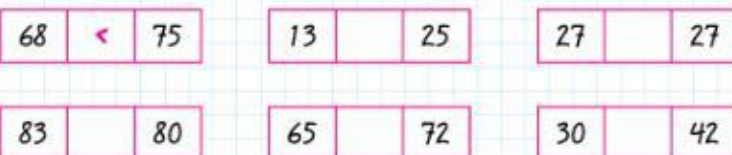
• Aşağıdaki rakamları uygun oldukları kutucuklara yazalım.



• Aşağıda istenen sayıları yazalım.

İki basamaklı en küçük çift sayı: _____
İki basamaklı en büyük tek sayı: _____
İki basamaklı rakamları birbirinden farklı en büyük tek sayı: _____
İki basamaklı en büyük çift sayı: _____
İki basamaklı en küçük tek sayı: _____
İki basamaklı rakamları birbirinden farklı en küçük tek sayı: _____

• Verilen sayıların arasına ">, <, =" işaretlerinden uygun olanlarını yazalım.



---Mini Test---

Bir otobüsteki 54 yolcunun 18'i kadın, 24'ü erkek, diğerleri çocuktur.

Otobüste kaç çocuk vardır?

A) 12 B) 11 C) 10

Ezgi, biriktirdiği 60 TL'nin 18 TL'siyle kitap aldı, 15 TL'de kardeşine verdi.

Ezgi'nin kaç lirası kalmıştır?

A) 27 B) 25 C) 22

Kumbarasında 38 TL biriktiren İrem'e, 16 TL de annesi verdi. İrem, parasının 26 TL'si ile kitap aldı.

İrem'in kaç lirası kalmıştır?

A) 28 B) 29 C) 30

Hangi sayı ile 25 toplanırsa 78 sayısı elde edilir?

A) 93 B) 63 C) 53

5 onluk 4 birlikten oluşan sayıdan 3 onluk çıkarılırsa fark kaç olur?

A) 44 B) 34 C) 24

Hangisinin en yakın onluğu yanlış yazılmıştır?

A) 32 → 30 B) 28 → 30
C) 25 → 20

Adı:
Soyadı:



Matematik
2/F Çalışma kağıdı



Atasözünün Anlamını öğren
Eğri otur, doğru söyle.

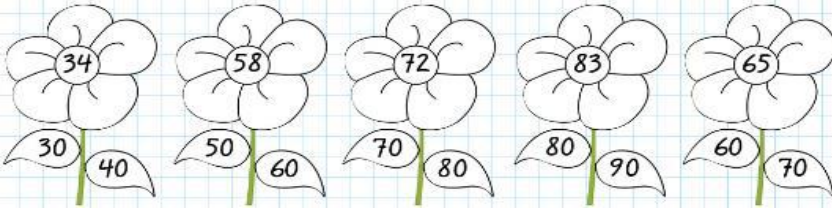
----Genel Tekrar----

- Resmi inceleyelim. Cümleleri, "önce, sonra, arasında" sözcüklerinden uygun olanlarıyla tamamlayalım.



- Özlem, Kaan'dan _____ gelir.
- Ebru, Kaan ile Emre'nin _____
- Emre, Ebru'dan _____ gelir.
- Kaan, Emre'den _____ gelir.
- Kaan, Özlem'le Ebru'nun _____
- Erdem, Emre'den _____ gelir.
- Emre, Erdem ile Ebru'nun _____

- Çiçeklerdeki sayıların en yakın onluklarının olduğu yaprakları boyayalım.



-----Üçlü Toplama-----

$$\begin{array}{r} \text{○} \\ 33 \\ + 28 \\ + 18 \\ \hline \end{array} \quad \begin{array}{r} \text{○} \\ 38 \\ + 14 \\ + 8 \\ \hline \end{array} \quad \begin{array}{r} \text{○} \\ 49 \\ + 19 \\ + 23 \\ \hline \end{array} \quad \begin{array}{r} \text{○} \\ 67 \\ + 17 \\ + 9 \\ \hline \end{array} \quad \begin{array}{r} \text{○} \\ 59 \\ + 18 \\ + 7 \\ \hline \end{array}$$

-----Verilmeyen Toplananı Bulalım-----

- Aşağıdaki işlemlerde verilmeyen toplananları bulalım.

$$\begin{array}{r} 25 \\ + \quad \quad \\ \hline 69 \end{array}$$

$$\begin{array}{r} 23 \\ + \quad \quad \\ \hline 56 \end{array}$$

$$\begin{array}{r} 45 \\ + \quad \quad \\ \hline 78 \end{array}$$

$$\begin{array}{r} 37 \\ + \quad \quad \\ \hline 89 \end{array}$$

-----Onluk Bozarak Çıkar-----

$$\begin{array}{r} 66 \\ - 37 \\ \hline \end{array} \quad \begin{array}{r} 92 \\ - 79 \\ \hline \end{array} \quad \begin{array}{r} 53 \\ - 38 \\ \hline \end{array} \quad \begin{array}{r} 54 \\ - 26 \\ \hline \end{array}$$
$$\begin{array}{r} 80 \\ - 59 \\ \hline \end{array} \quad \begin{array}{r} 30 \\ - 23 \\ \hline \end{array} \quad \begin{array}{r} 45 \\ - 37 \\ \hline \end{array} \quad \begin{array}{r} 34 \\ - 17 \\ \hline \end{array}$$

---Mini Test---

Aşağıdaki işlemlerden hangisi yanlıştır?

$$\begin{array}{r} \text{A) } 63 \\ - 28 \\ \hline 45 \end{array} \quad \begin{array}{r} \text{B) } 52 \\ - 27 \\ \hline 25 \end{array} \quad \begin{array}{r} \text{C) } 53 \\ - 35 \\ \hline 18 \end{array}$$

$$\begin{array}{r} 64 - 28 = \text{■} \\ \text{■} - 24 = \text{▲} \end{array}$$

Yukarıdaki eşitliklere göre ▲ kaçtır?

A) 12 B) 14 C) 16

65 sayısının 35 eksiği ile 36 sayısının 14 fazlasının toplamı kaçtır?

A) 70 B) 80 C) 90

Umut, İdil ve Derin'in yaşları toplamı 68'dir.

Umut 28, İdil 19 yaşında olduğuna göre Derin kaç yaşındadır?

A) 20 B) 21 C) 22

Aşağıdaki işlemlerden hangisinin sonucu 30'dur?

A) $12 + 16$ B) $18 + 14$
C) $17 + 13$

Bir bahçede 26 erik, 28 kiraz ve 16 elma ağacı vardır. Bu bahçede toplam kaç ağaç vardır?

A) 70 B) 60 C) 65