

Adı:
Soyadı:


MATEMATİK ÇALIŞMA KAĞIDI



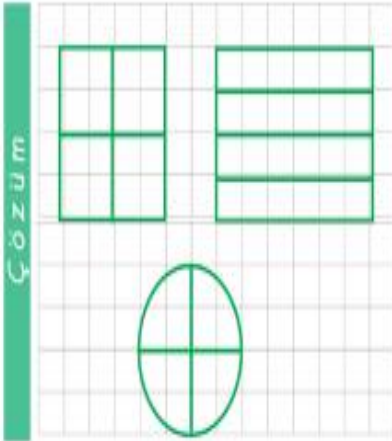
Tarih
...../...../2018

Kesirler

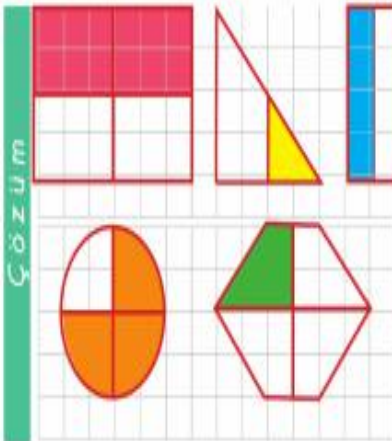
Aşağıdaki şekillerin yarısını boyayınız.




Aşağıdaki şekillerin çeyreğini boyayınız.




Aşağıdaki şekillerden yarısı boyalı olanları işaretleyiniz.



Aşağıdaki şekillerden çeyreği boyalı olanları işaretleyiniz.



Yukarıdaki tavşanların yarısı kaç tavşan eder?

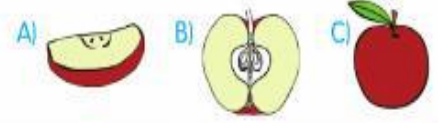


Yukarıdaki armutların çeyreği kaç armut eder?

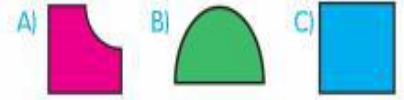


Mini Test

1. Aşağıdaki elmalardan hangisi **yarıma** eşittir?



2. Aşağıdaki şekillerden hangisi 4 eş parçaya bölünebilir?



3. Hangi öğrencinin verdiği bilgi yanlıştır?



Yukarıdaki kuşların **yarısı** kaç kuştur?

A) 10 B) 8 C) 4

5. Çeyreği 4 olan güllerin tamamı kaç tanedir?

A) 16 B) 20 C) 24

6. Aşağıdakilerden hangisi **çeyreği** ifade etmez?



Problemlerde Şekil Çizebilirsiniz



12 cevizimin
çeyreğini kardeşime
verdim.

Şirin

Şirin kardeşine kaç ceviz vermiştir?

Çözüm

4 çeyrek ekmeğe kaç bütün ekmeğe eşittir?

Çözüm

10 yarım elma kaç bütün elmaya eşittir?

Çözüm

2 bütün karpuzdan kaç çeyrek karpuz elde edilir?

Çözüm

Yansı 10 olan kalemlerin tamamı kaç kalemdir?

Çözüm



Yukarıdaki yumurtaların yarısı, kaç yumurtadır?

Çözüm



Annem, babam ve
kardeşlerimle sabah
4 çeyrek ekmeğe, öğlen
2 yarım ekmeğe ve akşam
da 1 bütün ekmeğe yedik.

Sude


Sude ve ailesi bir günde kaç bütün ekmeğe yemiştir?

Çözüm

Sekiz parça çeyrek simit kaç bütün simide eşittir?

Çözüm

7. Yandaki pembe boyalı bölge tüm alanın ne kadarına eşittir?



- A) Yarısına
B) Çeyreğine
C) Tamamına

8. Çeyreği 2 olan sayının 5 fazlası kaçtır?

- A) 9 B) 11 C) 13

9. Aşağıdakilerden hangisi doğrudur?

- A) Yarısı 6 olan sayının tamamı 24'tür.
B) Çeyreği 3 olan sayının tamamı 12'dir.
C) Tamamı 10 olan sayının çeyreği 4'tür.

10. 2 yarım ekmeğe kaç çeyrek ekmeğe eşittir?

- A) 1 B) 2 C) 4

Aşağıdaki şekillerden hangisinin **çeyreği** boyanmıştır?



Yukarıdaki muzların **yarısı** kaç muzdur?

- A) 6 B) 7 C) 8

Aşağıdakilerden hangisi iki bütün oluşturmaz?

- A) 2 çeyrek + 2 yarım
B) 2 yarım + 4 çeyrek
C) 6 çeyrek + 1 yarım

Adı:
Soyadı:

TÜRKÇE ÇALIŞMA KAĞIDI



Tarih
...../...../2018

Aşağıdaki hikâyeyi iki defa okuyalım. Hikâye haritasını oluşturalım.

YANLIŞ HESAP

Nasreddin Hoca bir gün heybe almak için pazara gider. Güzel bir heybe görüp pazarcı ile pazarlık yapar ve bir akçeye anlaşır. Tam oradan ayrılacaktır ki daha güzel bir heybe dikkatini çeker.



Pazaracıya,

— Kaç akçe şu heybe muhterem, diye sorar.

Pazaracı,

— İki akçe Hoca'm, der.

— Aldım gitti, diyen Hoca elindeki bırakır ve onu alıp tam gideceken pazarcı seslenir:

— Hoca'm bu heybe iki akçe. Sen bana bir akçe verdin, der.

Hoca sinirlenir ve şöyle der:

— Be hesap bilmez adam! Sana önce bir akçe verdim. Sonra da bir akçelik heybe bıraktım. İki eder iki akçe. Daha benden neyin parasını istersin?

Hikayenin haritasını çıkaralım

Hikâyenin karakterleri

Hikâyenin geçtiği yer

Hikâyenin adı

Hikâyenin geçtiği zaman

Hikâyede geçen olay

KENDİMİ DEĞERLENDİRİYORUM

1. "Merasim" sözcüğünün eş anlam-lısı (anlamdaşı) aşağıdakilerden hangisidir?
A) Tören B) Bayram C) Maç
2. "İl" sözcüğünün eş anlam-lısı (anlamdaşı) hangisidir?
A) İlçe B) Kasaba C) Vilayet
3. "Güz" sözcüğünün eş anlam-lısı (anlamdaşı) hangisidir?
A) Sonbahar B) İlkbahar
C) Yaz
4. "Ayşe tahtaya bir tümce yazdı." cümlesinde altı çizili sözcüğün yerine hangi sözcük yazılırsa cümlenin anlamı değişmez?
A) sözcük B) cümle C) deyim
5. "Tanık" sözcüğünün eş anlam-lısı (anlamdaşı) hangisidir?
A) Suçlu B) Şahit C) Sabıkalı
6. "Rüyamda annemi gördüm." cümlesinde altı çizili sözcüğün yerine hangi sözcük yazılırsa cümle-nin anlamı değişmez?
A) Hayalimde
B) Yolda
C) Düşümde

BALIKLARIN MASALI

Gemiye bineli altı ay olmuştu. Bir gün reis beni yanına çağırıp,

– Yarın sihirli adada olacağız. Ona göre hazırlığını yap, dedi.

Hazırlık yapacak pek bir şey yoktu. Ertesi gün daha güneş doğmadan sihirli torbayı yerinden çıkardım.

Reisi beni bekler buldum. Bana başarılar diledikten sonra şu iki şeyi sıkı sıkı tembih etti.

– Ağaçtaki bütün meyveleri topl. Bir tek meyve bile kalmasın. Ve güneş batmadan gemiye dön. Elini çabuk tut, mutlaka güneş batmadan gemiye dönmelisin, dedi.

Reise,

– Sözlerini unutmayacağım, dedim.

Engin KÖSEOĞLU

1. Yazar, gemiye bineli ne kadar zaman oldu?
A) Beş ay B) Altı ay C) İki ay
2. Yazar ve reis ertesi gün nerede olacaktı?
A) Ülkelerinde B) Büyük limanda C) Sihirli adada
3. Reis, yazara neler tembih etti?
A) Ağaçtaki meyveleri topl, güneş batmadan geri dön.
B) Limana yanaş, yüklerini boşalt.
C) Sihirli adaya çık, orada aylarca dolaş.
4. Yazar, reisin yanından ne diyerek ayrıldı?
A) Sözlerini unutmayacağım.
B) Gemiye hemen döneceğim.
C) Geminin yüklerini boşaltacağım.

Anlamli Kuralli Cümle

eve - servis - okuldan - ile - geldim

toplamiş - portakalları - Caner - ağaçtaki

gitmiş - annesiyle - Selim - parka

Aşağıdaki cümleleri okuyalım. ()
yerlerine uygun noktalama işaretlerini koyalım.

Bize gelecek mi bilmiyorum ()

Of, çok yoruldu ()

Bu kalemler senin mi ()

Yaşasın, sınavda başarılı oldum ()

Bu sabah erkenden uyandım ()

Eyvah, okula geç kaldım ()

Geceleri erken yatalım ()

Şiir okumayı sever misin ()

Dayım Almanya'da yaşıyor ()

Ay, parmağım yandı ()

Oyun oynayalım mı ()