

Adı:  
Soyadı:



Matematik  
3/F Çalışma Kağıdı








Tarih  
...../...../2019

### Tartma

→ Aşağıdaki varlıkların ağırlıklarını ölçmek için hangi miktarlardan kaçar tane kullandığımızı örnekteki gibi yazalım.

Varlıklar	 1 kilogram	 500 kilogram	 250 kilogram
 3500 gram	3 tane	1 tane	—
 2750 gram			
 10 kilogram			

→ Hangi ölçümler birbirine eşittir? Kutuya yazalım.

A 8000 g		3000 g 1
B 500 g		1000 g 2
C 1 kg		yarım kg 3
D 6000 g		6 kg 4
E 3 kg		8 kg 5

→ Aşağıda okunuşları verilen saatleri çizelim.

 A 22.45	 B 10.30	 C 07.15	 D 17.30	 E 21.00
--	--	--	--	--

### Problemler

Kışa girerken tenekesi 16 kg olan 3 teneke salça almıştık. Kış sonu 4 kg salça kaldığına göre kış boyunca kaç kg salça kullandık?

Murat 42 kg'dır. Osman, Murat'tan 3 kg daha ağırdır. Hasan da Murat'tan 7 kg daha hafiftir. Üçünün toplam ağırlığı kaç kg'dır?

90 kg'lık buğday 5 kg'lık çuvalara doldurulacaktır. Bu iş için kaç adet çuvala ihtiyacımız vardır?

1 kg'ı 8 TL olan fındığın 1 kg 500 gramı kaç TL'dir?

Annesi Nehir'e yarım kg çilek aldı. Nehir çileğin 200 gramını yedi. Geriye kaç gram çilek kaldı?

4 paket şeker 1 kilogram ediyor. 8 kilogram şeker kaç paketten oluşur?

Adı:  
Soyadı:

Türkçe  
3/F Çalışma Kağıdı

Bir Bilmece Yaz

Çocukların dostu olan kar, nihayet yağdı. Dün akşamdan beri durmadan, yasemin çiçekleri gibi büyük parçalar hâlinde yağıyor.



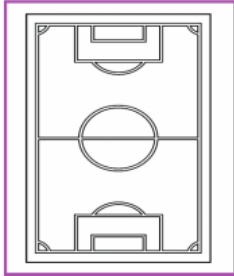
Okuldan çıktığımız zaman ortalığı büyük bir bayram havası kaplamıştı. Herkes, bağırarak sokakta yuvarlanıyor, karı avuçluyor, bata çıka karın içinde yürüyordu. Şemsiyeler, bembeyaz karla örtülmüştü. Benim çizgili şapkam da karla örtülmüş, çizgileri görünmüyordu.

Bütün öğrenciler sonsuz bir sevinç içindeydiler. Gezginci manav kadının oğlu, çantasına kar dolduruyordu.

Edmondo De AMİCİS (Çocuk Kalbi)

1. Yazar, karı aşağıdakilerden hangisine benzetiyor?  
A. pamuğa  
B. yasemin çiçeklerine  
C. süngere
2. Öğrenciler karın yağmasını nasıl karşılıyorlar?  
A. sevinçle  
B. üzüntüyle  
C. şaşkınlıkla
3. Şemsiyelerin karla örtülmesi aşağıdakilerden hangisini göstermektedir?  
A. Karın yavaş yağdığını  
B. Karın yeni başladığını  
C. Karın yoğun yağdığını
4. Metnin başlığı aşağıdakilerden hangisi olamaz?  
A. Kar Sevinci  
B. İlk Kar  
C. Karın Zararları
5. Metinde aşağıdaki sorulardan hangisinin cevabı yoktur?  
A. Kar ne zaman yağmaya başlamıştır?  
B. Kar yağışı kaç gün sürecektir?  
C. Çocuklar niçin sevinçlidir?
6. Aşağıdaki kelimelerden hangisi yapım eki almamıştır?  
A. kömürlük  
B. kömürler  
C. kömürcü

Yapay çevre unsurlarını bulup resimleri renklendirelim.



Aşağıdaki bulmacada verilen kelimeler içinden, canlı ve cansız varlıkların adlarını bulup aşağıdaki listeye yazınız.

T	H	A	Y	V	A	N	L	A	R	J	B
O	K	A	P	L	U	M	B	A	Ğ	A	A
P	A	K	A	R	S	U	L	A	R	C	L
R	H	A	V	A	K	A	R	P	U	Z	I
A	K	A	R	T	A	L	K	E	D	İ	K
K	K	A	Y	A	Y	A	Ğ	M	U	R	L
İ	S	M	K	A	N	A	R	Y	A	M	A
N	A	E	R	O	K	K	E	D	İ	A	R
S	R	R	Ü	K	A	K	G	T	K	S	D
A	M	D	Z	Y	P	İ	Ü	O	A	A	A
N	A	İ	G	A	L	T	N	P	Ş	M	Ğ
L	Ş	V	A	N	A	A	E	A	I	U	L
A	I	E	R	U	N	P	Ş	Y	K	Z	A
R	K	N	Ğ	S	A	K	A	R	S	U	R

Canlı Varlıklar:

.....

.....

.....

.....

.....

.....

.....

.....

.....

.....

Cansız Varlıklar:

.....

.....

.....

.....

.....

.....

.....

.....

.....

.....