

Adı:
Soyadı:



1/G Çalışma Kağıdı



Tarih
...../...../2019

1. Aşağıdaki hayvanlardan en ağır olanı hangisidir?



"13" sayısından önceki ve sonraki sayılar hangi seçenekte doğru verilmiştir?




Çatıdaki sayı, hangi renkteki kutuların içinde verilen sayıların toplamıdır?

A) Yeşil ve mavi

B) Yeşil ve sarı

C) Yeşil ve kırmızı



Yanda modellenen çıkarma işleminde, çıkan sayı kaçtır?

A) 2

B) 4

C) 6



Resimdeki terlikleri aşağıdakilerden hangisi ile alabiliriz?





6. Tepsideki yarım elmalardan kaç tane bütün elma oluşur?

A) 4

B) 6

C) 8

7. Aşağıdaki saatlerden hangisi 5'i göstermektedir?




8. Takvim yaprağı hangi aya aittir?


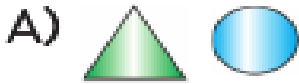
A) Mart

B) Nisan

C) Mayıs



Yukarıdaki örüntü aşağıdakilerden hangileriyle devam etmelidir?



10. Yandaki tabloya göre aşağıdakilerden hangisi söylenemez?

Tablo: Sevilen Meyveler

Meyveler	Öğrenci sayısı
	8
	4
	5
	3

A) En çok sevilen meyve muzdur.

B) Öğrenciler kirazı, mandalınadan daha çok seviyor.

C) Kiraz seven öğrenci sayısı, elma sevenlerden azdır.