

Adı:  
Soyadı:

MATEMATİK  
ÇALIŞMA KAĞIDI



Tarih  
...../...../2018

(MATEMATİK) GENEL TEKRAR - PROBLEMLER



Dart oynayan Umutcan ilk atışta 17, ikinci atışta 19 ve üçüncü atışta 14 puan almıştır. Üç atışta toplam kaç puan almıştır?


Hangi sayının yarısının 24 fazlası 44'tür?


Hazel koşu yarışmasına katılacaktır. 95 metrelik mesafenin önce 20 metresini, sonra iki defa 15 metresini koşmuştur. Koşması gereken kaç metrelik mesafe kalmıştır?


65 sayısının 35 eksiğinin, 27 fazlası kaçtır?


Öykü, Küçük Prens kitabından birinci gün 13, ikinci gün 19 ve üçüncü gün 24 sayfa okumuştur. Üç gün boyunca kaç sayfa kitap okumuştur?

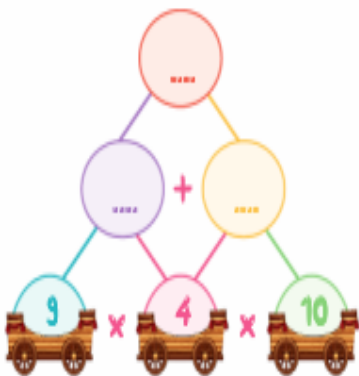
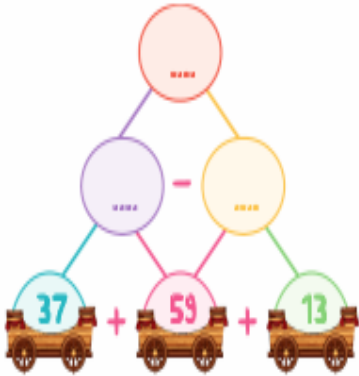
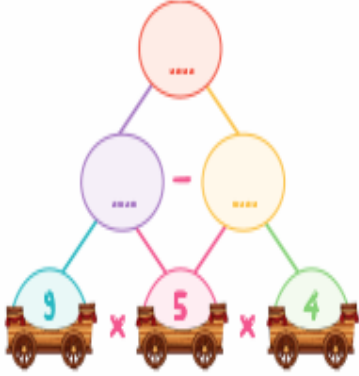
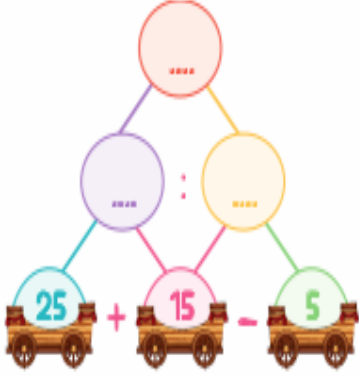

10 liranın 7 katının, 32 eksiği kaçtır?


Eşleştirmeleri yapalım.

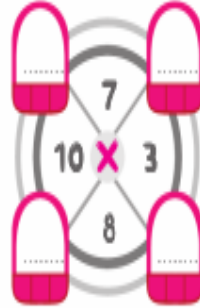
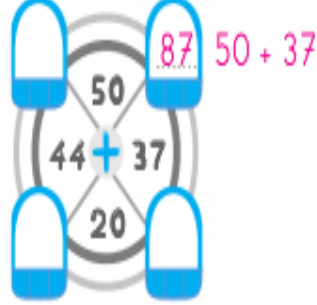




Uygun dört işlemi kullanarak sonuçları bulalım.



Verilen işlemlerle sonuçları bulalım.



Eylemlerle görselleri eşleştirilim.

dance



slide



run



skip a rope



swing



jump



walk



sing a song

