

Adı:
Soyadı:



MATEMATİK
Tema Değerlendirme



Tarih
...../...../2018

2. SINIF MATEMATİK

GENEL DEĞERLENDİRME - 1

1. Aşağıdakilerden hangisi 24 sayısını ifade etmektedir?

Onluk Birlik

- A) 2 onluk 4 birlik
B) 1 onluk 4 birlik
C) 4 onluk 2 birlik

2. 2 deste kalem ile 3 düzine kalem alan Murat, kaç kalem almıştır?

- A) 50 B) 56 C) 60


3. 

Yukarıda üçer ritmik sayma yapılmıştır. Boş bırakılan yerlere sırasıyla hangi seçenekteki sayılar getirilmelidir?

- A) 16 - 22 - 25
B) 17 - 23 - 27
C) 18 - 24 - 27

4. Aşağıdaki sayı dizilerinden hangisi küçükten büyüğe ve sembol kullanılarak doğru sıralanmıştır?

- A) $16 < 24 < 31 < 35 < 42$
B) $21 > 23 > 25 > 28 > 30$
C) $14 > 21 > 31 > 32 > 48$



Numaralandırılmış evlerin camlarındaki işlemler yapıp çatılarına yazılacaktır.

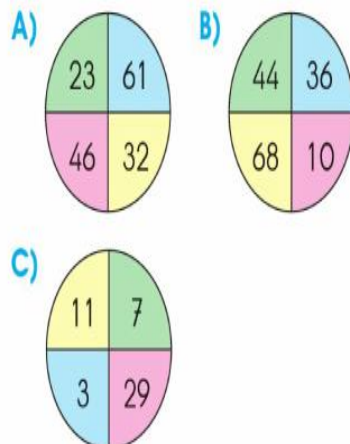
Hangi evin çatısına diğerlerinden farklı bir sayı yazılır?

- A) 2 B) 3 C) 4

6. Onlar basamağındaki sayının basamak değeri 60, birler basamağındaki sayının basamak değeri 3 olan sayı hangisidir?


- A) 63 B) 36 C) 62

7. Aşağıdaki sayı çarklarının hangisindeki sayıların tümü çift sayıdır?



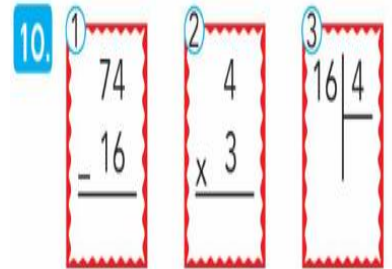
8. Saat 8.00'de evden çıkıp 12.00'de dönen annem, dışarıda kaç saat kalmıştır?

- A) 20 B) 5 C) 4

9. 

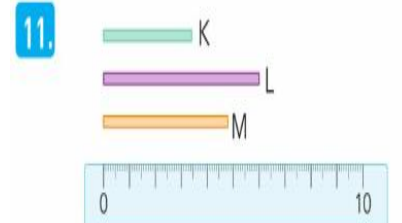
Yukarıdaki sayı örüntüsü iki adım genişletilirse noktalı yerlere aşağıdaki sayılardan hangileri yazılır?

- A) 20 - 21 B) 23 - 27 C) 24 - 26



Kaç numaralı işlemin sonucu 50'den fazladır?

- A) 1 B) 2 C) 3

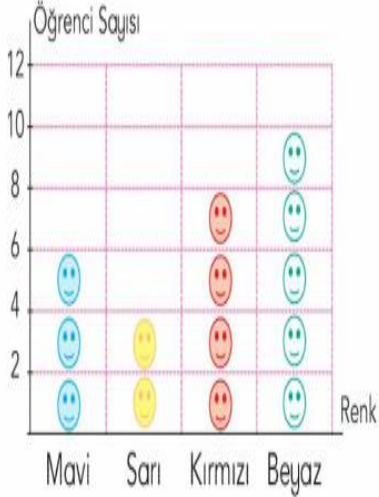


Cetvele göre yukarıdaki çubuklardan hangisinin uzunluğu 6 santimetredir?

- A) K B) L C) M

12, 13 ve 14. soruları aşağıdaki şekil grafiğine göre yanıtlayınız.

Grafik: Sevilen Renkler



Bir sınıftaki öğrencilerin sevdiği renkleri yukarıdaki grafikte gösterilmiştir.

12. Sınıf mevcudu kaçtır?

- A) 24 B) 28 C) 30


13. En çok sevilen renk hangisidir?

- A) Beyaz B) Kırmızı C) Mavi

14. Beyaz rengi seven öğrencilerin sayısı, sarı rengi seven öğrencilerin sayısından kaç fazladır?

- A) 4 B) 6 C) 8

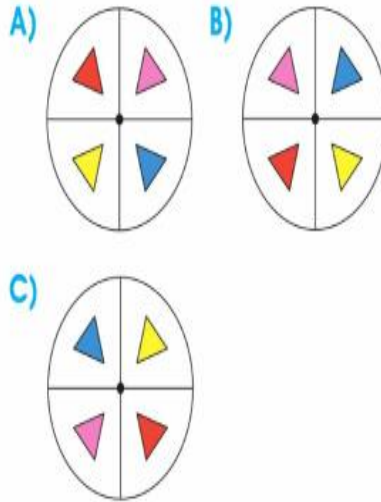
15.



Yukarıdaki şekillerden hangileri iki eş parçaya ayrılır?

- A) ① - ② B) ② - ③
C) ① - ③

16. Saat yönünde çeyrek döndürülünce görüntüsü yandaki gibi olan şekil aşağıdakilerden hangisidir?



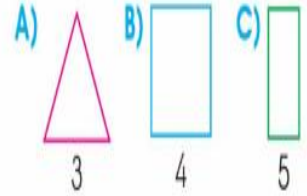
17. Yandaki toplama işleminin sonucunu sayıları en yakın oldukları onluklara tamamlayarak tahmin eden öğrencilerden hangisinin tahmini, gerçek sonuca en yakındır?

$$\begin{array}{r} 19 \\ + 28 \\ \hline \end{array}$$


- A) Benim tahminim 40.
B) Benim tahminim 50.
C) Benim tahminim 60.

18. Aşağıdaki geometrik şekillerin altlarına kaç köşeli oldukları yazılmıştır.

Hangi geometrik şeklin köşe sayısı yanlış yazılmıştır?



19.



Yukarıdaki vazolarda bulunan toplam çiçek sayısını tahmin eden öğrencilerden hangisinin tahmini, gerçek sonuca en yakındır?

- A) 20 B) 40
C) 60

20. Haftanın 4 günü işe giden Seda Hanım, haftada kaç gün işe gitmiyordur?

- A) 1 B) 2 C) 3

ENES SERT
2/F SINIFI ÇALIŞMALARI