

Adı:
Soyadı:



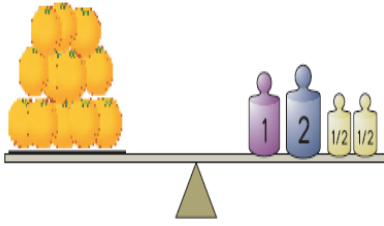

Matematik
3/F Çalışma Kağıdı



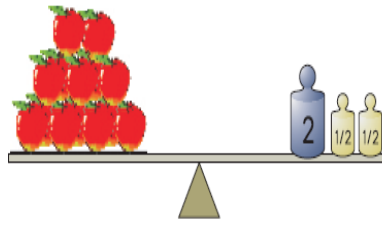
Tarih
...../...../2019

Tartma

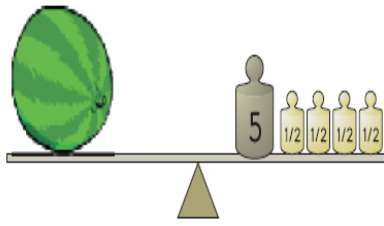
Terazilerde tartılan meyvelerin kaç kilogram geldiğini yazınız.



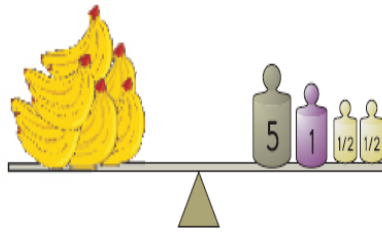
Portakallar ___ kg'dır.



Elmalar ___ kg'dır.

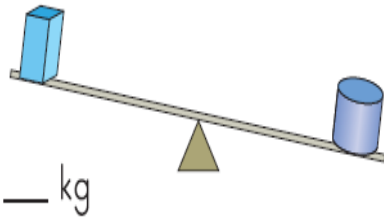


Karpuz ___ kg'dır.

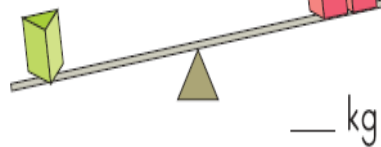


Muzlar ___ kg'dır.

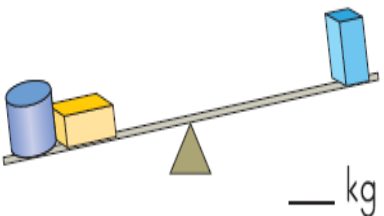
Terazilerin dengede olması için boş olan kefeye kaç kilogram ağırlık konulması gerektiğini yazınız.



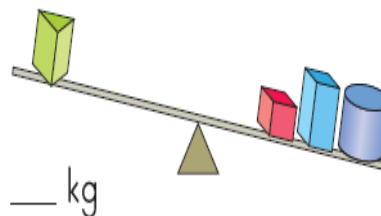
___ kg



___ kg



___ kg



___ kg

Mini Test

Her birinde 200 g küp şeker olan 15 kutuda toplam kaç kilogram şeker vardır?

Çeyrek kilogramı 150 kr. olan muzdan 2 kilogram aldık. Kaç lira ödememiz gerekir?

Bir kilogramı 16 ₺ olan zeytinden 250 g aldık. Kaç lira ödememiz gerekir?

5 kg 800 g nohut, her biri 200 g nohut alan torbalara dolduruluyor. Bu iş için kaç torba gerekir?

4 kg şekerin önce $\frac{1}{4}$ 'i, sonra yarısı satıldı. Geriye kaç kilogram şeker kaldı?

5 kg domates kurutulduğunda 2 kg gelmektedir. 20 kg domates kurutulduğunda kaç kilogram gelir?

Adı:
Soyadı:

Fen Bilimleri-Hayat
3/F Çalışma Kağıdı

Atasözümüz

Ak akçe kara gün içindir

Aşağıdaki cümlelerden doğru olanların başına "D", yanlış olanların başına "Y" yazalım.

Doğal çevre kendiliğinden oluşmaz.



Bitkiler ve hayvanlar canlıdır.



Pil kumbaraları oluşturmalıyız.

Çevremizi temiz hâle getirmek sadece belediyelerin görevidir.

Sağlıklı yaşamak için dengeli beslenmeliyiz.



Gündüz lambaları yakan biri bilinçli bir tüketici değildir.

Yaşadığımız çevredeki okullar ve camiler yapay çevreyi oluşturur.

Canlı varlıklar beslenemez.

Aşağıdaki durumlarla karşılaştığınızda neler yapmanız gerektiğini örnekteki gibi numaralandırarak eşleştiriniz.

Tehlikede olduğunuzu hissettiğinizde **1**

Asansörün birden fazla düğmesine basın.

Evde bulunduğumuz süre içerisinde **2**

En yakındaki yetkililere şikayet edin.

Asansördeyken güvenliğinizi tehdit eden bir durumda **3**

1 Hemen bağırın.

Yürüyüş esnasında kulaklıkla müzik dinliyorsanız **4**

Yolculara tahsis edilmiş alanlarda bekleyin.

İstasyon ve durakların تنها olduğu yerlerde **5**

Kapıları kilitli tutun.

Yolda yürürken birileri sizi rahatsız ediyorsa **6**

Güvenli bir yer bulup saklanın.

Ailenizle yürürken şiddetli bir patlama sesi duyarsanız **7**

Duyabileceğiniz kadar kısık sesle dinleyin.

Mini Test

Yeşil renkli uyarı levhaları, sağlıklı ve güvenli durumları belirtmek amacıyla kullanılır.

Yukarıda verilen bilgiye göre hangisi acil çıkış levhasıdır?



Kaza anında yapılan ilk müdahale aşağıdakilerden hangisidir?

- A. Soruşturma
B. İlk yardım
C. Ameliyat

Aşağıdaki olumsuz hava şartlarının hangisinde trafik kazası olma olasılığı **daha** fazladır?

- A. Yağmurlu havalarda
B. Güneşli havalarda
C. Bulutlu havalarda

Aşağıdaki davranışlardan hangisi **yanlıştır**?

- A. Kaybolduğumuz zaman polisten yardım istemek
B. Kaybolduğumuzda sokaktaki birinden bizi evimize götürmesini istemek
C. Güvenlik görevlilerinden anne ve babamıza telefon etmesini istemek

Trafik kazalarında **en fazla** kusur hangisindedir?

- A. Yayaalarda
B. Dikkatsiz araç sürücülerinde
C. Bakımsız araçlarda