

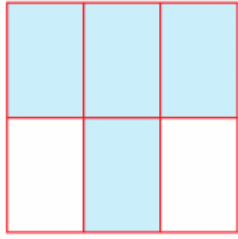
Adı:  
Soyadı:

**MATEMATİK**  
**ÇALIŞMA KAĞIDI**



Tarih  
...../...../2018

**Kesirler**

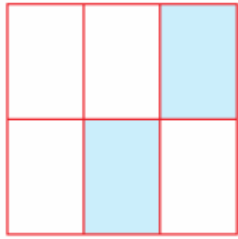


✓ kesir sayısı :  $\frac{\square}{\square}$

✓ okunuşu : .....

✓ anlamı : .....

**ÖRNEK:**



✓ kesir sayısı :  $\frac{2}{6}$

✓ okunuşu : "Altıda iki" veya "iki bölü altı" diye okunur.

✓ anlamı : Bir bütün 6 eş parçaya bölünmüş, 2 parçası alınmış.

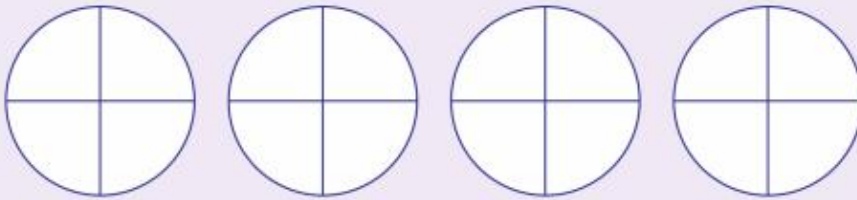


✓ kesir sayısı :  $\frac{\square}{\square}$

✓ okunuşu : .....

✓ anlamı : .....

Aşağıdaki şekillerin belirtilen kesir kadarını boyayınız.




$\frac{1}{4}$

$\frac{2}{4}$

$\frac{3}{4}$


$\frac{4}{4}$



$\frac{3}{9}$



$\frac{1}{5}$



$\frac{2}{10}$

**Mini Test**

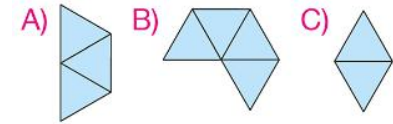
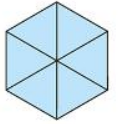


Uğur ve arkadaşları, 8 çeyrek elma yediler.

**Buna göre kaç tane elma yemişlerdir?**

- A) 2 B) 3 C) 4

Yanda verilen şeklin yarısı aşağıdakilerden hangisidir?



Murat'ın annesi Banu Hanım yaptığı salataya 4 çeyrek limon sıkıyor.

**Buna göre Banu Hanım salataya ne kadar limon sıkmıştır?**

- A) Çeyrek B) Yarım C) Bütün

**Aşağıdaki ifadelerden hangisi doğrudur?**

- A) 4 yarım bir bütün eder.  
B) 3 çeyrek bir yarıma eşittir.  
C) 4 çeyrek bir bütüne eşittir.

Hande Hanım, 2 karpuzu 8 çocuğa eşit olarak dağıtıyor.

**Çocuklardan birine ne kadar karpuz vermiştir?**

- A) Çeyrek B) Yarım C) Bütün

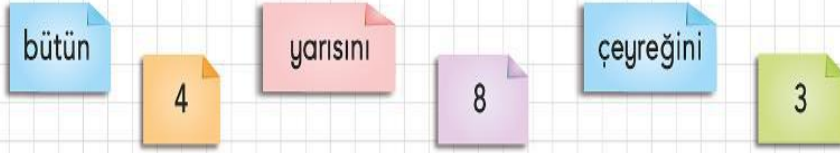
## DOĞRU MU YANLIŞ MI

Aşağıdaki ifadeleri okuyunuz. İfadelerden doğru olanların başına "D", yanlış olanların başına "Y" yazınız.

- (.....) İki yarım, bir bütün eder.
- (.....) Bir yarım, dört çeyrek eder.
- (.....) Bir çeyrek elde etmek için bir bütün iki eş parçaya bölünür.
- (.....) Bir bütünden dört çeyrek elde edilir.
- (.....) Yarım, iki eş parçaya bölünerek çeyrek elde edilir.

## BOŞLUKLARI DOLDURALIM

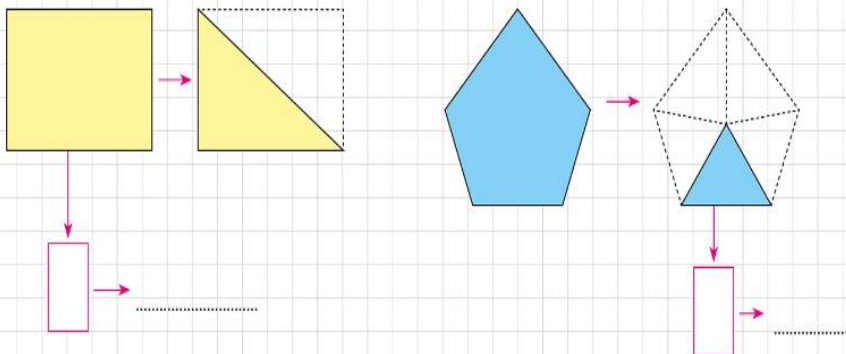
Aşağıda verilenlerle ifadelerdeki boşlukları doldurunuz.



- Bir bütün ekmekte ..... tane çeyrek ekme vardır.
- Bir elmayı iki arkadaş eşit paylaştığında biri ..... alır.
- Bütün pastayı dört arkadaş eşit paylaştığında biri ..... yer.
- Dört yarım portakal yiyen biri, iki ..... portakal yemiş olur.
- Bir şeftalinin çeyreği yendiğinde geriye ..... çeyrek şeftali kalır.
- İki tane limon çeyrek limonlara ayrıldığında ..... çeyrek limon eder.



## KESİRLERİ VE OKUNUŞLARINI YAZINIZ



Akşam 4 çeyrek kek yedim.

Ben 2 çeyrek kek yedim.




Ben de çeyrek kek yedim.

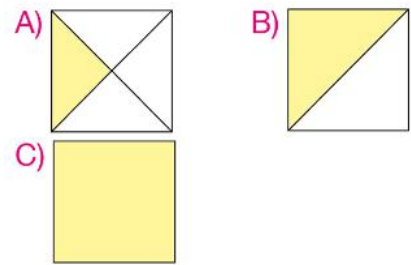
Yukarıdaki üç arkadaşın hangisi bir bütünün yarısı kadar kek yemiştir?

- A) Cemil B) Naz C) Okan

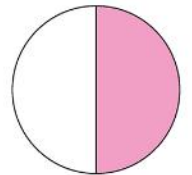
Verilen nesnelere altta belirtilen kadarlık kısmını göstermeyen hangisidir?



Aşağıdaki şekillerden hangisi  $\frac{1}{4}$  kesrini göstermektedir?



Yanda verilen modellemeye göre aşağıdakilerden hangisi yanlıştır?



- A) Boyalı bölge,  $\frac{1}{2}$  kesri ile gösterilir.  
B) Boyalı bölge, şeklin yarısıdır.  
C) Boyalı bölgeyi gösteren kesrin paydası 4'tür.



Adı:  
Soyadı:

## TÜRKÇE ÇALIŞMA KAĞIDI



Tarih  
...../...../2018

### FARELİ KÖYÜN ÇALGICISI

Çok uzak bir ülkede mutluluk içinde yaşayan bir köy varmış. Bir gün bu köyün bütün evlerine fareler dolmuş. Binlerce fare, köyün sokaklarında dolaşmış. Halk, farelerle başa çıkamayınca muhtardan çare bulmasını istemiş. Ama muhtarın da elinden bir şey gelmiyormuş. O yıl sonbahara doğru köye bir çalgıcı gelmiş. Muhtara, "Eğer bana bir kese altın verirsiniz köyünüzü farelerden kurtarırım." demiş. Köy halkı artık farelerden kurtulacakları için çok sevinmiş. Bir kese altını toplayıp çalgıcıya vermiş.

Fareler gelmeden önce köy halkı nasıl yaşıyormuş?

.....

Fareler nerelere dolmuşlar?

.....

Halk kimden çare bulmasını istemiş?

.....

Aşağıdaki cümlelerin taşıdığı anlamı belirleyelim. Karşılarındaki kutucuklara "duygu, düşünce, haber, istek" sözcüklerinden uygun olanı yazalım.

• Bugün eve erken gideceğim için çok mutluyum.



• Babam, oturma odasında televizyon izliyor.



• Hafta sonu pikniğe gidelim.



• Büyüklerimize karşı her zaman saygılı olmalıyız.



### Sebep Sonuç Eşleştir

• Top oynarken çok terledim.

• Sonunda hastalandım.

• Yüzme bilmiyordum.

• Küçük bir bahçe yapmıştı.

• Çiçekleri çok seviyordu.

• Okula hep geç kalıyor.

• Sabah erken kalkamıyor.

• Denize giremedim.

SEBEP

SONUÇ

### GEYİK İLE KAPLUMBAĞA

Bir sonbahar günü, ormanda koşan geyiğin ayağı bir kaplumbağaya takılmış. Kaplumbağa, "Nereye bastığına dikkat etsen!" diye söylenmiş. "O kadar hızlı koşuyorum ki önümdeki her şeyi göremem." demiş geyik. Kaplumbağa, "Eğer istersem senden daha hızlı koşarım." diye cevap vermiş. Bunun üzerine kaplumbağa ile geyik bir yarışma düzenlemeye karar vermişler.

(1, 2 ve 3. soruları yukarıdaki hikâyeye göre yanıtlayınız.)

1. Geyik, kaplumbağa ile nerede karşılaşmış?

- A. Tarlada
- B. Ormanda
- C. Su kenarında

2. Geyik ile kaplumbağa ne zaman karşılaşmış?

- A. Bir sonbahar günü
- B. Bir yaz akşamı
- C. Bir kış günü

3. Geyik niçin kaplumbağayı görmemiş?

- A. Etrafına bakmadığı için
- B. Ormanı seyrettiği için
- C. Çok hızlı koştuğu için

4. Havanın sıcaklığı Hoca'yı iyice bunaltmış.



Sonunda yol kenarında bir çeşme görmüş.



Hasrettin Hoca, çok sıcak bir yaz günü yolculuğa çıkmış.



İçi yanmış, susadıkça susamış.

Numaralanmış cümleler olayların oluş sırasına göre nasıl sıralanabilir?

- A. 4 - 3 - 2 - 1
- B. 3 - 1 - 4 - 2
- C. 1 - 3 - 2 - 4



## Başlığı Bulalım

Her çocuğun yüzünde  
Annesini tanıdığı ilk günkü  
O ilk gülümsemeden kalma  
Gizli bir parlaklık vardır.  
Yalnız annesi görür onu  
Ve yalnız annesi tanır.



ANNE VE ÇOCUK

ÇOCUK

ÇOCUK VE OKUL

Tablo 1 ve Tablo 2 deki kelimeleri eş anlamlarına göre eşleştir.

1 fayda	2 sağlık	3 sorun
4 oy	5 tank	6 istikbal
7 koşul	8 nesil	9 uygarlık

Tablo - 2



şahit	rey	kuşak
problem	sihhat	yarar
medeniyet	gelecek	şart



Televizyonda çeşitli programlar başlarken ekranda bazı işaretler görürüz. Bu işaretler, programın içeriği ile ilgili bize bilgiler verir.

Elif

Aşağıdakilerden hangisi Elif'in sözünü ettiği işaretlerden biri değildir?



"Çilek" sözcüğüne aşağıdakilerden hangisi getirilirse "birden fazla çilek" anlamında bir sözcük oluşur?

A. -de B. -ler C. -in

Aşağıdaki öğrencilerden hangisi çoğul ad kullanmamıştır?

A. Tarlada işçiler çalışıyordu.

B. Oyuncaklarımdan bazı-  
larını kardeşime verdim.

C. Hava buz gibi soğuktu.

- Bugün herkez bir araya geldi.
- Köpeğim karabaşın yavruları oldu.

Bu cümlelerdeki yanlış yazılan sözcüklerin doğrusu aşağıdakilerden hangisinde verilmiştir?

- A. herkes – Karabaş'ın  
B. her kez – Karabaşın  
C. herikes – karabaş'ın

Aşağıda verilen üç sözcükten ikisi karşıt anlamlıdır. Karşıt anlamlı olmayan sözcüğü  içine alalım.

- |             |         |         |             |        |        |
|-------------|---------|---------|-------------|--------|--------|
| 1. açık     | dolu    | kapalı  | 6. çalışkan | usta   | acemi  |
| 2. uzak     | yakın   | ileri   | 7. ucuz     | pahalı | fiyat  |
| 3. temiz    | düzenli | kirli   | 8. geç      | erken  | vakit  |
| 4. katı     | sert    | yumuşak | 9. iyi      | güzel  | çirkin |
| 5. çalışkan | yararlı | tembel  | 10. tatlı   | ılık   | acı    |

## Cümleyi Tamamlayalım

Tarladaki işçiler.....

Annem ve babamla oturup.....

Okula giden çocuklar .....

Sağlığımızı korumak için soğuk .....