




7. Aşağıdaki saatlerden hangisi altı buçuğu göstermektedir?





Mayıs						
Pazartesi	Salı	Çarşamba	Perşembe	Cuma	Cumartesi	Pazar
	1	2	3	4	5	6
7	8	9	10	11	12	13
14	15	16	17	18	19	20
21	22	23	24	25	26	27
28	29	30	31			

8 . soruyu yukarıdaki takvime göre cevaplayınız.


8 . Bugün mayısın 12'si ise 3 gün sonra mayısın kaçı olur?
A) 14 B) 15 C) 16

9. Aşağıdakilerden hangisinin köşesi yoktur?



10. Yukarıdaki şişeler dolu olandan, az dolu olana doğru nasıl sıralanır?

A) 1 - 4 - 2 - 3 B) 4 - 2 - 3 - 1 C) 1 - 2 - 3 - 4



11.

Resimdeki fırça kaç kare uzunluğundadır?

A) 11 B) 13 C) 15