

Adı:  
Soyadı:

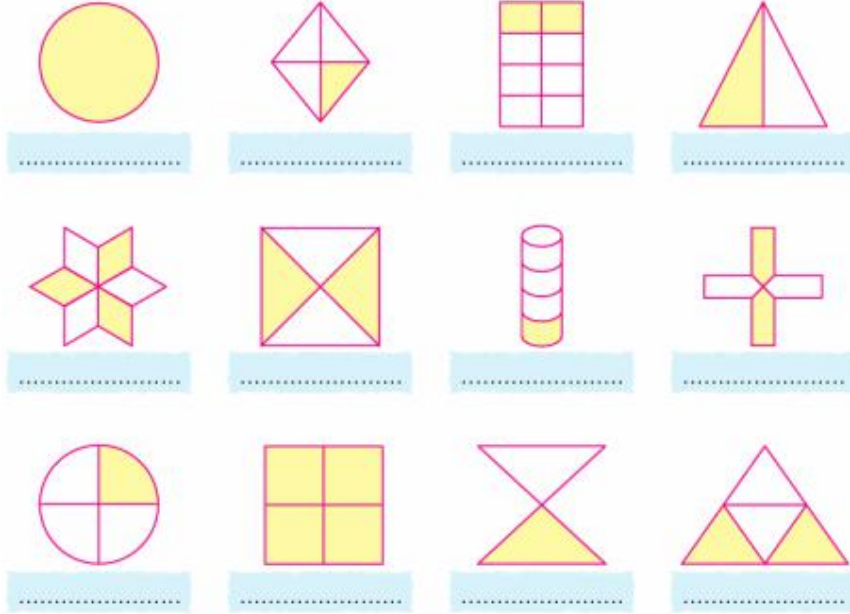
MATEMATİK  
ÇALIŞMA KAĞIDI



Tarih  
...../...../2018

**Kesirler**

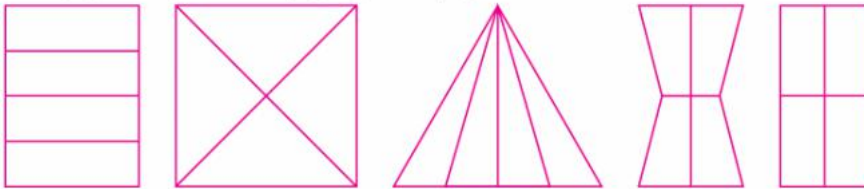
Aşağıdaki şekillerde noktali yerlere bütün, yarım, çeyrek ifadelerinden uygun olanı yazalım.



Aşağıdaki cümleleri uygun sayılarla tamamlayalım.

- Bir bütün ..... yarım eder.
- İki çeyrek ..... yarım eder.
- Dört çeyrek ..... bütün eder.
- İki yarım ..... bütün eder.
- 12 elmanın yarısı ..... elma eder.
- 8 yumurtanın çeyreği ..... yumurta eder.
- 1 deste kalemin yarısı ..... kalem eder.

Aşağıdaki şekillerin çeyreğini boyayalım.



Aşağıda tablo içindeki nesnelerin çeyreğini boyayalım. Altlarında yazılı ifadeleri tamamlayalım.



- 16 tane elmanın çeyreği, ..... tane elma eder.
- 20 tane küpün çeyreği, ..... tane küp eder.

**Kesir Problemleri**

Belgin'in oyuncaklarının yarısı 8 tanedir.

Oyuncağlarının 4 tanesini kardeşine verirse geriye kaç oyuncacı kalır?

Bir doğal sayının  $\frac{1}{4}$ 'i 2'dir.

Bu sayının 2 katı kaçtır?

Bir tabaktaki cevizlerin çeyreği kadarı 8 tanedir.

Cevizlerin 12 tanesi yenilirse tabakta kaç ceviz kalır?

28 sayfalık kitabımın çeyreğini okudum.

Geriye okumam gereken kaç sayfam kaldı?

Günde çeyrek saat yürüyüş yapıyorum.

12 günde kaç saat yürümüş olurum?

Aşağıdaki bölme işlemlerini yapalım.

$2 \div 2$	$4 \div 2$	$6 \div 2$	$8 \div 2$	$10 \div 2$
$12 \div 2$	$14 \div 2$	$16 \div 2$	$18 \div 2$	$20 \div 2$
$3 \div 3$	$6 \div 3$	$9 \div 3$	$12 \div 3$	$15 \div 3$
$18 \div 3$	$4 \div 4$	$8 \div 4$	$12 \div 4$	$16 \div 4$
$20 \div 4$	$5 \div 5$	$10 \div 5$	$15 \div 5$	$20 \div 5$

Aşağıdaki ifadelerden doğru olanların başına "D" harfi, yanlış olanların başına "Y" harfi koyalım. Yanlış olan ifadeleri düzelterek altlarındaki boşluğa yazalım.

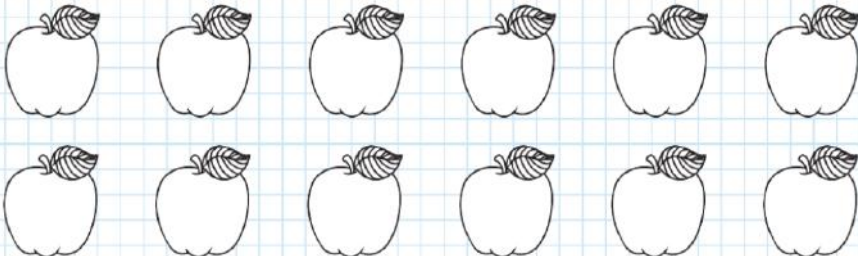
1 bütün 2 çeyrekte oluşur.

4 bütün 8 yarımdan oluşur.

2 yarım 6 çeyreğe eşittir.

12 çeyrek 3 bütüne eşittir.

Aşağıdaki elmaların çeyrek kadarını kırmızıya boyayınız.



Mini Test



Yandaki elma ile ilgili aşağıdaki hangi ifade doğrudur?

- A) Bütün elmadır.  
B) Yarım elmadır.  
C) Çeyrek elmadır.

Özlem Hanım aldığı 12 yumurtanın yarısı ile kek yaptı. Kalan yumurtaların 4 tanesini kahvaltıda kullandı.

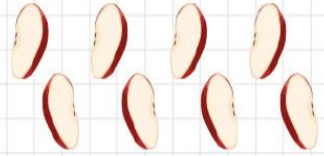
Geride kaç yumurta kalmıştır?

- A) 2 B) 6 C) 8

Merve 20 kalemın çeyreğini kardeşine verdi.

Merve kardeşine kaç tane kalem vermiştir?

- A) 4 B) 5 C) 6



Yukarıdaki elmalar, kaç bütün elma eder?

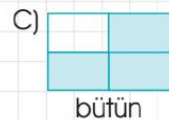
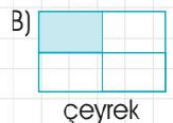
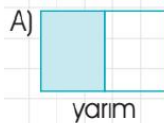
- A) 2 B) 4 C) 8

Efe'nin 12 lirası vardı. Parasının çeyreği ile kitap aldı.

Efe'nin geriye kaç lirası kalmıştır?

- A) 3 B) 6 C) 9

Aşağıdaki şekillerin taralı kısımlarından hangisi ile ilgili kullanılan ifade yanlış?



Adı:  
Soyadı:

## TÜRKÇE ÇALIŞMA KAĞIDI



Tarih  
...../...../2018

### AKILLI KÜÇÜK TAVŞAN

Küçük tavşan, yuvasından burnunu çıkarmış, hava alırken,  
— Ah, diyormuş, bir büyüsem. Kırlarda koşup oynamak ne hoş olacak! O zaman istediğim yere giderim. Yiyeceklerin en iyilerini bulup yerim.

O sırada bir av köpeği, yuvaya yaklaşmış,  
— Cici tavşan gel, seni güzel bir yere götürüyüm. Orada öyle tatlı havuçlar, lahanalar var ki bayılırsın, demiş.

Tavşan sormuş:

— Gideceğimiz yer uzak mı?

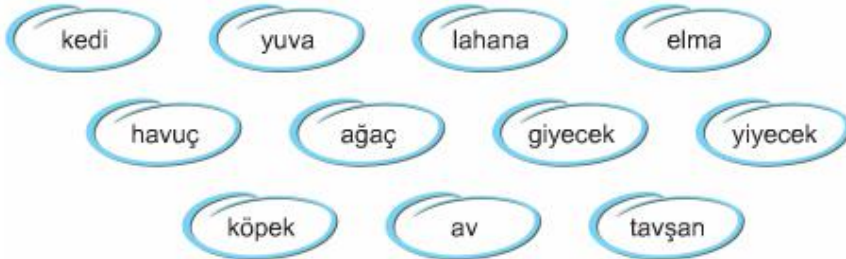
— Yok yok, şuracıkta.

Küçük tavşan, köpeğin sözlerine inanmamış. Burnunu biraz daha içeri çekmiş,

— Bizim yuvamızdaki yiyecekler hepsinden daha tatlı. O lahanaları, havuçları siz başkasına verin, demiş.

Köpek, küçük tavşanı kandıramayacağını anlamış, uzaklaşıp gitmiş.

“Akıllı Küçük Tavşan” metninin anahtar sözcüklerini bulalım. Kırmızıya boyayalım.



### ANLADIK MI?

1. Küçük tavşan, burnunu nereden çıkarmış?

.....

2. Küçük tavşan, neden büyümek istiyormuş?

.....

3. Küçük tavşanın yuvasına yaklaşan kimmiş?

.....

Satırlardaki sözcükleri sözlük sırasına göre örnekteki gibi sıralayalım. Sıraladığımız sözcükleri numaralandıralım.

3	bisküvi	2	bebek	1	baba	4	börek
	nevale		nöbet		numara		nane
	peçete		limon		bardak		zeytin
	ğ						o üs
	çiçek		kanal		ütü		hayat

### Hayat Bilgisi Mini Testim

Aşağıdaki durumlardan hangisi görgü kuralı **değildir**?

- A. Yemek yerken ağız kapalı tutmak
- B. Kendi tabağımızdan yemek yemek
- C. Günde üç öğün yemek yemek

Aşağıdaki öğrencilerden hangisinin davranışı arkadaşlarının sağlığını korumaya yöneliktir?

- A. Çok terledik, oyuna ara verelim.
- B. Teneffüste merdivenleri üzer üzer inelim mi?
- C. Tuvalette birbirimize su atalım, kim kimi daha çok ıslatacak?

Aşağıdakilerden hangisini yapmak sadece kendi sağlığımızla ilgili **değildir**?

- A. Açıkta satılan gıdaları yemek
- B. Hapşırırken ağızımızı kapatmak
- C. Yiyecekleri yıkayıp yemek

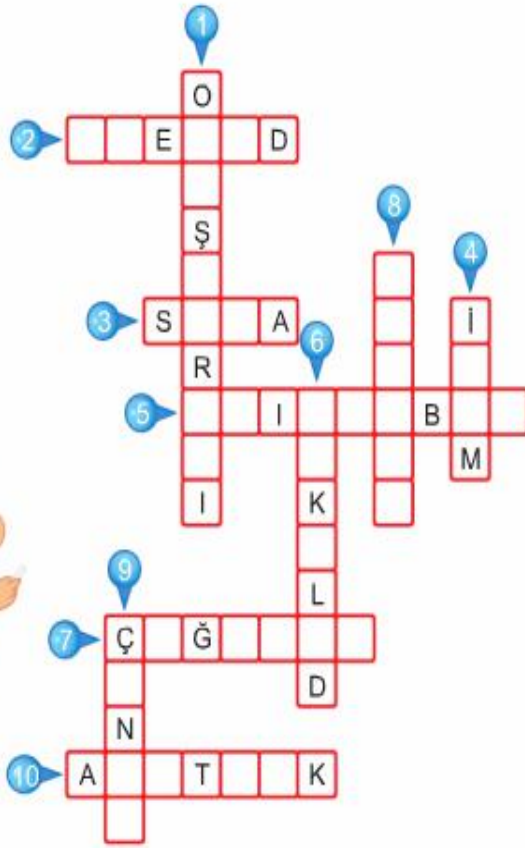
Enes SERT  
2/F Sınıfı Çalışmaları

## Bulmaca Çözelim



Soruların cevaplarını verilen ipuçlarından yararlanarak bulmacaya yazalım.

1. Hikâyeleri ve olayları önce, şimdi, sonra gibi ifadelerle anlatma.
2. Eşi ve benzeri olmayan tek bir varlığa verilen ad.
3. Sınıflarda kullanılan ve oturup yazı yazılacak biçimde yapılmış olan mobilya.
4. Bir varlığı belirtmeye, onu tanıtmaya yarayan sözcük, ad.
5. Atatürk'ün mezarının bulunduğu anıtsal yapı.
6. Tek bir varlığı belirten ad.
7. Birden çok varlığı belirten ad.
8. Aynı türden varlıkların adı.
9. Ders araç gereçlerini içine koyduğumuz araç.
10. Ulu önderimiz Mustafa Kemal'in soyadı.



Aşağıdaki işaretler ile işaretlerin anlamlarını eşleştirelim.



Dikkat  
Ölüm  
Tehlikesi

Sessiz  
Olalım



7 Yaş  
ve Üzeri

Yaya  
Geçidi



Bisiklet  
Giremez

Genel  
İzleyici  
Kitle



Aşağıdakilerden hangisi çevreyi güzelleştirmekle ilgilidir?

- A. Okul bahçesinde oynamak
- B. Okul bahçesine çiçek dikmek
- C. Koridorlarda koşmamak

Aşağıdaki davranışlardan hangisi yemekte görgü kurallarına uymamaktadır?

- A. Ayakta yemek yemek
- B. Yemekte peçete kullanmak
- C. Yemekte çatal bıçak kullanmak

Aşağıdaki öğrencilerden hangisi doğru ve sağlıklı beslenmektedir?

- A. Her gün tatlı ve çorba içerim.
- B. Her gün hazır yiyecekler yiyerek zaman kazanırım.
- C. Günde üç öğün yemek yerim.



Sabah kahvaltısı için tablodaki yiyeceklerden kaçısı uygundur?

- A. 4
- B. 5
- C. 6