

Adı:
Soyadı:



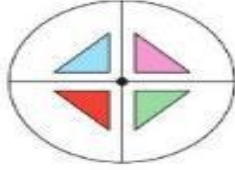
2/F SINIFI
1.DENEME SINAVI



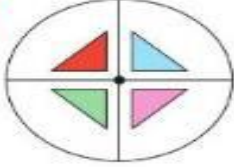
Tarih
...../...../2017

22-----

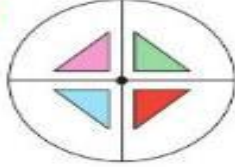
Yandaki şekil saat yönünde çeyrek döndürülürse görünüşü hangi seçenekteki gibi olur?



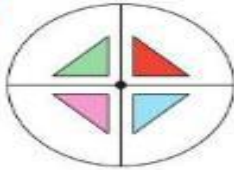
A)



B)



C)



23-----



Yukarıdaki varlıklardan kaç tanesi simetriktir?

A) 3 B) 2 C) 1

24-----

Aşağıdaki toplama işlemlerinden hangisi doğrudur?

A) $\begin{array}{r} 18 \\ + 29 \\ \hline 37 \end{array}$ B) $\begin{array}{r} 34 \\ + 9 \\ \hline 33 \end{array}$ C) $\begin{array}{r} 27 \\ + 19 \\ \hline 46 \end{array}$

25-----

5 deste kalemın 6 fazlası kaç kalem eder?

A) 54 B) 56 C) 58

26-----

$$18 + 13 + ? = 51$$

Yukarıdaki toplama işleminde "?" yerine hangi sayı yazılmalıdır?

A) 21 B) 20 C) 19

27-----

$$\begin{array}{r} 63 \\ - 23 \\ \hline ? \end{array} \quad \begin{array}{r} 53 \\ - 30 \\ \hline ? \end{array} \quad \begin{array}{r} 73 \\ - 33 \\ \hline ? \end{array}$$

Yukarıdaki çıkarma işlemlerinden kaç tanesinin sonucu "40"tır?

A) 1 B) 2 C) 3

28-----

$$38 - \blacksquare < 25$$

Yukarıda "■" ile gösterilen yere hangi sayı getirilebilir?

A) 5 B) 10 C) 20

29-----

Selin Hanım'ın 75 TL parası vardır. Parasının bir kısmını harcayınca geriye 39 TL parası kaldı.

Selin Hanım, kaç TL harcamıştır?

A) 16 B) 26 C) 36

30-----

$$40 + 50 = 70$$

$$10 + 60 = 80$$

$$50 + 20 = 90$$

Yukarıdaki işlemler zihinden yapıp sonuçlarıyla eşleştirildiğinde hangi sayı açıkta kalır?

A) 70 B) 80 C) 90

*Türkçe ve matematik soruları bitmiştir.
Hayat bilgisi sorularına geçebilirsiniz.*

Başarılar Dilerim

Adı:
Soyadı:




2/F SINIFI
İDENEME SINAVI




Atasözünün Anlamını öğren
Yuvarlanan Taş Yosun Tutmaz.

31-----
Hangi çocuğun söylediği fiziksel özelliklerden biri değildir?

A)  Annem sarı saçlıdır.

B)  Kardeşim resim yapmayı sever.

C)  Babam mavi gözlüdür.

32-----
İlkokul ikinci sınıfa giden Ezgi aşağıdakilerden hangisini yapabilir?

- A) Ütü yapmak
- B) Cam silmek
- C) Çekmeceyi düzenlemek

33-----
Aşağıdakilerden hangisi birlikte çalışmanın temel kurallarından biri değildir?

- A) İş birliği yaparak çalışmak
- B) Görev paylaşımı yapmak
- C) Görevleri tek başına yapmak

34-----
İsteklerimizi ifade ederken hangisini söylememiz doğru olur?

- A) Lütfen!
- B) Bir şey değil.
- C) Teşekkür ederim.




35-----
"Hala" aşağıdakilerden hangisine denir?

- A) Babamızın kız kardeşine
- B) Annemizin annesine
- C) Annemizin kız kardeşine

36-----
"..... yaşamak hayatımızı kolaylaştırır."
Yukarıdaki cümle aşağıdaki sözcüklerden hangisiyle tamamlanmalıdır?

- A) Dintenmeden
- B) Planlı
- C) Üzülerek

37-----
Aşağıdakilerden hangisi temel ihtiyaçlarımızdan biridir?

- A)  Su
- B) 
- C) 

38-----
Adres bilgilerimizi aşağıdakilerden hangisiyle paylaşmamalıyız?

- A) Polise
- B) Akrabalarımızla
- C) Tanımadığımız kişilerle

39-----
Aşağıdakilerden hangisi temel besin maddelerinden biri değildir?

- A) Et
- B) Süt
- C) Hamburger

40-----
Aşağıdakilerden hangisi kişisel eşya değildir?

- A) Gözlük
- B) Diş fırçası
- C) Sabun

Hazırlayan: 2/F Sınıf Öğretmeni
Enes SERT