

## ÜRETİM FAALİYETLERİ

Bunları  
Bilelim

### Ekonomik faaliyet nedir?

İnsanlar geçimlerini sağlamak için çeşitli işlerde emek harcarlar. Buna **ekonomik faaliyet** denir.

### Tarım nedir?

Toprağı ekip biçme faaliyettir.


### Hayvancılık nedir?

İnsanların hayvansal besinlerden ve hayvanların gücünden faydalanmak amacıyla hayvanları evcilleştirip yetiştirme faaliyettir.



### Sanayi faaliyeti nedir?

Ham maddelerden insanların kullanabileceği ürünler elde etme faaliyettir.



### 1 Tarım Faaliyetleri

Aşağıdaki ürünlerden yakın çevremizde yetişen varsa kırmızı kalemle altını çizelim.

TAHILLAR	Buğday, Arpa, Çavdar, Mısır, Yulaf, Pirinç 
SANAYİ BİTKİLERİ	Pamuk, Şeker pancarı, Çay, Haşhaş, Keten-kenevir 
YAĞ BİTKİLERİ	Zeytin, Ayçiçeği, Susam, Yer fıstığı, Soya fasulyesi 
BAKLAGİLLER	Mercimek, Nohut, Fasulye 
MEYVECİLİK	Fındık, Turunçgiller, İncir, Üzüm, Elma, Muz, Kayısı, Antep fıstığı 
SEBZECİLİK	Her türlü sebze 
SERACILIK	Sebze, çiçek 

### 2 Hayvancılık Faaliyetleri

Yakın çevremizde hangi hayvancılık faaliyetleri yapılmaktadır? İşaretleyelim.



Küçükbaş hayvancılık



Arıcılık



Kümes hayvancılığı



Balıkçılık

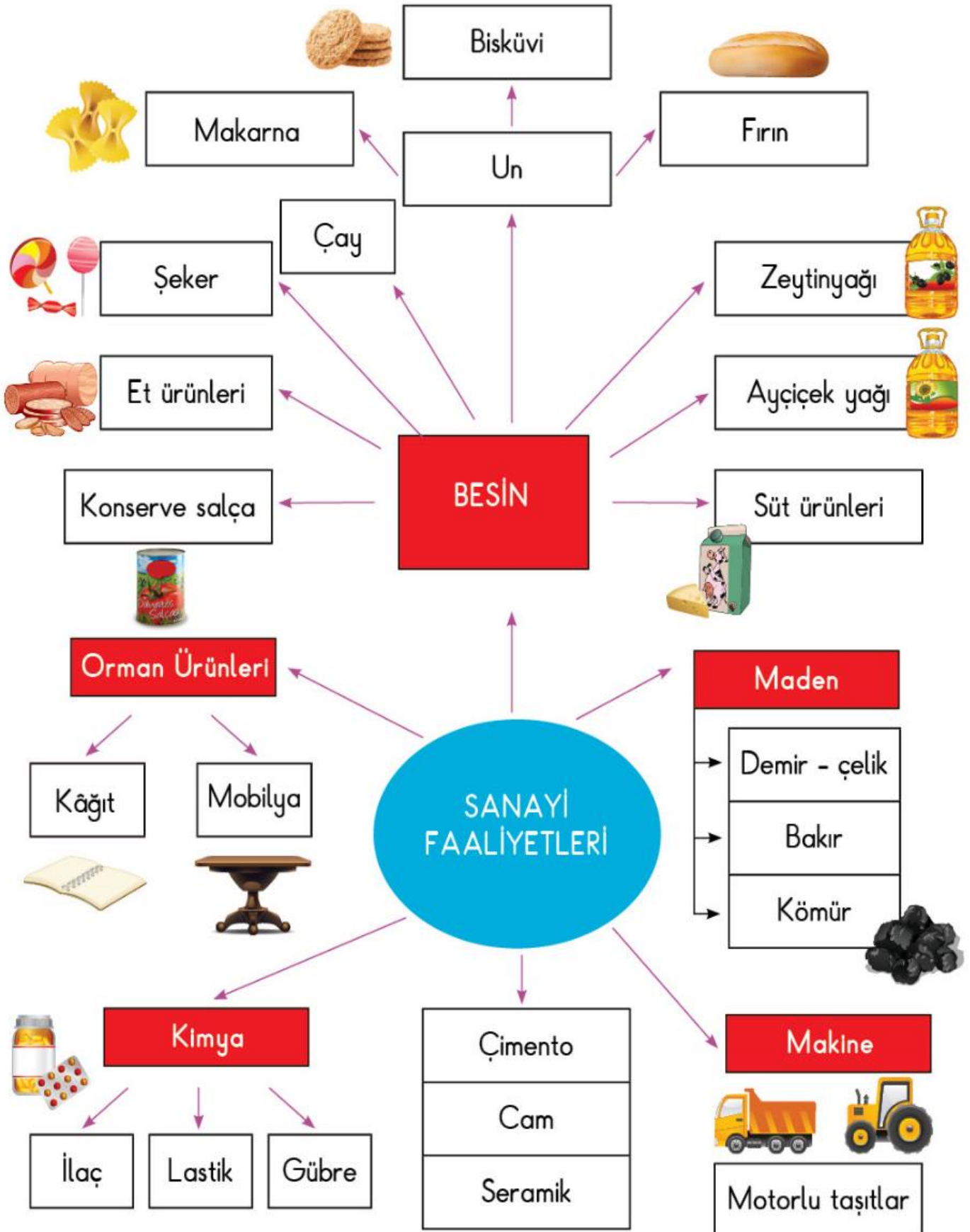


Büyükbaş hayvancılık

3

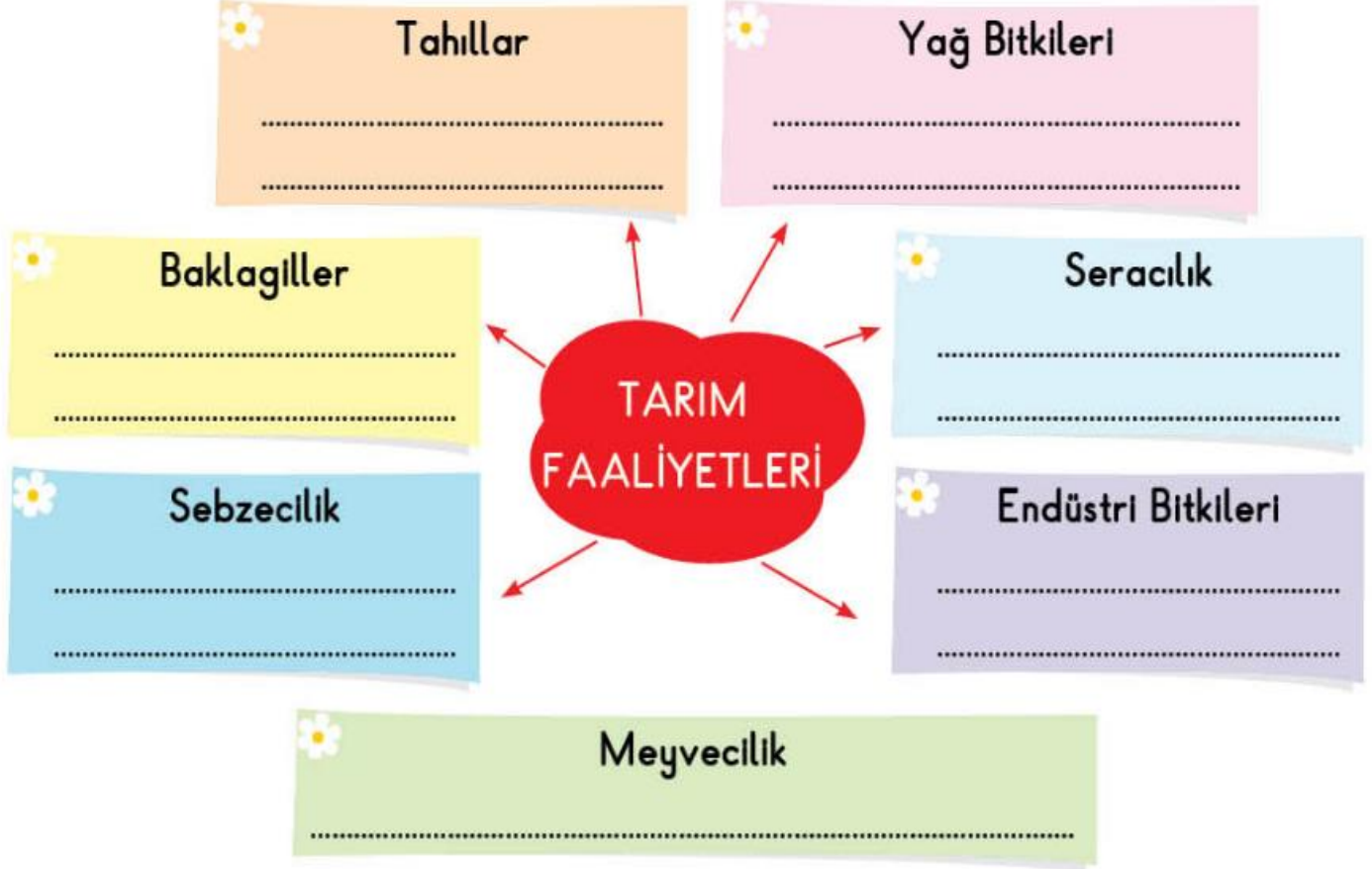
### Sanayi Faaliyetleri

Aşağıdaki kavram haritasında ülkemizde sanayi faaliyetlerini yapan fabrikalar verilmiştir. Yakın çevremizde bulunanların kutusunu boyayalım.



## YAKIN ÇEVREMİZDE NELER ÜRETİLİYOR?

1 Çevremizde yapılan tarım faaliyetlerini zihin haritasına yazalım.



1	Süt ürünleri	<input type="checkbox"/>	11	Şeker	<input type="checkbox"/>
2	Et ürünleri	<input type="checkbox"/>	12	Maden	<input type="checkbox"/>
3	Salça	<input type="checkbox"/>	13	Kâğıt	<input type="checkbox"/>
4	Konserve	<input type="checkbox"/>	14	Mobilya	<input type="checkbox"/>
5	Ayçiçek yağı	<input type="checkbox"/>	15	İlaç	<input type="checkbox"/>
6	Zeytinyağı	<input type="checkbox"/>	16	Lastik	<input type="checkbox"/>
7	Çay	<input type="checkbox"/>	17	Gübre	<input type="checkbox"/>
8	Fırın	<input type="checkbox"/>	18	Çimento	<input type="checkbox"/>
9	Bisküvi	<input type="checkbox"/>	19	Cam	<input type="checkbox"/>
10	Un	<input type="checkbox"/>	20	Seramik	<input type="checkbox"/>
	Makarna	<input type="checkbox"/>			

2 Çocuklar, yanda verilen sanayi faaliyetlerinin yapıldığı üretim yeri veya fabrikalardan çevremizde olanları işaretleyelim.



3 Aşağıdaki hayvancılık faaliyetlerinin adlarını resimlerin altına yazalım.



## TEST

1.

Sebzecilik

Seracılık

Meyvecilik

Arıcılık

Balıkçılık

Yukarıdakilerden kaç tanesi hayvancılık iş kolu ile ilgilidir?

A) 1

B) 2

C) 3

2.

Tarım ve hayvancılığın ..... sanayisi ile ilişkisi yoktur.

Yukarıdaki noktalı yere hangi kelime gelmelidir?

A) orman ürünleri

B) maden

C) gıda

3.



Bizim çevremizde ilaç ve kâğıt fabrikası var.

Mehmet amcanın söz ettiği sanayi faaliyetleri hangi seçenekte verilmiştir?

A) Kimya ve Orman Ürünleri

B) Maden ve Makine

C) Orman Ürünleri ve Besin

4.

Aşağıdakilerden hangisi sebzeçilikle ilgili bir faaliyettir?

A) Buğday ekmek

B) Buğdayı un yapmak

C) Unu ekmek yapmak



## YAKIN ÇEVREMİZDE YAPILAN ÜRETİM FAALİYETLERİNİ GÖZLEMLEYELİM

Yaşadığımız çevrede yapılan üretim faaliyetlerini işaretleyiniz.



Arıcılık

Dokumacılık

Madencilik

Balıkçılık

Hayvancılık

Çiftçilik



Cümlelerde boş bırakılan yerleri uygun ifadelerle tamamlayınız.

♥ Yaşadığım çevredeki insanlar .....  
..... üretiliyorlar.

♥ Yaşadığım yer .....  
..... ürünleri ile ünlüdür.

♥ Fındık en çok .....  
üretilir.

♥ ....., kayısı üreticiliği ile ünlüdür.

♥ Gaziantep, ..... yetiştiriciliği ile tanınır.

## Çevremizdeki Üretim Faaliyetleri

- 1 Yaşadığınız bölgede aşağıda görsellenen üretim faaliyetlerinden hangileri yapılmaktadır? İşaretleyiniz.



- 2 Görsellerle ilgili verilen bilgilerden doğru olanları işaretleyiniz.



- Tarım faaliyetlerine sık rastlanır.
- Bölge turizme uygundur.
- Balıkçılık, bölgenin geçim kaynaklarından biridir.



- Bölgede tarım yapılabilir.
- Bu bölgede balıkçılık yaygındır.
- Ormancılık, bölgenin geçim kaynaklarından biridir.

## ÜLKEMİ SEVİYORUM

### Ürettiklerimiz

A. Aşağıdaki çocukların açıklamalarını okuyalım. Soruları cevaplandıralım.



Mert

Ben Kütahya'da yaşıyorum. İlimizde insanların bir bölümü halı dokumacılığı yapar.



İlyas

Ben Rize'de yaşıyorum. Sabah kahvaltıda içtiğiniz çay Rize'de yetiştirilir. İnsanlar ürettikleri çaydan elde ettikleri gelire geçimlerini sağlarlar.



Nuray

Ben Mersin'de yaşıyorum. İlimizde bir çok sera vardır. Seralarda sebze ve meyve yetiştirilir. Üretilen ürünler yurdumuzun her bölgesine gönderilir.



Serpil

Ben Sinop'ta yaşıyorum. İlimizde balıkçılık gelişmiştir. Balıkçılar tekneleriyle denize açılır ve avladıkları balıkları kasalara doldurarak satarlar.

1. Rize'de insanların çoğunluğu geçimini nasıl sağlarlar?



2. Mersin ilinde seralarda ne üretiliyor?



3. Sinop'ta yapılan ekonomik faaliyet nedir?



4. Kütahya ilinde yapılan ekonomik faaliyet nedir?



**B.** Yurdumuzda hayvancılık faaliyetleri önemli bir yer tutar. Aşağıdaki faaliyetlerle görselleri rakamları kullanarak eşleştirelim.

1 Balıkçılık \_\_\_\_\_



2 Küçük Baş Hayvancılık \_\_\_\_\_



3 Kümes Hayvancılığı \_\_\_\_\_



4 Arıcılık \_\_\_\_\_



5 Büyük Baş Hayvancılık \_\_\_\_\_



**C.** Aşağıdaki bulmacada yurdumuzda üretimi yapılan ürünler verilmiştir. Bu ürünleri bulalım ve boyayalım. Tabloya yazalım.

F	I	N	D	I	K	Z	R	Ü
Y	Ö	N	E	L	Ş	E	A	P
Ş	M	O	B	İ	L	Y	A	A
E	Y	L	Ü	L	E	K	Ü	M
K	V	H	A	L	I	E	R	U
E	K	İ	L	İ	M	H	E	K
R	Ö	A	R	A	B	A	Ü	Z
N	G	E	M	İ	D	B	A	L

ÜRETTİKLERİMİZ

- 1.
- 2.
- 3.
- 4.
- 5.
- 6.
- 7.
- 8.



## ÜRETİM FAALİYETLERİMİZ


Aşağıda, ülkemizdeki üretim faaliyetlerinden bazıları verilmiştir. Resimlerin altlarına, üretim faaliyetlerimizin isimlerini yazalım.



### Öğretmenimin Notu

Aşağıda, ekmeğin yapım aşamaları karışık olarak verilmiştir. Ekmeğin soframıza ulaşma hikâyesini doğru bir şekilde sıralayalım.

- Hamur mayalanarak ekmeğin şekli verilir.
- Buğdaylar tarladan hasat edilir.
- Un, hamur hâline getirilir.
- Buğday tarlaya ekilir.
- Ekmek, fırın ve marketlerde satılır.
- Toplanan buğdaylar öğütülüp un yapılır.
- Hamur, fırında pişirilerek ekmeğin şekli verilir.







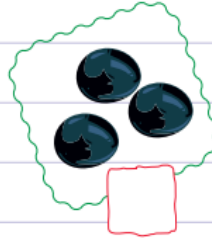



## . ÇEVREMİZDE ÜRETİM

Ülkemizin bazı bölgelerinde sanayi, bazı bölgelerinde tarım ve hayvancılık faaliyetleri yapılmaktadır. Sanayinin geliştiği yerlerde fabrikalar vardır. Tarım yapılan bölgelerde buğday, mısır, ayçiçeği, gibi ürünler yetiştirilir. Bazı bölgelerimizde meyve ve sebzeçilik gelişmiştir. Hayvancılık yapılan bölgelerde süt ve süt ürünleri üretimi gelişmiştir. Denize kıyısı olan bölgelerde balıkçılık yapılır. Deniz ürünleri elde edilir.



3. Yaşadığımız bölgede üretim alanında hangi faaliyetler yapılıyor? İşaretleyelim.



## ÇEVREMDEKİ ÜRETİM FAALİYETLERİ

1 Aşağıda verilen ürünlerin ve canlıların en çok hangi illerimizde üretildiğini ve yetiştirildiğini, ortadaki şehir adlarından bulup yazınız.



GİRESUN

ISPARTA

AYDIN



.....

.....

DİYARBAKIR

.....

.....

ANTALYA

MERSİN



KONYA

BURSA



.....

.....


ZONGULDAK

.....

.....

MALATYA

AMASYA



ERZURUM

ANKARA



İZMİR

.....

.....

.....

.....

2 Yaşadığınız bölgede yukarıdaki ürünlerden hangilerinin üretildiğini ve yetiştirildiğini yazınız.

.....

.....

.....

1. Amasya ilimizde aşağıdaki ürünlerden hangisinin yetiştiriciliği daha fazla yapılmaktadır?

A.



B.



C.



2. Aşağıdaki tarım ürünlerinden hangisinin fazla yetiştirildiği bölgelerde un fabrikalarının sayısı da fazla olur?

A. Mısırın

B. Buğday

C. Nohut

3.



Yaşadığım ilde insanların önemli bir bölümü büyükbaş hayvan besiciliğiyle uğraşiyor.

Hakan'ın yaşadığı il aşağıdakilerden hangisi olamaz?

A. Erzurum

B. Kars

C. İzmir

4.



Şekerdir tadım,  
Sarıdır rengim  
En çok ..... 'da yetiştiririm.

Yukarıdaki meyvenin cümlesindeki boş yere hangi ilimiz yazılmalıdır?

A. Diyarbakır

B. Malatya

C. Antalya

5. Fabrikalar, aşağıdaki illerimizden hangisinde diğerlerine göre daha fazladır?

A. Niğde

B. Bursa

C. Trabzon

6. Peynir üretiminin fazla olduğu bir yerde aşağıdaki hayvanlardan hangisinin besiciliği daha fazla yapılmaktadır?

A. Koyun ve sığır

B. At ve arı

C. Sığır ve tavuk

7. Giresun ilimizde aşağıdaki ürünlerden hangisinin yetiştiriciliği fazladır?

A.



B.



C.



8. Adana'da yaşayan bir çiftçi aşağıdaki ürünlerden hangisinin yetiştiriciliğiyle uğraşabilir olabilir?

A.



B.



C.

