

1- **Korkma, sönmez bu şafaklardaal sancak;
Sönmeden yurdumun üstünde tüten en son ocak.
O benim milletimin, parlayacak;
O benimdir, o benim milletimindir ancak.**

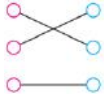
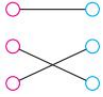

İstiklal Marşımızın ilk kıtasında boş bırakılan yerlere hangi kelimeler yazılmalıdır?

- A) süzülen – güneşidir B) sallanan – ışığıdır
C) yüzen – yıldızdır

- 2-

Ders zili çaldığında	Yerlere çöp atmamak
Okulun temiz kalması için	Sınıfa girmek
Okula geç kalmamak için	Erkenden uyumak

Kurallara uygun davranışlar hangi seçenekte doğru olarak verilmiştir?

- A)  B)  C) 

3- **Aşağıdakilerden hangisi fiziki özelliklerimizden birisidir?**

- A) Resim yapmayı sevmemiz
B) Uzun boylu olmamız
C) Güler yüzlü olmamız



4-

....- Sınıfta uyulması gereken kurallar vardır.
....- Sınıf kurallarına uymayanlar sınıfta sorunlar yaşar.
....- Sınıf kurallarını anne ve babalar belirler.

Yukarıdaki bilgilerden doğru olanların başına "D", yanlış olanların başına "Y" harfi yazılacaktır. Buna göre kaç cümlenin başına "D" yazılmalıdır?

- A) 1 B) 2 C) 3

5-  Selin Problem çözmeyi çok seviyorum.

Selin hangi derste daha başarılıdır?

- A) Matematik B) Hayat Bilgisi
C) Görsel Sanatlar

6- Hangisi sınıfta kullandığımız bir enerji kaynağıdır?

- A) Kömür B) Elektrik C) Petrol

7-

2/C sınıfı öğrencileri bayram kutlamasında yapacakları etkinliklerle ilgili birlikte karar alırlar. Ancak, Pınar arkadaşlarının kararını beğenmez.
--

Bu durumda Pınar'ın ne yapması gerekir?

- A) Alınan karar saygı duymalı
B) Bayram kutlamasına katılmamalı
C) Arkadaşlarıyla küsmeli

8-

KAR	O	CAK	YUN
-----	---	-----	-----

Yukarıda verilen hecelerle anlamlı bir kelime oluşturduğumuzda hangi heceyi kullanmayız?

- A) YUN B) O C) KAR

9- Aşağıdakilerden hangisi "OKUL" sözcüğünün zihnimizde çağrıştırdığı anlamlardan biri değildir?

OKUL

- A) kitap B) öğretmen C) park

10-

Güneşlenmek

Aşağıdaki öğrencilerden hangisi kutucuktaki sözcüğü hecelerine doğru ayırmıştır?

- A)  gün-eş-len-mek B)  gü-neş-len-mek
C)  gü-neş-lenm-ek


11- Aşağıdaki hayvanlardan hangisinin adı üç hecelidir?


- A)  B)  C) 

12- Hangi kelime alfabemizin birinci ve ikinci harflerinden oluşmuştur?

- A) baba B) bebe C) anne

13- Aşağıdaki çocuklardan hangisinin söylediği cümle değildir?

A)  Fillerin uzun hortumları vardır.

B)  Aslanlar sürü hâlinde yaşar.

C)  Zürafalar ağaçların en üstündeki yaprakları

14- Kapıyı _____ kapattı?

Yukarıdaki cümle hangi sözcük ile tamamlanmalıdır?

A) sen B) kim C) ben




15- 

Yukarıdaki balonların üzerine "Y" harfinden önce ve sonra gelen harfler yazılacaktır. Buna göre balonlara sırasıyla hangi harfler yazılmalıdır?

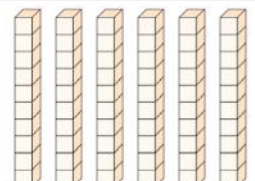

A) O - Z B) K - M C) V - Z

16- "İki ucundan iple veya zincirle yüksek bir yere asılan ve üzerine oturulup sallanılan eğlence aracı."

Açıklaması verilen varlık aşağıdakilerden hangisidir?

A)  B) 
C) 

17-

Onluklar	Birlikler
	

Taban bloklarıyla gösterilen sayı kaçtır?

A) 10 B) 54 C) 64

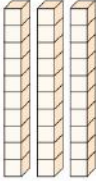
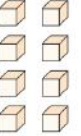
18- Akvaryumdaki balıklara kaç balık daha eklenirse balık sayısı 1 düzineye eşit olur?

A) 3 B) 4 C) 5



19- Yandaki tabloda ★ ile gösterilen yere hangi sayı yazılmalıdır?

A) 3
B) 6
C) 30

Sayı	Onluklar	Birlikler
		
Basamak adı	Onlar basamağı	Birler basamağı
Basamak değeri	★	...

20- Birler basamağı 5, onlar basamağı 6 olan sayı aşağıdakilerden hangisidir?

A) 65 B) 56 C) 12

21-     
30 😊

30 yumurtanın üzerine dörder dörder saydığımızda 😊 yerine hangi sayıyı yazarız?

A) 34 B) 42 C) 46

22-      

17 başlayıp ileriye doğru beşer beşer saydığımızda en sondaki arabanın üzerine kaç yazarız?

A) 42 B) 37 C) 22

23-

15	18	★	24	27
----	----	---	----	----

Yukarıdaki sayı dizisinde ★ yerine kaç yazılmalıdır?

A) 19 B) 21 C) 23

24- 13'ten başlayarak 58'e kadar beşer beşer yazınız. (8 puan)

13 - 18 - 23 - ... - ... - ... - ... - ... - ... - 58

***** BAŞARILAR *****