

- 1- Osman, esmer ve kiloludur.
Bekir, sarışın ve uzun boyludur.
Yukarıdaki açıklamalar çocuklar arasındaki hangi farklılığı açıklamaktadır?

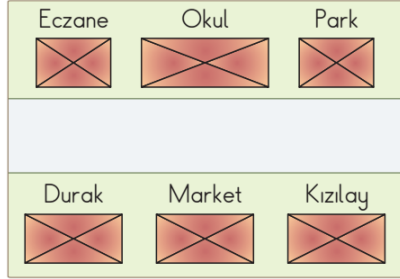
A) duygusal B) fiziksel C) yetenek

- 2- Arkadaş edinirken aşağıdaki kişisel özelliklerden hangisini dikkate almayız?



A) uzun boylu olması
B) güvenilir olması
C) anlayışlı olması

- 3- Yandaki şekle göre okulun sağında hangisi vardır?



A) Durak
B) Market
C) Park

- 4- Sınıf kuralları _____ için konulmuştur.

Yukarıdaki ifadede boş bırakılan yere aşağıdakilerden hangisi yazılmalıdır?

A) öğretmenimiz
B) düzen sağlamak
C) sınıfın temizliği

- 5- Aşağıdaki kurallardan hangisi güvenliğimiz için konulmuş bir kuraldır?



A) Sınıf penceresinden sarkmamak
B) Okula zamanında gelmek
C) Sınıfı temiz tutmak

- 6- Özenli kullanılmayan eşyalar ne olur?



A) Kolay kolay yıpranmaz.
B) Uzun zaman kullanılır.
C) Çabuk eskir.

- 7- Yandaki resme göre Aykut'un arkadaşına hangisini demesi daha uygundur?



A) Bir daha benimle oynama.
B) Önemli değil.
C) Yarın hemen yenisini al.

- 8- Hangi hayvanın adı alfabemizin altıncı sırasında bulunan harfle başlar?



- 9- ★ Markete gitti.
■ Ekmek almak için dışarı çıktı.
● Ancak ekmek kalmamıştı.


Yukarıdaki cümleler olayların oluş sırasına göre dizilirse sıralama nasıl olur?

A) ● ■ ★ B) ■ ★ ● C) ★ ● ■

- 10- Aşağıdaki cümlelerden hangisinin sonuna soru işareti konulmaz?

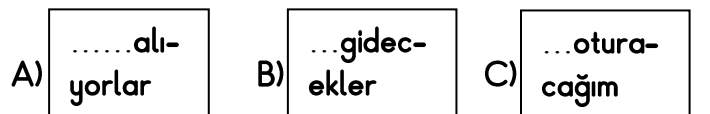
A) Kitabımı sen aldın
B) Kitabımı sen mi aldın
C) Kitabımı kim aldı

- 11- Yandaki kartlarda verilen harflerle hangi kelime oluşturulamaz?




A) eldiven B) deli C) vali

- 12- Satır sonuna sığmayan kelimelerden hangisi hecelerine yanlış ayrılmıştır?



- 13- Görseldeki varlığın adında hangi harf yoktur?

A) İ B) R C) N



14- odun boru ev ısınma

Yukarıdaki kelimeler bize hangi anahtar kelimeyi anlatmak istemektedir?

- A) kömür
B) yorgan
C) soba

15- Her şeye ilgi duyup, öğrenmek isteyen



Yukarıda arkadaşımızın açıklamasını verdiği kelime hangisidir?

- A) sinirli B) meraklı C) hoşgörülü

16- Elmalardaki sayılar kaç hecelidir?

- A) Bir hecelidir
B) İki hecelidir
C) Üç hecelidir



17- 

Yukarıdaki köpeklerin sayısının kaç fazlası 1 desteğe eşittir?

- A) 3 B) 4 C) 6

18- 4 onluk + 7 birlik

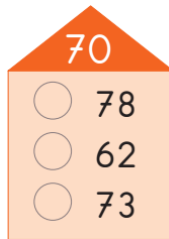


Arkadaşımızın onluk ve birliklerini belirttiği sayı hangisidir?

- A) 11 B) 74 C) 47

19- Yandaki tabloya göre onluğa en yakın olan sayı hangisidir?

- A) 78
B) 73
C) 62



20- Aşağıdaki sayılardan hangisi diğerlerinden daha küçüktür?

- A)  B)  C) 




21- "73 ile 75 arasında vardır."

Yukarıda noktlı yere yazılması gereken sayı kaçtır?

- A) 72
B) 74
C) 76

22- Yandaki tabloda noktalı yerlere küçüktür < ve büyüktür > işaretlerini koyarsak sıralama nasıl olur?

82	37
13	25
99	91

- A)  B)  C) 

23-

	71	
--	----	--

Arkadaşımız tablodaki boşluklara 71'den bir önce ve bir sonra gelen çift sayıları yazmak istiyor. Buna göre boşluklara hangi sayıları yazmalıdır?

- A) 69 - 73
B) 68 - 74
C) 70 - 72



24- Birler basamağı 5, onlar basamağı 4 olan tek sayı

Boş bırakılan yere hangi sayı yazılmalıdır?

- A) 45 B) 54 C) 9

25- En yakın onluğa yuvarlama yapılırken hangilerinde yanlışlık yapılmıştır?

★ 44 → 40	▲ 56 → 50	● 79 → 80
■ 17 → 10	◆ 63 → 60	

- A) ▲ ■
B) ★ ● ◆
C) ★

***** BAŞARILAR *****

Her soru 4 (dört) puandır.