


1-  Plan yaparsak .....




Seda konuşmasına hangi ifadeyle devam ederse yanlış bir bilgi vermiş olur?

- A) işlerimizi zamanında bitiririz  
 B) yapacağımız işleri unuturuz  
 C) daha başarılı oluruz






Görsel olarak verilen günlük işlerin doğru sıralanışı hangisidir?




- A) 4 - 2 - 3 - 1  
 B) 2 - 4 - 1 - 3  
 C) 4 - 3 - 1 - 2

3-  Kararları ben aldım.  
 Arkadaşlarımla iş birliği yaptık.  
 Birlikte çalıştığımız için mutlu olduk.

Hangi sembole belirtilen cümlede grup çalışmasına uygun bir davranıştan söz edilmemiştir?

- A)  B)  C) 

4- Aşağıdaki öğrencilerden hangisinin davranışı yanlıştır?

- A)  Oyun kurallarına uyarım.  
 B)  Oyunbozanlık yaparım.  
 C)  Oyunda nezaket kurallarına uyarım.

5- 

İsteklerimiz	İhtiyaçlarımız	Tabloda sembollerle belirtilen bölümlere hangi seçenekteki kelimeler yazılabilir?
Oyuncak		
	Ayakkabı	
Çikolata	Okul çantası	

- A)  Kaykay  Defter  Kalem  
 Defter  Saat  Kaykay

6-  Ev adresimizi bilmeliyiz.  
 Ev adresimizi tanımadığımız kişilerle paylaşabiliriz.  
 Kaybolduğumuzda güvenlik görevlilerine adresimizi söylemeliyiz.

Yukarıdaki ifadelerden doğru olanlara "D", yanlış olanlara "Y" harfi koyarsak hangi sonuç elde edilir?

- A) 

Y
Y
D

 B) 

D
D
D

 C) 

D
Y
D

7-  Yemek yapmak  Çiçekleri sulamak  Ütü yapmak  
 Masaya tabakları koymak  Çöp atmak

İkinci sınıf öğrencisi Büşra yukarıdaki işlerden kaç tanesini yaparak ailesine yardımcı olabilir?

- A) 3 B) 4 C) 5

8-  pantolon  kazak  defter  eşofman




Yukarıdaki sözcükleri grupladığımızda hangisi diğerlerinden farklıdır?

- A) 1. B) 3. C) 4.

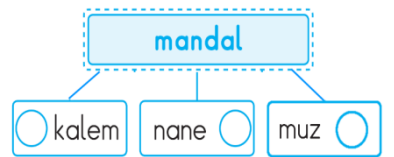
9- 

..... pazar- tesisi 	..... pazart- esi 	..... pa- zartesi 
--	--	--

Satır sonuna sığmadığında yanlış bölünen seçenek hangisidir?

- A)  B)  C) 

10- Yandaki tabloya göre sözlükte mandal kelimesinden önce hangi kelime gelir?



- A) muz B) kalem C) nane

11- Aşağıdaki sözcüklerden hangisi hecelerine yanlış ayrılmıştır?

- A) 

buz-dol-a-bı
--------------

 B) 

sü-pür-ge
-----------

 C) 

te-le-phon
------------

12- "Ben giderim o gider, içimde pıt pıt eder."  
 Yukarıdaki bilemecenin cevabı hangisidir?

- A) yağmur B) saat C) kalp

13- "BİLGİSAYAR" sözcüğünde kaç hece ve kaç harf vardır?

- A) 3 hece 10 harf      B) 4 hece 10 harf  
C) 5 hece 9 harf

- 14- ● Deniz kenarına gitti.  
▲ Ahmet yeni olta aldı.  
■ Akşam ızgara yaptı.  
★ Birkaç balık tuttu.

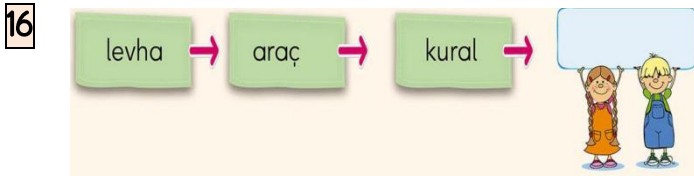
Yukarıdaki olayların oluş sırasına göre sıralanışı hangidir?

- A) ▲●★■      B) ■●★▲      C) ▲★●■

15- Bay Pamuk, Esra'nın ailesiyle yaşayan sıra dışı bir kedir. Tüm aile deniz kıyısında bir tatil yaparlar. İlginç macera Bay Pamuk'un sahilde yengeç tarafından ısırılmasıyla başlar...

Yukarıdaki metne göre verilen eşleştirmelerden hangisi yanlıştır?

- A) Ana Karakter – Bay Pamuk  
B) Yer – Deniz Kıyısı  
C) Zaman – Kış






Yukarıdaki kelimelerin çağrıştırdığı anlam aşağıdakilerden hangisidir?

- A) ders      B) trafik      C) oyuncak

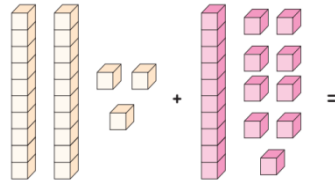
17- ? Yerlere çöp atanları görünce çok kızıyorum.


Bu cümleyi söyleyen birinin yüz ifadesi hangisidir?

- A)       B)       C) 

18- Yanda taban bloklarıyla yapılan toplama işleminin sonucu kaçtır?

- A)  $23 + 19 = 42$   
B)  $33 + 18 = 51$   
C)  $20 + 19 = 39$



19- 

Yukarıdaki toplama işleminde verilmeyen toplanan kaçtır?

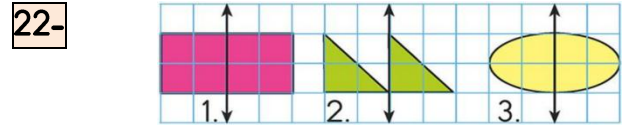
- A) 8      B) 7      C) 6

20- Aşağıdaki sayılar en yakın onluklara yuvarlanmıştır. Hangi seçenekte yuvarlanmıştır?

- A)       B)       C) 

21- Aşağıdaki toplama işlemlerinden hangisinin tahmini sonucu 50'dir?





- A)  $24 + 33$       B)  $16 + 41$       C)  $28 + 34$



Yukarıda verilen kareli kağıtta hangi şeklin simetriği yanlıştır çizilmiştir?

- A) 1.      B) 2.      C) 3.

23- Yandaki şekil üç çeyrek defa döndüğünde son görünüşü nasıl olur?

- A)       B)       C)       

24- Yandaki çıkarma işleminde noktalı yerlere yazılması gerekenlerden hangisi yanlıştır?



- A)  $85 \rightarrow$  eksilen  
B)  $33 \rightarrow$  toplanan  
C)  $52 \rightarrow$  fark

25- Selma Hanım misafirleri için 37 tane poğaçaya yaptı. Poğaçaların 12 tanesini tabağa koydu. Tepside kaç poğaçaya kaldı?

- A) 25  
B) 23  
C) 16



\*\*\*\*\* BAŞARILAR \*\*\*\*\*

Her soru 4 (dört) puandır.