

1- Aşağıdaki görevlerden hangisi 8 yaşındaki Kübra'nın üstlenebileceği bir görevdir?

- A) Yatak odasını düzenlemek
- B) Ağaçları budamak
- C) Akşam yemeği pişirmek


2- Aşağıdaki verilenlerden hangisini harçlıklardan biriktirdiğimiz paralarla alabiliriz?



3- Adresimizi yazarken aşağıdakilerden hangisini belirtmemize gerek yoktur?

- A) Apartman kapı numarasını
- B) Sokak adını
- C) Telefon numarasını

4- Görseldeki öğrenci için hangisini söyleyebiliriz?



- A) Eşyalarını özenli kullanıyor.
- B) Kaynakları bilinçli kullanmıyor.
- C) Okul kurallarına uyuyor.

5- Okulumuzu ve çevresini korumak için _____

Yukarıdaki ifade hangisi ile tamamlanabilir?

- A) çöplerimizi çöp kutusuna atmalıyız.
- B) yemeklerden önce ve sonra ellerimizi yıkamalıyız.
- C) sınıfta parmak kaldırarak konuşmalıyız.

6- Okuldan eve döndüğünde masada yemeğin hazır olduğunu gören Cenk, annesine ne söylemelidir?

- A) Afiyet olsun.
- B) Lütfen.
- C) Ellerine sağlık.

7- Aşağıdaki kişisel eşyalarımızdan hangisini kardeşimizin kullanması doğru değildir?



8- "Didem odasında ders" ifadesi hangisiyle tamamlanırsa anlamlı bir cümle olur?

- A) okuyor.
- B) bakıyor.
- C) çalışıyor.

9- Berna, ikinci sınıfa gidiyordu. Ablası ise dördüncü sınıfta okuyordu. Anne ve babası çalışıyordu. Berna kitap okumayı çok seviyordu. O gün okula gitmeden yine kitap okumaya başladı. Zamanın nasıl geçtiğini anlamadı. Başını kaldırıp saate baktığında okula gitme vaktinin çok yaklaştığını gördü.

Yukarıdaki metnin konusu aşağıdakilerden hangisidir?

- A) Berna'nın sınıfı
- B) Berna'nın kitap sevgisi
- C) Ailede iş bölümü

10-   

Yukarıdaki ★ işareti ile gösterilen yere alfabetik sıraya göre hangi sözcük yazılabilir?

- A) kırmızı
- B) kedi
- C) kolye

11- Zeynep dondurmacıdan dondurma aldı. Dondurmayı yalarken yere düşürdü.

Zeynep'in yüz ifadesi aşağıdakilerden hangisi olabilir?



12- Hangi sözcük satır sonuna sığmadığında yanlış bölünmüştür?

- ___ cumhu- ___ telev- ___ oto-
A) riyet___ B) izyon___ C) büste___

13- " TON - PUZ - NE - KAR " heceleri ile aşağıdaki kelimelerden hangisi oluşmaz?

- A) KARTON
- B) KARPUZ
- C) JETON

14- Aşağıdaki sözcükler ortak özelliklerine göre gruplandırıldığında hangisi dışarıda kalır?



A) güvercin B) tebeşir C) sıra

15- 1. Dış kapıyı açıp servisi bekledi.
2. Kahvaltısını bitirdi.
3. Çantasını sırtına aldı.
4. Dişlerini fırçaladı.

Yukarıdaki olayların oluş sırasına göre sıralanışı hangisidir?

A) 3, 2, 4, 1 B) 2, 4, 3, 1 C) 2, 1, 4, 3

16- Aşağıdaki kelimelerden hangisinin yazımı doğrudur?

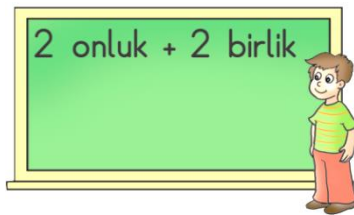
A) gaste B) tırafik C) plan

17- Sabah kahvaltısında Merve çayını devirip elini yakar. Anne ve babası onu hemen doktora götürür. Doktor bir ilaç yazıp çok önemli bir şey olmadığını söyler.

Yukarıdaki metin ile ilgili aşağıdakilerden hangisi söylenebilir?

A) Hikâyenin kahramanı Merve'dir.
B) Hikâyenin geçtiği yer okuldur.
C) Olay, Merve'nin ayağını yakmasıdır.

18- Murat'ın tahtaya yazdığı sayıya kaç eklersek 2 düzine olur?

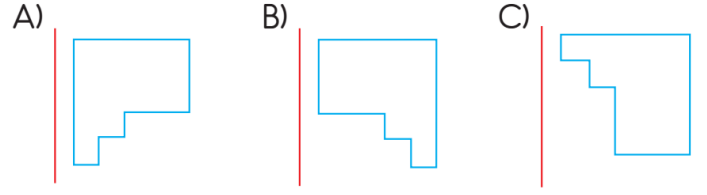
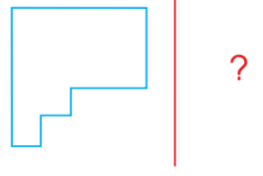


A) 23
B) 11
C) 2

19- 8 sayısından başlayarak ileri doğru dörder ritmik sayarken 6. saymada hangi sayıyı söyleriz?

A) 26
B) 28
C) 30

20- Yanda verilen şeklin simetri çizgisine göre simetriği aşağıdakilerden hangisidir?



21- 73 sayısını abaküsle göstermek istiyorum.



Fatih, onlar basamağına kaç boncuk çizmelidir?

A) 7 B) 4 C) 3



22- Aşağıdaki sayılardan hangisi 4 onluğa daha yakındır?



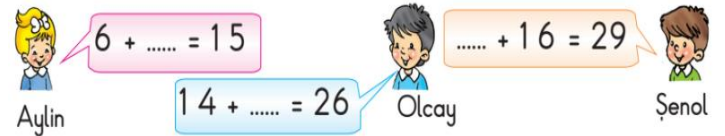
A) 5 B) 37 C) 49

23- Çuvallardaki bütün cevizlerin toplamı kaçtır?



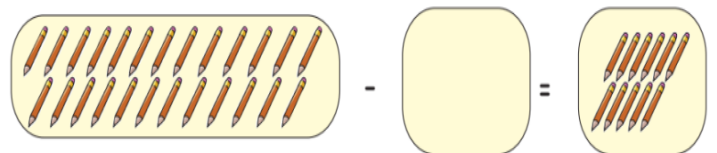
A) 33
B) 35
C) 44

24- Aşağıdaki toplama işlemlerinden verilmeyen toplananı 13 olan işlem hangi öğrencinindir?



A) Şenol B) Olcay C) Aylin

25- Aşağıdaki çıkarma işlemine göre boş olan yere kaç kalem çizilmelidir?



A) 33 B) 20 C) 14

***** BAŞARILAR *****

Her soru 4 (dört) puandır.