

- 13- 1. Minik kuzu zıplayarak yanıma geldi.
2. Kırlarda biraz oyun oynadık.
3. Sonra ödevlerime yardım etti.

Kaç numaralı cümle hayal ürünü bir ifadedir?

- A) 1. B) 2. C) 3.

- 14- En hatasını kabul etti. Arkadaşının eşyasını almadan izin isteseydi hatalı duruma düşmeyecekti.

Yukarıdaki cümlelerde boş bırakılan yerlere sırasıyla hangi kelimeler yazılmalıdır?

- A) önce - sonra
B) sonunda - önce
C) sonra - daha sonra

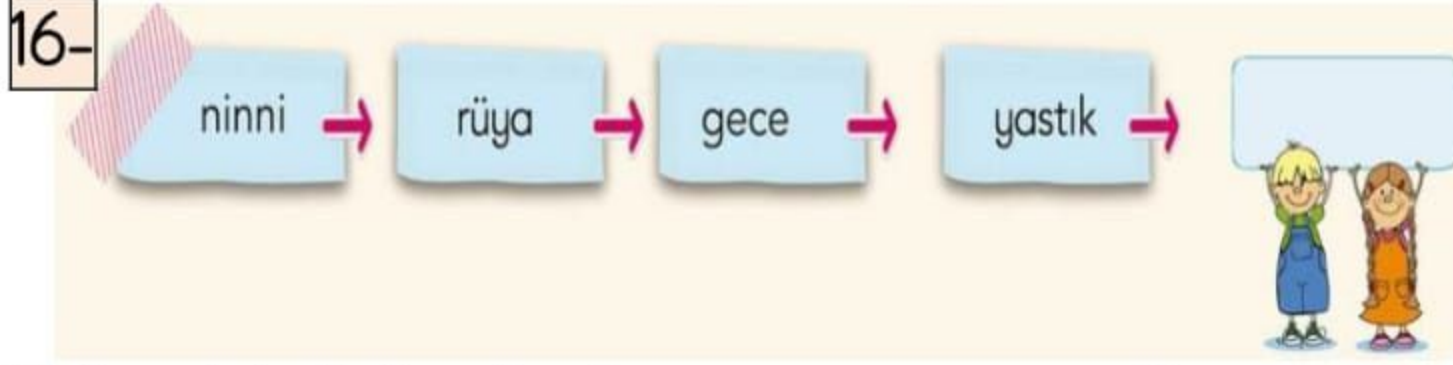
- 15- Yandaki cevabın sorusu hangisidir?



.....?

Sabah erken çıktık.

- A) Yola kiminle çıktınız?
B) Niçin sabah erken çıktınız?
C) Yola ne zaman çıktınız?




Yukarıdaki kelimeler bize neyi çağırır?

- A) uyku B) masal C) ders

- 17- Bir akşam vaktiydi. Pinar Hanım evde oturuyordu. Kapının zili çalmaya başladı. Pinar Hanım kapıyı açtı.

Yukarıdaki parçada hikâye unsurlarından hangisine yer verilmemiştir?

- A) Hikâyenin adına
B) Hikâyenin zamanına
C) Olayın geçtiği yere



Yukarıdaki çıkarma işleminde verilmeyen çıkan kaçtır?

- A) 13 B) 8 C) 5

- 19- İpek kitaplığında bulunan 43 kitabın bir kısmını okudu. Kitaplığında okumadığı 17 kitap kaldığına göre okuduğu kitapların sayısı kaçtır?



- A) 35 B) 26 C) 17

20-

$$\begin{array}{r} 48 \\ + 13 \\ \hline ? \end{array}$$

Yukarıda verilen toplama işleminin tahmini sonucu ile gerçek sonucu arasındaki fark kaçtır?

- A) 1 B) 7 C) 11

- 21- Ben 7 yaşındayım. Babam benden 25 yaş büyüktür. Babam kaç yaşındadır?



- A) 29 B) 30 C) 32

- 22- Hangi seçenekteki işlemin sonucu en küçüktür?

A)

$$\begin{array}{r} 80 \\ - 30 \\ \hline \dots \end{array}$$


B)

$$\begin{array}{r} 50 \\ - 10 \\ \hline \dots \end{array}$$

C)

$$\begin{array}{r} 70 \\ - 40 \\ \hline \dots \end{array}$$

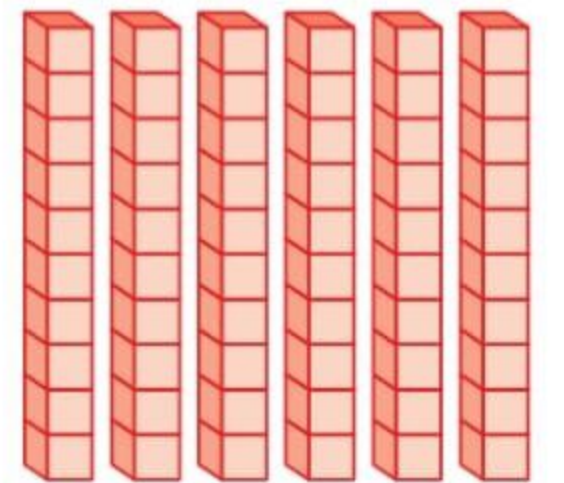
- 23- Aşağıdaki nesnelere hangisi simetrik olarak iki eş parçaya ayrılabilir?



- 24- Aşağıdaki sayılardan hangisi 7 onluğa daha yakındır?

- A) 68 B) 74 C) 79

- 25- Yanda taban bloklarıyla gösterilen sayıdan bir önce gelen sayı hangisidir?



- A) 61
B) 59
C) 48

***** BAŞARILAR *****

Her soru 4 puandır.

Sınıf Öğretmeni Enes Sert