

13-



Ormanlar havayı temizler. Yağmuru yağmasına yardımcı olur. Aynı zamanda birçok canlının yuvasıdır. Ormanları korumalıyız.

Yukarıdaki paragrafın konusu nedir?

- A) Yağmur sevgisi B) Canlıların yuvası  
C) Ormanların faydaları

14-

Erhan sabahleyin parkta yürüyüş yapıyordu. Hava biraz soğuktü ve hafifçe rüzgâr esiyordu. Ağaçta duran küçük bir kuş gördü. Kuş ona "Günaydın" dedi.

Yukarıdaki paragrafta hayal ürünü olan olay hangisidir?

- A) Rüzgârın hafifçe esmesi  
B) Kuşun "Günaydın" demesi  
C) Erhan'ın sabah yürüyüş yapması

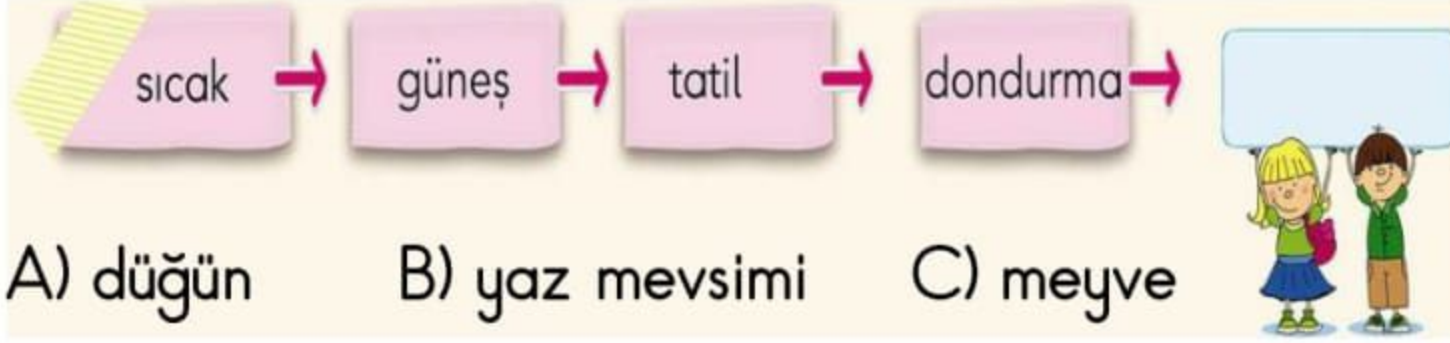
15-

ev kirlü bayat konut pis

Yukarıdaki sözcüklerden eş anlamlılar eşleştirildiğinde hangisi dışarıda kalır?

- A) bayat B) konut C) kirlü

16- Aşağıdaki kelimeler bize neyi çağırır?



- A) düğün B) yaz mevsimi C) meyve

17-

Güneş yeni doğuyordu. Mertcan yataktan yavaşça kalktı. Okula gitmek için hazırlanmaya başladı. Annesi de kahvaltüyü hazırlamıştı. Elini yüzünü yıkayıp, masaya oturdu.

Yukarıdaki paragrafta göre hikâye unsurlarından hangisi yanlış verilmiştir?

- A) Yer – Mertcan'ın evi  
B) Zaman – Sabah vakti  
C) Olay – Mertcan'ın tatil hazırlığı

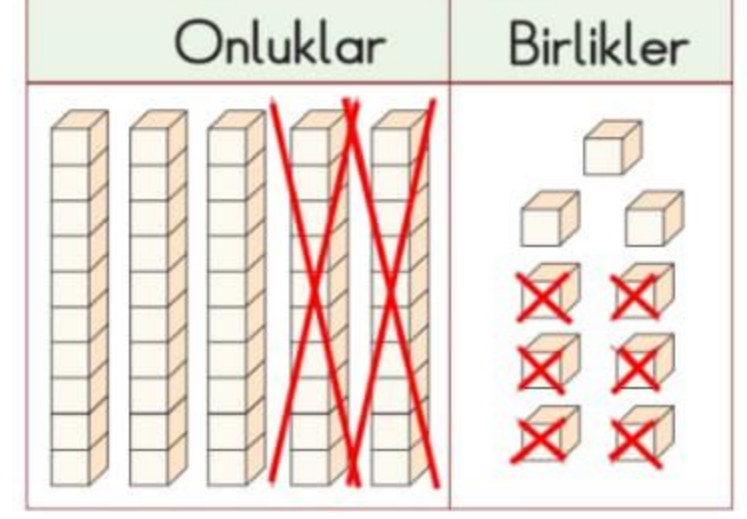
18-  $29 + 38 = ?$  işleminin sonucu hangi sayıya daha yakındır?

- A) 70 B) 60 C) 50

19- Hangi işlemin sonucu en büyüktür?

A)  $\begin{array}{r} 48 \\ + 37 \\ \hline \end{array}$  B)  $\begin{array}{r} 76 \\ + 18 \\ \hline \end{array}$  C)  $\begin{array}{r} 19 \\ + 65 \\ \hline \end{array}$

20- Yanda modelle gösterilen çıkarma işlemi hangisidir?



- A)  $59 - 26 = 33$   
B)  $33 - 26 = 7$   
C)  $50 - 9 = 41$

21-

Köydeki evimizin bahçesinde 13 ördek var. Ördeklerden 4 tane fazla tavuk var. Bahçemizde toplam kaç hayvan vardır?

- A) 19 B) 28 C) 30

22- Hakan'ın sorusunun cevabı hangisidir?



Misketlerimin 13 tanesini kardeşime verdim. 28 tane misketim kaldı. Kardeşime vermeden önce kaç tane misketim vardı?

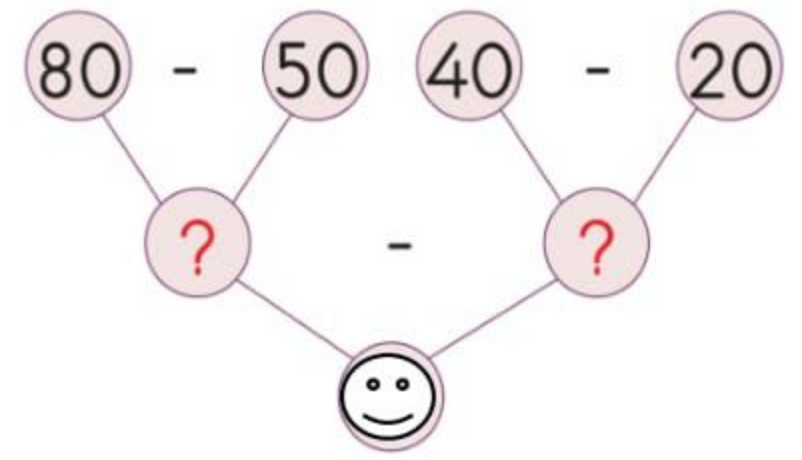
- A) 43 B) 41 C) 16

23- Yandaki işlemin tahmini olarak sonucu aşağıdakilerden hangisidir?

$$81 - 48 = ?$$

- A) 30 B) 40 C) 50

24- Yandaki şemada ☺ ile gösterilen yere hangi sayı yazılmalıdır?



- A) 10  
B) 20  
C) 30

25- Ali'nin sorusuna Emel nasıl karşılık vermelidir?

I'm Ali. What is your name?



- A) How are you?  
B) My name is Emel.  
C) Bye, Ali. See you.



.....

\*\*\*\*\* BAŞARILAR \*\*\*\*\*

Her soru 4 puandır