

- 1- Vücudumuz için gerekli besinleri yeteri kadar yemeye beslenme denir.
 Günde üç öğün yemek yemeye beslenme denir.
 Dengeli ve düzenli beslenen çocuklar büyür.

Yukarıdaki ifadelerin doğru olması için noktalı yerlere sırasıyla hangi seçenektekiler yazılmalıdır?

- A) dengeli düzenli sağlıklı
 düzenli dengeli dengeli
 sağlıklı sağlıklı düzenli

2- Aşağıda sembollerle gösterilen besinlerden hangileri vücudumuzun hastalıklara karşı daha güçlü olmasını sağlar?




- A) - B) - - C) - -

3- Hangi kutulardaki ifadeler sağlıklı büyümek ve gelişmek için yapılması gerekenlerdendir?

1 Spor yapmak	2 Ders çalışmak	3 Dengeli beslenmek
4 İlaç kullanmak	5 Abur cubur yemek	6 Temiz olmak

- A) 1-4-6 B) 2-3-4 C) 1-3-6

4-  Sağlıklı yaşamak için kişisel bakımına özen gösteririm.

Aşağıdakilerden hangisi Sudanaz'ın kişisel bakım için yaptıklarından biri olamaz?

- A) Düzenli ve dengeli beslenmek
B) Günde en az iki kere dişlerini fırçalamak
C) Uzayan tırnaklarını kesmek

5- Aşağıdaki durumlardan hangisi görgü kuralı değildir?

- A) Yemek yerken ağızımızı kapalı tutmak
B) Kendi tabağımızdan yemek yemek
C) Günde üç öğün yemek yemek

6- Kendimize yiyecek hazırlarken hangisini kullanmamız yanlış olur?

- A)  B)  C) 

- 7- 1. Her sabah yatağımı toplarım.
 2. Kıyafetlerimi çıkardığım yerde bırakırım.
 3. Oyuncaklarımı toplar, dolabıma yerleştiririm.

Yukarıdaki davranışlardan hangileri doğrudur?

- A) 1-2 B) 2-3 C) 1-3

8- Kirli bir çevrede yaşamak aşağıdakilerden hangisine neden olur?

- A) Hastalanmamıza
B) Yaşlanmamıza
C) Sağlıklı büyümemize

9- Alfabetik sıralamaya göre boş kutucuğa hangisi yazılmalıdır?




- A) ezan B) eldiven C) evlat

10- kir- bak- tiy-
 acı lava atro


Yukarıda verilen kelimeler satır sonuna sığmadığında hecelerine ayrılmıştır. Doğru olanlara "D", yanlış olanlara "Y" konulduğunda sıralama nasıl olur?

- A) Y D Y B) D D Y C) Y Y D


11- Hangisi öğrenci hayal ürünü bir durumdan bahsetmiştir?

A)  Cengiz de kuş beslemeye başlamış.

Selin

B)  Kedim Yumak ile Karabaş sabaha kadar sohbet ettiler.

Tekin

C)  Kedi, aslandan daha küçüktür.

Pelin

12- Aşağıdaki cümlelerden hangisinin sonuna soru işareti (?) konulmalıdır?

- A) Üçüncü tenefüste top oynayacağız
B) Partiye kimleri davet edeceğimi sordum
C) Her sabah süt içer misin

13- Aşağıdaki cümlelerin hangisinde yazım yanlışı yoktur?

- A) Bugün bize fatmalar gelecek.
B) Ümit yine okula geç kalmış.
C) Yarışmada murat 1. olmuş.

14- Satıcı paranın gerçek olmadığını söyledi.



Altı çizili sözcüğün zıt anlamı hangisidir?

- A) sahte B) yeni C) yırtık

15- Aşağıdaki cümlelerin hangisinde "NEDEN ?" sorusunun cevabı yoktur?

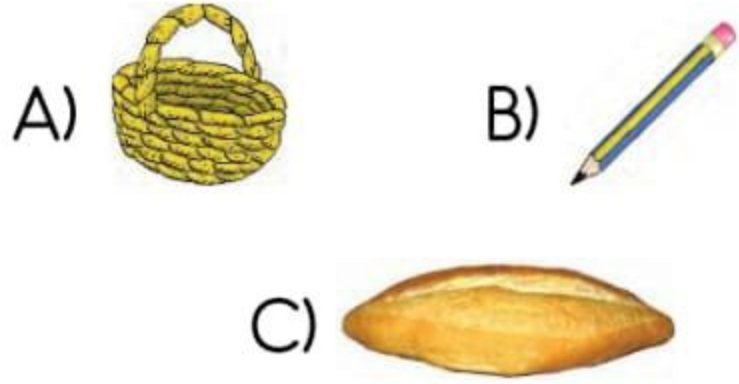
- A) Düştüğü için dizi kanamış.
B) Parasını kaybedince ağlamaya başladı.
C) Dedem sabahları erken uyanır.

16- Hangi cümlede kesme işareti (') yanlış kullanılmıştır?



- A) Annem Enes'e harçlık vermeyi unutmuş.
B) Ayha'nın oyuncağını kim kırdı?
C) Ankara'ya akşam kar yağmış.

17- Yandaki bulmacada hangi varlığın adı yoktur?



E	K	T	H	K
B	A	R	D	A
F	L	İ	Z	Y
S	E	P	E	T
O	M	U	S	D

18- Nurcan'ın cüzdanında üç tane 5 lirası vardı. Mağazadan yandaki çizmeyi almak istiyor. Nurcan'ın kaç liraya daha ihtiyacı vardır?



- A) 7 lira B) 9 lira C) 11 lira

19- Nasrettin Hoca, eşeğine toplam kaç kilo meyve yüklemiştir?

- A) 44
B) 53
C) 55

Eşeğime 28 kilogram elma, 25 kilogram armut yükledim.



20- Aşağıdaki çıkarma işlemlerinden hangisi onluk bozmadan yapılamaz?

A) $\begin{array}{r} 48 \\ - 16 \\ \hline \end{array}$ B) $\begin{array}{r} 58 \\ - 27 \\ \hline \end{array}$ C) $\begin{array}{r} 55 \\ - 16 \\ \hline \end{array}$

21- Oktay'ın 90 lirası vardı. Marketten yandaki uzaktan kumandalı arabayı aldı. Oktay'ın kaç lirası kaldı?



22- Cebimdeki 20 liranın 17 lirasını harcadım. Geriye kaç liram kaldı?



23- Aşağıdaki işlemlerden hangisinin sonucu 30'dur?

- A) $12 + 16 =$ B) $18 + 14 =$ C) $17 + 13 =$

24- Kardeşimin benden 4 yaş küçüktür. Ben 13 yaşındayım.



Merve ile kardeşinin yaşları toplamı kaçtır?

- A) 22 B) 19 C) 16

25- What's your name?



.....
is Elif.

Yukarıdaki konuşmada boş bırakılan yere hangisi yazılmalıdır?

- A) Fine thanks
B) My name
C) Your

***** BAŞARILAR *****

Her soru 4 puandır.
2/F SINIF ÖĞRETMENİ
ENES SERT