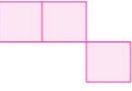
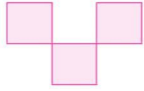



1- Yandaki tablodan baba tarafımızdaki akrabalarımız silinirse hangisi oluşur?

dayı	hala	anneanne
amca	teyze	babaanne

- A)  B)  C) 

2- Aşağıdaki bilgilerden hangileri doğrudur?

1- Yemekten önce ve sonra ellerimizi yıkamalıyız.

2- Yemeği büyük lokmalar halinde yemeliyiz.

3- Yemekte ağızımızı şapırdatmamalıyız.

4- Sevmediğimiz yemekleri tabakta bırakmalıyız.

- A) 2 ve 4 B) Yalnız 2 C) 1 ve 3

3- Fatih'in tümcesi aşağıdakilerden hangisi ile tamamlanamaz?






Sağlıklı büyüme ve gelişmek için önemli olan

- A) geç yatmaktır. B) spor yapmaktır.
C) temizliktir.

4- Çevreye zarar veren davranışlar hangi seçenekte verilmiştir?



- A) 1 ve 4
B) 2 ve 4
C) 1 ve 3

- 5-  Atık sular ve çöpler çevremizi kirletir.
 Çöpler akarsuları kirletmez.
 Çöpler deniz canlılarına zarar verir.

Yukarıdaki ifadelerden hangileri doğrudur?

- A)  B)   C)  

6- Aşağıdakilerden hangisi sağlıklı büyüme ve gelişmek için yapılmaz?

- A) Sokakta açıkta satılan yiyecekleri tüketmeliyiz.
B) Günde üç öğün yemek yemeliyiz.
C) Dengeli ve düzenli beslenmeye özen göstermeliyiz.

7- Sandviç hazırlarken hangisini kullanmayız?

- A) peynir B) domates C) pekmez

8- Aşağıdaki yiyeceklerden hangileri vücudumuza enerji veren besinlerdendir?

- A) et, ekmek, ceviz
B) elma, marul
C) su

9- Hangi görselin adı "ta-" hecesi ile başlamıyor?



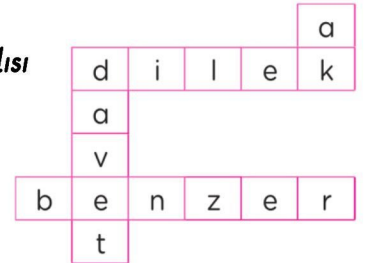
- A)  B)  C) 

10- Ayhan, az önce çıktı

Yukarıdaki tümcede boş bırakılan yere aşağıdakilerden hangisi yazılamaz?

- A) aşağı B) yola C) yukarı

11- Yandaki bulmacada hangi sözcüğün eş anlamlısı yoktur?



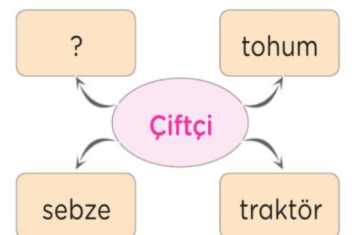
- A) istek
B) çağrı
C) kırmızı

12- Yandaki sözcükler karşıt anlamlılarıyla eşleştirilince hangisi açıkta kalır?



- A) cevap
B) dolu
C) düşman

13- Nurcan, "Çiftçi" sözcüğünün çağrıştırdığı kelimeleri yazıyor. Buna göre "?" işareti olan yere hangisini yazmış olamaz?



- A) uçak B) meyve C) buğday

14- 1 güzel 2 ne 3 rengi 4 kadar 5 çayın

Yukarıda karışık olarak verilen kelimelerden anlamlı ve kurallı bir cümle oluşturursak sıralama nasıl olur?

A) 5-3-2-4-1 B) 1-5-3-2-4 C) 2-1-5-3-4

15 ve 16. soruyu yandaki şiire göre cevaplayınız.

Ağaçların arasında,
Çok güzel bir bahçemiz var.
Bahçemizin ortasında,
Saray gibi evimiz var.

15- Şiire göre ev neredeymiş?

A) Ağaçların arasında
B) Yolun kenarında
C) Bahçenin ortasında

16- Şiirin ana duygusu hangisidir?

A) Yardımlaşma
B) Ev ve ağaç sevgisi
C) Sağlıklı hayat

17- Çok mutluyum. Artık yeni bir bisikletim var.



Sedat

Yukarıdaki ifadeye göre Sedat'ın mutlu olmasının sebebi nedir?

A) Yeni bir araca sahip olması
B) Bir yarışmayı kazanması
C) Sevdiği arkadaşıyla oynaması

18- Tabloya göre sınıf mevcutlarının azdan çoğa doğru sıralanışı hangisidir?

Sınıflar	Sınıf mevcudu
1A	29
2A	27
3A	30
4A	25

A) 3A, 1A, 2A, 4A
B) 2A, 4A, 3A, 1A
C) 4A, 2A, 1A, 3A

19- Mert, Ege ve Can 3 TL'ye satılan hikâye kitaplarından birer tane almak istediler. Cüzdanlarındaki paralara göre hangisi hikâye kitabı alamaz?

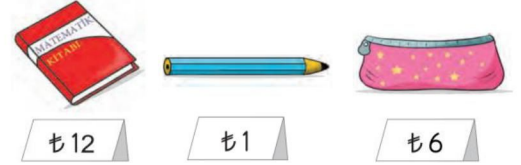
A) 4 tane 50 kuruşu olan Mert
B) 1 tane 5 TL'si olan Can
C) 3 tane 1 TL'si olan Ege



20- Bora'nın cüzdanında yukarıdaki paralar vardı. Parasının 8 TL'sini harcadı. Geriye kaç lirası kaldı?

A) 3 TL B) 4 TL C) 5 TL

21- 15 TL'si olan Bahadır, aşağıdaki üç ürünü almak istiyor.



Bahadır'ın kaç liraya daha ihtiyacı vardır?

A) 4 TL B) 5 TL C) 7 TL

22, 23 ve 24. soruları aşağıdaki grafiğe göre cevaplayınız.

Grafik: 2 F Sınıfındaki Öğrenci Sayısı

Kız öğrenciler	Erkek öğrenciler

Not: Her görsel 2 öğrenciyi temsil etmektedir.

22- Sınıfta kaç erkek öğrenci vardır?

A) 7 B) 12 C) 15

23- Kız öğrenciler, erkek öğrencilerden ne kadar fazladır?

A) 1 B) 3 C) 4

24- 2F sınıfında toplam kaç öğrenci vardır?

A) 28 B) 23 C) 22

25- old are you?

I'm seven.

Yukarıdaki konuşmada boş bırakılan yere hangisi yazılmalıdır?

A) What
B) How
C) Thank's



***** BAŞARILAR *****

Her soru 4 puandır.

ENES SERT

2/F SINIFI ÇALIŞMALARI