

1- Aşağıdaki özel günlerden hangisinde insanlar daha fazla paylaşma ve dayanışma içinde olurlar?  
A) Öğretmenler günü  
B) Kurban Bayramı  
C) Cumhuriyet Bayramı

2- Hangi millî bayramımız nisan ayı içinde kutlanmaktadır?

- A) Ulusal Egemenlik ve Çocuk Bayramı  
B) Zafer Bayramı  
C) Atatürk'ü Anma ve Gençlik ve Spor Bayramı

3- Çetin'in cümlesini hangisi ile tamamlamamız doğru olur?



Atatürk'ün babası .....'dir.

- A) Mehmet Akif  
B) Ali Rıza Efendi  
C) Yavuz Sultan Selim

4- Bir tohumun canlanması için ..... gereklidir.

Yukarıdaki ifadede boş bırakılan yere hangisi yazılamaz?

- A) su B) hava C) ışık

5-



Yukarıdaki şemada "?" ile belirtilen yere hangisi yazılmalıdır?

- A) Hava B) Meyve C) Tohum

6-

2-İ sınıfı öğrencileri okul bahçesindeki boş alanı ağaçlandırmak istiyorlar. Bunun nedeni hangisi olabilir?



- A) Boş zamanlarını değerlendirmek  
B) Okul bahçesini güzelleştirmek  
C) Kuşların bahçeye gelmesini önlemek

7- Derya evde maymun beslemek istemektedir. Derya'nın maymuna bakması için hangisine ihtiyacı olmaz?

- A) muz B) su C) toprak

8-

Aşağıdaki hayvanlardan hangileri sadece otla beslenirler?



- A) kedi, koyun, aslan  
B) ayı, kaplan, kurt  
C) inek, keçi, zürafa

9-

oldu her bize  
konuda yardımcı

Yukarıdaki sözcüklerle anlamlı ve kurallı bir cümle oluşturduğumuzda 4. sırada hangi sözcük olur?

- A) konuda B) yardımcı C) her

10-

Babam kendisine yeni bir elbise aldı.

Yukarıdaki cümlede altı çizili sözcük hangi sorunun cevabıdır?

- A) Ne? B) Niçin? C) Ne zaman?

11- Yandaki kelimeleri anlam yönünden grupladığımızda hangisi dışarıda kalır?

Sandalye	Dolap
Telefon	Koltuk

- A) Dolap B) Koltuk C) Telefon

12-

Hey, sen  Bana bakar mısın

Yukarıdaki cümlede kutuların içine sırasıyla hangi noktalama işaretleri yazılmalıdır?

- A) ? ? B) ! ? C) . ?

13-

Hangi cümlede  yerine "için" yazılamaz?

- A) Çok yürüdüğü  yoruldu.  
B) Ev aldıkları  taşındılar.  
C) Bardak yere düştü  kırılmadı.

14- Yandaki dörtlüğün ana duygusu hangisidir?

- A) Dünya barışı  
B) Sevilen renkler  
C) Gezegenlerin kardeşliği

Rengimiz farklı olsun  
Ayrı olsun dilimiz  
Ne de olsa dünyamız  
Ortak gezegenimiz.

15- Yandaki sayışmada hangi sözcüğün anlamı yoktur?

- A) mum  
B) yalan  
C) dum

Portakalı soydum  
Baş ucuma koydum  
Ben bir yalan uydurdum  
Duma duma dum  
Kırmızı mum.

16- Aşağıdaki cümlelerde geçen özel adlardan hangisinin yazımında yanlışlık yapılmıştır?

- A) Oyunu Mertcan Yıldız kazanmış.  
B) Eminenin yaptığı resim çok güzel.  
C) Köpeğim Karabaş hastalandı.

17- Kerem - Metin - Suna - Arda

Yukarıdaki adlar alfabetik sıraya göre dizildiğinde baştan üçüncü sırada hangisi olur?

- A) Metin  
B) Suna  
C) Kerem

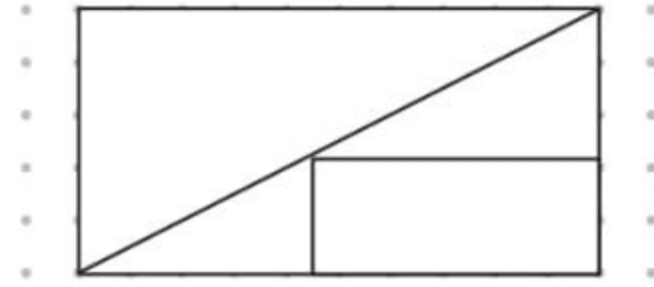
18- bütün = ..... yarım

Yukarıdaki eşitlikte noktalı yere hangisi yazılmalıdır?

- A) 1 B) 2 C) 3


19- Yanda oluşturulan şekilde hangisi yoktur?

- A) Dikdörtgen  
B) Üçgen  
C) Kare



20- Nevin, yandaki geometrik cismin her yüzünü farklı renge boyayacaktır. Nevin'in kaç farklı renkte boya kullanması gerekir?

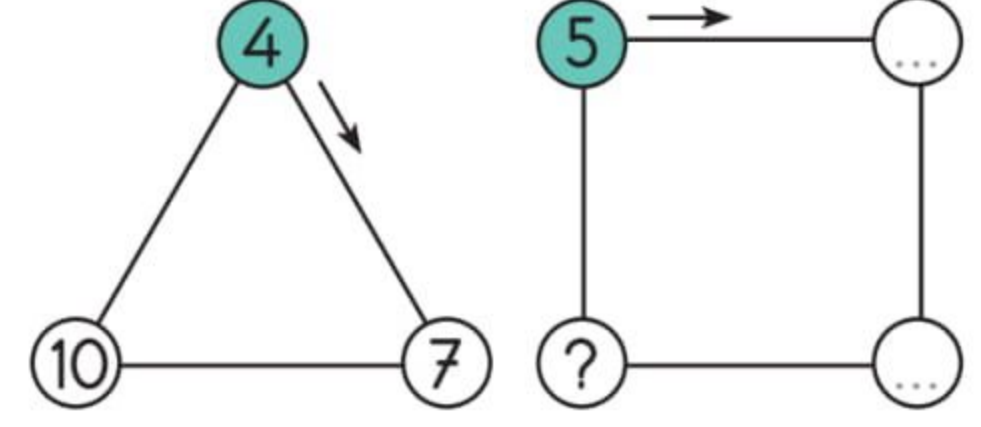
- A) 6 B) 5 C) 4



21- Aşağıdaki eşitliklerden hangisinde boş bırakılan yere 7 yazılamaz?

- A)  $6 + 4 = \dots + 3$   
B)  $2 \times \dots = 10 + 5$   
C)  $8 : 4 = 9 - \dots$

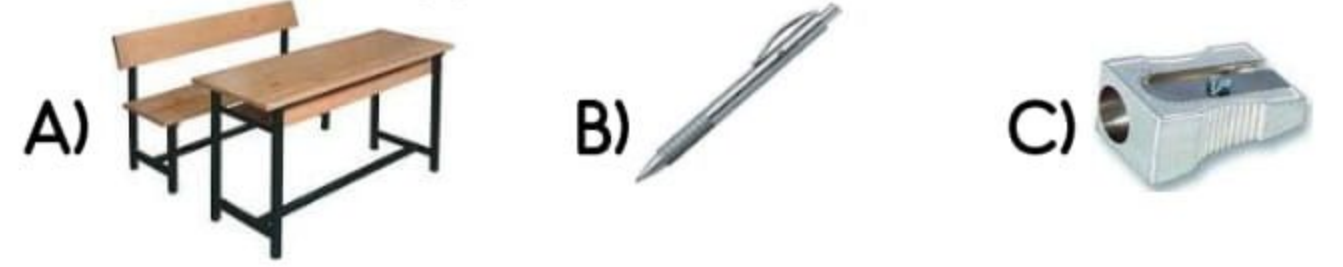
22-



Karede ok yönünde uygulanan örüntünün kuralı üçgendeki örüntünün kuralı ile aynıdır. Buna göre "?" olan yere hangi sayı gelmelidir?

- A) 12 B) 14 C) 16

23- Aşağıdaki nesnelere hangisini karışla ölçmemiz daha uygundur?



24- Benim 7 liram vardır. Ablamın parası benimkinden 5 lira fazladır. İkimizin toplam kaç lirası vardır?

- ★ Benim param: .....  
● Ablamın parası: .....  
■ İkimizin toplam parası: .....

Yukarıdaki sözel ifadelerden ■ yerine aşağıdakilerden hangisi yazılmalıdır?

- A) 7 B) 12 C) 19

25-



I like grapes.

Yukarıdaki ifadeye göre Remziye hangi meyveden hoşlanmaktadır?



\*\*\*\*\* BAŞARILAR \*\*\*\*\*

Her soru 4 puandır. Cevaplarınızı kontrol edin lütfen.

Enes SERT 2/ F Sınıfı Çalışmaları