

Adı:
Soyadı:



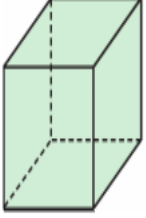
Matematik
3/F Çalışma Kağıdı



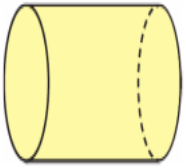
Tarih
...../...../2019

Etkinlik

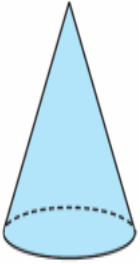
Aşağıda verilen geometrik cisimlerin adlarını ve özelliklerini karşınıza örnekteki gibi yazınız.



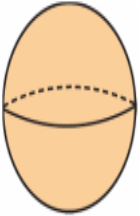
- Küp
- 6 yüzüm, 8 köşem, 12 ayrıtımdır.
- Tüm yüzlerim birbirine eş olan karedir.



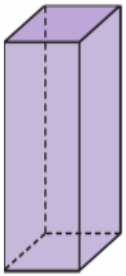
-
-
-




-
-
-



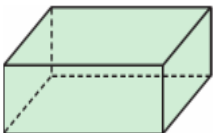
-
-
-



-
-
-



-
-
-



-
-
-

4.ÜNİTE DEĞERLENDİRME

$$\frac{7}{11} \cdot \frac{4}{9} \cdot \frac{1}{7}$$

Yukarıda verilen kesirlerden hangisi birim kesri ifade etmektedir?

- A) $\frac{7}{11}$ B) $\frac{4}{9}$ C) $\frac{1}{7}$

Selen, 88 TL parasının $\frac{1}{4}$ 'i ile defter aldı. Defter için kaç lira ödemiştir?

- A) 22 B) 25 C) 30

Hakan 16.20'den 18.35'e kadar ders çalıştı. Hakan ne kadar süre ders çalışmıştır?

- A) 3 sa. 15 dk.
B) 2 sa. 15 dk.
C) 2 sa. 55 dk.

Bir otobüs durağında 20 dk. da bir otobüs geçmektedir. İlk otobüs saat 8.00'de geçtiğine göre 3. otobüs saat kaçta geçmektedir?

- A) 8.20 B) 8.40 C) 9.00



Bir kutusu 2 TL 40 kr. olan yumurtadan 3 kutu alan Ali kaç TL ve kaç

kuruş ödemelidir?

- A) 6 TL 20 kr.
B) 7 TL 20 kr.
C) 8 TL 20 kr.

Adı:
Soyadı:

Matematik
3/F Çalışma Kağıdı

UNUTMA VE ÖĞREN
Peri bacaları nerededir?

Paralarımız ile İlgili Problemler

Aşağıdaki problemleri çözünüz.

1. Cebinde 4 tane 10 TL ve 3 tane 5 TL'si olan öğrenci, parasının 18 TL'si ile kitap aldı. Kalan parası kaç liradır?

2. Elif'in kumbarasından 6 tane 20 TL, 2 tane 50 TL ve 4 tane 25 kr. çıktı. Elif'in kumbarasından çıkan paranın toplamı kaç liradır?

3. Bora, 25 TL olan haftalık harçlığının 9 TL'sini biriktiriyor. Kalanını harcıyor. Bora, 90 TL'lik formayı alabilmek için kaç hafta para biriktirmelidir?

Kilogram ve Gram ile İlgili Problemler

Aşağıdaki problemleri çözünüz.

1. Bir manav, her bir kasada 12 kg çilek olan 3 kasa çileği ikişer kilogramlık kutulara doldurarak sattı. Manav, kaç kutu çilek satmıştır?


2. Eda 28 kg'dır. Ablasının kütlesi ise Eda'dan 17 kg fazladır. Buna göre Eda ile ablasının kütleleri toplamı kaç kg'dır?

3. Kilogramı 28 TL olan peynirden çeyrek kilogram, kilogramı 24 TL olan zeytinden yarım kilogram aldım. Kaç lira ödeyeceğim?



Yukarıdaki terazinin kefesiy-le 4 kez ölçüm yapan manav toplam kaç kg'lık patates tartmış olur?

A) 14 B) 28 C) 32



Çiftlikte 60 tane hayvan var. Bunların yarısı keçi, $\frac{1}{3}$ 'ü tavuk geri kalanı da koyundur. Koyunların sayısı kaçtır?

A) 15 B) 20 C) 10

Her birinde 27 kg armut olan 3 kasa armudun $\frac{1}{9}$ 'ü satıldı. Geriye kaç kg armut kalmıştır?

A) 72 B) 75 C) 80

3 TL aşağıdakilerden hangisine eşit **değildir**?

A) 12 tane 25 kr.'a eşittir.

B) 20 tane 10 kr.'a eşittir.

C) 6 tane 50 kr.'a eşittir.

2 kg undan 9 çörek yapılmaktadır. 45 tane çörek yapmak için kaç kg un gerekir?

A) 8 B) 12 C) 10