

Adı:
Soyadı:

İNGİLİZCE ÇALIŞMA KAĞIDI



Tarih
...../...../2018

Görselleri uygun kelimelerle eşleştiriniz.



lemon

kangaroo

train

football

cake

Aşağıdaki kişileri isimleriyle eşleştiriniz.



My name is Bob.



I'm Sally.



I'm Jack.



My name is Emma.

Emma

Bob

Sally

Jack

Selamlaşma cümlelerini uygun görseller ile eşleştiriniz.

Good morning!

Good evening!

Good afternoon!

Good night!



Cümleleri doğru kelimeleri seçerek tamamlayınız.

Close the !

door please up

Maria, stand up.

close window please

Mike, sit please.

door down the

..... the window, please!

Down Ahmet Open

MINI TEST

A: Hello Sera, _____ .

B: I'm fine, thank you.

A) how old are you?

B) how are you?

C) how is it?

What is _____ name?

A) your

B) you

C) you're

How old are you?

A) I'm ten.

B) I have got ten.

C) I ten.

judo, football, _____

A) yo-yo

B) sport

C) video

"zebra" "kangaroo", _____.

A) television

B) gorilla

C) Internet

There are two _____ .

A) desk

B) pencils

C) board



Aşağıdaki kelimeleri kullanarak çocukların cümlelerini tamamlayınız.



..... are you?

okay



I'm, thank you.

thanks



Great,

How

Cümlelerin numaralarını konuşmadaki uygun yerlere yazınız.



1 I'm fine, thanks.

2 How are you?

3 I'm fine, thanks. And you?

Görselleri uygun cümleler ile eşleştiriniz.



Mary, please stand up.



Mark, please sit down.



Justin, please open the window.



Stan, please shut the door.

Sit down, _____ !

A) please B) sorry C) turn

Aşağıda verilen resmin karşılığı nedir?



A) aspirin B) jacket C) wagon

Aşağıda verilen resmin karşılığı nedir?



A) potato B) yoghurt C) tomato

Verilen duruma göre doğru olan seçeneği bulunuz.

Hi!



A) Hello B) What C) How

Verilen resme göre, aşağıdaki ifadelerden hangisi doğrudur?



A) Good bye
B) Good afternoon
C) Good night

Aşağıda cümlede boş bırakılan yere, hangi seçenek gelmelidir?



..... are you.

A) Fine B) Good C) Hi

Adı:
Soyadı:

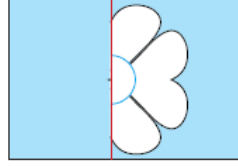
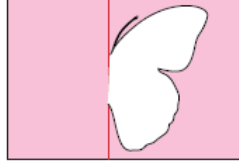
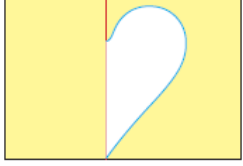
MATEMATİK
ÇALIŞMA KAĞIDI



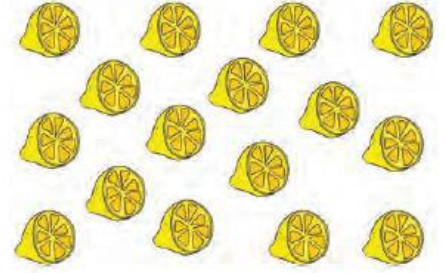
Tarih
...../...../2018

ALİŞTIRMALAR

Aşağıda yarısı verilen resimleri tamamlayınız.



Aşağıdaki Boşlukları Görsele Göre
Tamamlayınız.



..... yarım limon var.
..... bütün limon eder.

Aşağıdaki Çarpma İşlemlerini Yapınız.

$$\begin{array}{r} 3 \\ \times 8 \\ \hline \dots \end{array} \quad \begin{array}{r} 5 \\ \times 4 \\ \hline \dots \end{array} \quad \begin{array}{r} 2 \\ \times 7 \\ \hline \dots \end{array}$$

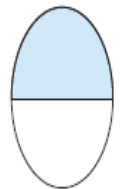

Bölme İşlemini Ardışık Çıkarma İle Yapınız.

$$20 \overline{)4}$$

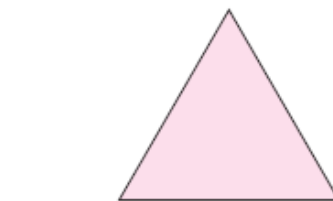
Aşağıdaki Bölme İşlemlerini Yapınız.

$$14 \overline{)2} \quad 8 \overline{)4} \quad 15 \overline{)3}$$

Aşağıdaki Görselleri Ne Kadar Boyalı
Olduğunu Altına Yazınız.

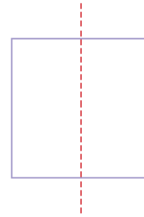
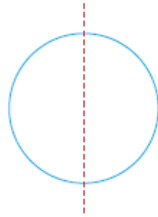
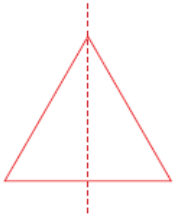


.....

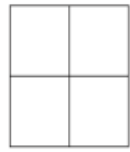


.....

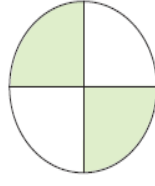
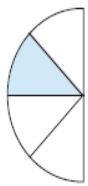
Aşağıdaki şekillerin yarısını boyayınız.



Aşağıdaki şekillerin çeyreğini boyayınız.



Aşağıdaki şekillerin boyalı bölümlerini "bütün, yarım,
çeyrek" olarak altlarındaki noktalı yerlere yazınız.



.....

Aşağıdaki kesirlerde pay, payda ve kesir çizgilerini
gösteriniz. Okların karşlarına yazınız.

$$\frac{2}{4}$$

$$\frac{1}{2}$$

$$\frac{2}{2}$$

$$\frac{1}{4}$$

Aşağıdaki ifadelerde doğru olanların başına "D", yanlış olanların başına "Y" yazınız.


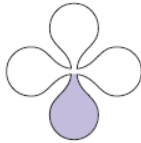
- () Kesir pay, payda ve kesir çizgisinden oluşur.
- () $\frac{1}{4}$ kesrinde pay 4'tür.
- () $\frac{1}{2}$ kesrinde payda 2'dir.
- () Kesirde payda, bütünden kaç eş parça alındığını gösterir.



Bilyelerin tamamı kaç tanedir?.....

Bilyelerin yarısını yuvarlak içine alıp sayısını yazınız.

Aşağıdaki şekillerin boyalı bölümlerini "bütün, yarım, çeyrek" olarak altlarındaki noktalı yerlere yazınız.



Aşağıda verilen şekilleri kesir sayısı olarak gösteriniz. Okunuşlarını yazınız.




Kesir

Okunuşu



Kesir

Okunuşu



Kesir

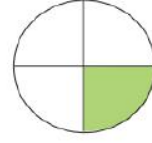
Okunuşu

Aşağıdaki kesrin pay, payda ve kesir çizgisini uygun yerlere yazınız.

..... $\frac{1}{2}$

Kesir Problemleri

Aşağıdaki şekli verilen kasanın dörtte biri erik ile doludur. Bu kasanın boyalı kısmının içinde 6 kilo erik olduğuna göre kasanın tamamı kaç kilo gelir?

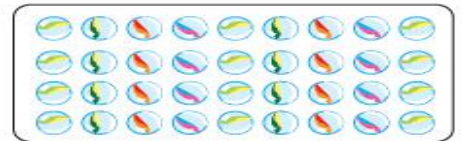


Yukarıdaki görseli kesir olarak yaz ve okunuşunu karşısına yaz.

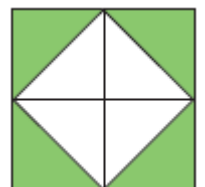
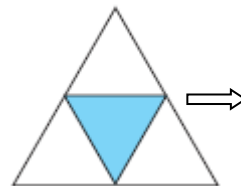
Aşağıdaki şeklin çeyreğini boyayalım.



Misketlerin bir bölü dördü kaç misket olur?(işlem yapalım)



Aşağıdaki kesirleri BUL okunuşlarını altına yazınız.



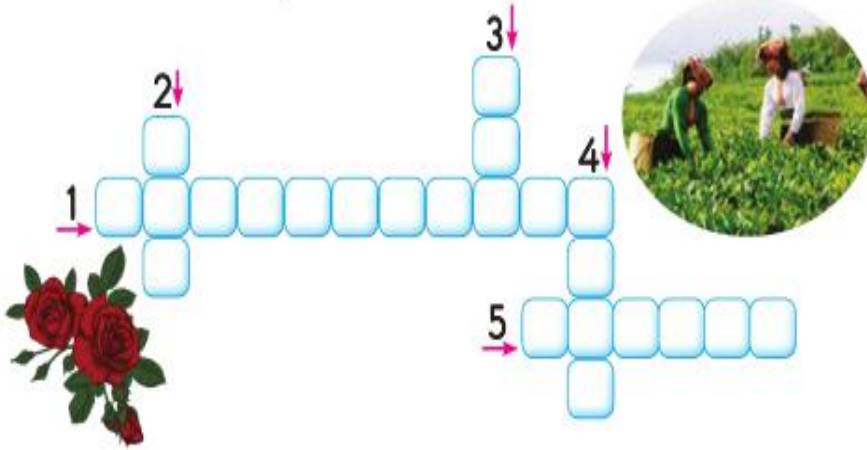
Adı:
Soyadı:

TÜRKÇE ÇALIŞMA KAĞIDI



Tarih
...../...../2018

Bulmacayı çözelim.



1. Hayvanları yetiştirerek bakmak ve onları satarak para kazanmaya denir.
2. Rize'deki en önemli geçim kaynağı olan bitkidir.
3. Isparta'da yetiştirilen bir çiçektir.
4. Hayvancılığın en iyi kalitede yapıldığı ilimiz.
5. Topraktan, hayvanlardan, bitkilerden yeni şeyler yapmak.

Aşağıda verilen "İsim, Şehir, Hayvan" oyununu arkadaşlarımızla birlikte oynayarak dolduralım.

	İsim	Şehir	Hayvan	Ülke	Bitki	Eşya
K →	Kemal	Konya	Keçi	Kanada	Kabak	Kalem
M →						
A →						
Y →						
R →						
E →						
İ →						
Z →						
B →						
D →						

Hayat Bilgisi Mini

Aşağıdaki kültürel özelliklerimizi ilgili alanla numaralandırarak eşleştirelim.

- | | |
|-------------------------|--------------|
| 1
Hına Gecesi | 2
Halay |
| 3
Şalvar | 4
Aşıtlar |
| 5
Yöresel kıyafetler | 6
Zeybek |
| 7
Asker uğurlama | 8
Düğün |
| 9
Türküler | 10
Bozlak |
| 11
Bindallı | 12
Horon |

Gelenek ve
Göreneklerimiz

Halk
Oyunları

Giyim Kuşam

Müzik

Aşağıdaki cümlelerde noktalı yerlere kutucukların içinde yazan sözcüklerden uygun olanları yazalım.



..... maça gelecek misiniz?

..... biraz yürüyeceğim.

Sanırım kazandık.

..... çok kalabalıklar.

Bence haklısın.

..... bana çok kızdı

KURT İLE AYI

Bir yaz günü, kurt ile ayı ormanda yürüyüşe çıktılar.

Ayı:

— Uçarken böyle tatlı şarkılar söyleyen kuş kim acaba? diye sordu. Kurt:



— O, kuşların kralıdır. Aslında bu şarkı söyleyen kuş, insanların "Karakuş" dedikleri kuştur. Ayı:

— Kralın sarayını görmeyi ne kadar isterdim! diye bağırdı.

Kurt:

— Galiba orayı şu an ziyaret edemeyiz. Daha ziyaret zamanı değil. Kraliçe gelene kadar beklemeyiz.

Çok geçmeden kraliçe, yavruları için gagasıyla taşıdığı yiyeceklere döndü. Kralla birlikte minik yavruları doyurmaya başladılar.

(1. 2 ve 3. soruları okuduğumuz metne göre cevaplayalım.)

1. Kurt ile ayı nerede yürüyorlarmış?

- A. parkta B. çarşıda C. ormanda

2. Tatlı şarkılar söyleyen kimdir?

- A. Baykuş B. Karakuş C. Sincap

3. Ayı ile kurt sarayı neden ziyaret edemiyorlar?

- A. Kapalı olduğu için.
B. Kraliçe gelmediği için.
C. Sarayda başkaları yaşadığı için.

Eş anlamlı kelimelerin bulunduğu elmaları kırmızıya, diğer elmaları yeşile boyayalım.



Verilen kelimelerin zıt anlamlılarını bulalım.

YENİ

NORHU

BOŞ

HİRLİ