

Adı:  
Soyadı:

MATEMATİK  
ÇALIŞMA KAĞIDI



Tarih  
...../...../2018

2.  
SINIF

MATEMATİK  
TEST -

Çıkarma İşlemi / Çıkarma İşleminde Verilmeyeni  
Bulma / Zihinden Çıkarma / Çıkarma İşleminin  
Sonucunu Tahmin Etme

1. 87 - 53 işleminin sonucu kaç-  
tır?



5. 95 - 58 işleminin sonucu kaç-  
tır?

A) 37 B) 36 C) 35

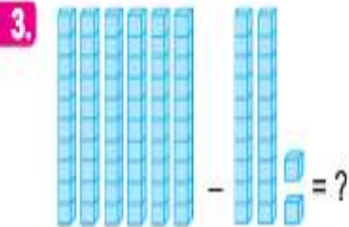
2.  $50 - 18 = \square$   
 $\square - 4 = \text{🍎}$

Yukarıdaki işlemler yapıldı-  
ğında 🍎 yerine kaç gelir?

A) 28 B) 27 C) 26

6. 81 sayısından 44 sayısı çıkara-  
ldığında hangi sayı elde  
edilir?

A) 54 B) 37 C) 28



Yukarıdaki işlemin sonucu  
kaçtır?

A) 48 B) 38 C) 28

7. Esra, teyzesinden 48 ceviz  
aldı. Cevizlerinin 28'ini Sema'ya  
verdi.

Esra'nın kaç cevizi kaldı?

A) 5 B) 10 C) 20

4. Yandaki işlemde 🍋  
ve 🍎 yerine hangi  
sayılar yazılmalı-  
dır?

$$\begin{array}{r} 48 \\ - \quad \text{🍋} \\ \hline \quad \text{🍎} \\ 12 \end{array}$$

A) 🍋 → 2 B) 🍋 → 4 C) 🍋 → 3  
🍎 → 4    🍎 → 2    🍎 → 6

8. Bir çıkarma işleminde çıkan  
sayı 25, fark 36 ise eksilen  
sayı kaçtır?

A) 51 B) 60 C) 61

9. Bir çıkarma işleminde eksi-  
len sayı 88, fark 19 ise çıkan  
sayı kaçtır?

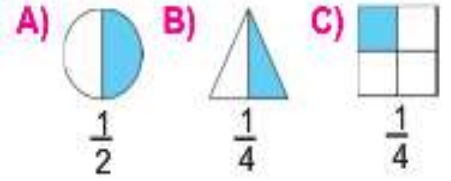
A) 59 B) 69 C) 79

Tabaktaki kek-  
leri 4 çocuk  
eşit olarak paylaşırsa bir  
çocuğa kaç kek düşer?

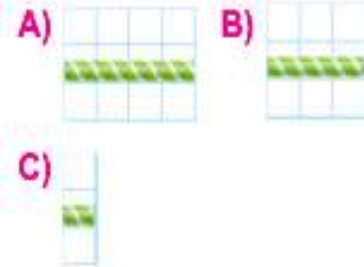
A) 2 B) 3 C) 4



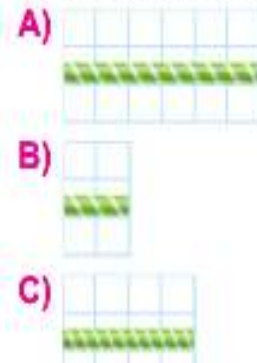
Aşağıdaki modellerden han-  
gisinin kesir ile gösterimi  
yanlıştır?



Yarım pipet uzunluğu hangi  
seçenekte gösterilmiştir?



Kareli kâğıttaki pipetin dört-  
te biri kadar uzunluğu hangi  
seçenekte gösterilmiştir?



10. "Sayıları en yakın onluğa tamamlanarak yapılan işleme ..... denir." cümlesindeki noktalı yere hangisinin söylediği ifade gelmelidir?

A)



toplama işlemi

B)



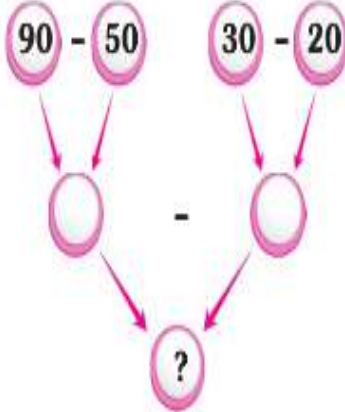
çıkarma işlemi

C)



tahminî işlem

11.



Yukarıdaki çıkarma işlemleri zihinden yapılırsa "?" yerine hangi sayı yazılır?

A) 30 B) 20 C) 10

12.

Bir simitçi, 60 simidin 10 tanesini sattı. Simitçinin geriye kaç simidi kaldı?

Yukarıdaki problemi zihinden yapan bir öğrencinin bulduğu sonuç aşağıdakilerden hangisidir?

A) 70 B) 50 C) 30

13. Aşağıdaki çıkarma işlemlerinden hangisinin tahmini sonucu yanlış yazılmıştır?

İşlem	Tahminî Sonuç
A) $49 - 28$	20
B) $83 - 19$	60
C) $63 - 32$	40

14.

$78 - 13$

30

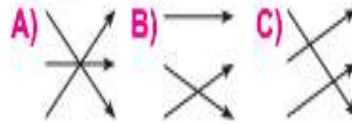
$42 - 21$

20

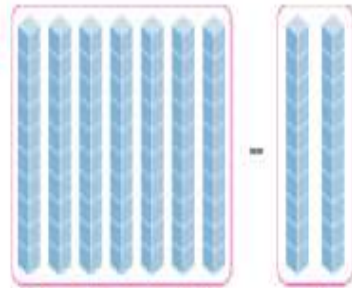
$58 - 33$

70

Yukarıdaki çıkarma işlemleri ile tahmini sonuçları aşağıdakilerden hangisi gibi eşleştirilmelidir?



15.



Yukarıda modellenen çıkarma işleminin zihinden sonucu kaçtır?

A) 70 B) 50 C) 3



Yukarıdaki saat kaç göstermektedir?

A) 07.45 B) 08.15 C) 08.45

Bir sınıfta 18 öğrenci vardır. Sınıftaki kız öğrencilerin sayısı 9 olduğuna göre erkek öğrencilerin sayısı kaçtır?

Verilen problemdeki cebirsel ilişki hangi seçenekte sözel olarak doğru ifade edilmiştir?

A)  $18 - 9 = 9$ 

B) Toplam = Kız + Erkek  
Öğrenci Öğrenci Öğrenci  
Sayısı Sayısı Sayısı

C) Erkek = Toplam - Kız  
Öğrenci Öğrenci Öğrenci  
Sayısı Sayısı Sayısı

Esra okula giderken saat 8'i gösteriyordu. Esra 6 saat sonra eve geldiğinde saat kaç gösterir?

A)



B)



C)



3 hafta sürecek olan resim sergisinin bitmesine 8 gün kalmıştır. Buna göre sergi açılalı kaç gün olmuştur?

A) 11 B) 12 C) 13