

Adı:
Soyadı:




Fen Bilimleri
4/F Çalışma Kâğıdı




Tarih
...../...../2019

Hangisi farklı?



Aşağıdaki görselde bir yapbozun parçalarından her birine bir harf verilmiş ve karışık verilen parçalarda anlamlı bir kelime dizisi gizlenmiştir. Parçaları ve harfleri eşleştirerek gizlenmiş kelimeleri bulunuz.



Aşağıdaki ifadelerde boş bırakılan alanları uygun sözcüklerle tamamlayalım.

mevsimler

365 gün 6 saatte

elips

gölge



- Dünya, Güneş etrafındaki dolanma hareketini tamamlar.
- Dünyamız Güneş etrafında dolandığı yörünge şeklindedir.
- Dünyamızın Güneş etrafında dönmesi sonucu oluşur.
- Dünyamız Güneş'in etrafında dolanırken cisimlerin boyları değişir.

Aşağıdaki zaman kavramları ile Dünya'nın hareketlerini eşleştirelim.

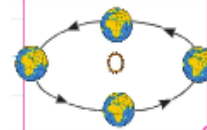
365 gün 6 saat



Dünya'nın kendi ekseninde dönüşü

52 hafta

24 saat



Dünya'nın Güneş etrafında dolanımı

Akşam vakti

Doğu ile batının saat farkı

4 mevsim

Adı:
Soyadı:



Sosyal Bilgiler
4/F Çalışma Kâğıdı



ÖDEV KONTROL VELİ İMZA

.....

TÜM RENKLER BİR ARADA

Aşağıdaki tabloda verilenleri inceleyelim. Bireysel özelliklerin türünü belirleyip örnekteki gibi işaretleyelim.

	Fiziksel Özellik	Duygusal Özellik	Zihinsel Özellik
Piyano çalmak			X
Orta boy			
Güler yüz			
Cesur olmak			
Hızlı hesap yapabilmek			
Merhamet			
Çekingenlik			
Şiir yazma			
Kahverengi göz			
Mutlu olmak			
Buğday ten			
Güzel konuşma			
Resim yapma			

Resimleri dikkatle inceleyelim. Verilen kişisel özellikleri kullanarak hangi çocuğun anlatıldığını bulup aşağıya yazalım.



Emre



Ebru



Erdinç



Emrah



Enes



Emel

- ▶ Güler yüzlüdür.
- ▶ Saçları açık renk değildir.
- ▶ Saçları kısadır.
- ▶ Gözleri koyu renk değildir.
- ▶ Gözlük kullanır.

Çocuğun Adı:

Aşağıda verilen yüz ifadeleriyle duyguları eşleştirelim.

I. II. III. IV. V.

Kızgın Mutlu Üzüntü Şaşkın Korku

Fen Tekrar

gündüz

öğlen

Güneş

bir yılda

bir günde

gece

Aşağıdaki boşluklara yukarıda verilen kavramlardan uygun olanını yazalım.

- ▶ sabahın erken saatlerinde doğu yönünde görünür.
- ▶ Dünya, Güneş'in etrafında dolanma hareketini tamamlar.
- ▶ Güneş'in en tepede olduğu zaman vaktidir.
- ▶ Dünya kendi etrafında dönme hareketini tamamlar.
- ▶ Dünya'nın doğusunda gündüz yaşanırken batısında..... yaşanır.
- ▶ Dünya'nın Güneş görmeyen yüzünde gece yaşanırken Güneş gören yüzünde yaşanır.

Aşağıdaki kavram haritasında boş bırakılan alanları dolduralım.

