

Adı:
Soyadı:



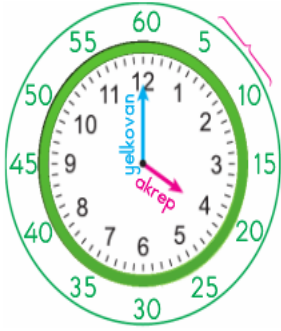
Matematik
3/F Çalışma Kağıdı



Tarih
...../...../2019

ZAMAN ÖLÇME

Dakika ve Saat



Saat üzerindeki her sayı arasında 5 dakika vardır.

Günlük zamanı ölçmek için kullanılan araçlara **saat** denir.

Akrep

Saati gösteren kısa koldur.

Yelkovan

Dakikayı gösteren uzun koldur.

1 saat = 60 dakikadır.

Etkinlik

1. Aşağıda verilen saatlerin **öğleden önce** okunuşlarını örnekteki gibi yazınız.




5'i çeyrek geçiyor.




Akrep ve Yelkovanı Çiz




08:15



05:30



23:20




17:10




19:45



16:15



02:15



13:45

Adı:
Soyadı:


Matematik
3/F Çalışma Kağıdı

Atasözümüz


Sitemizdeki atasözünün anlamını öğrenelim.

Etkinlik

1. Aşağıda verilen saatlerin altına öğleden önce okunuşlarını yazınız.



2. Aşağıda verilen saatlerin altına öğleden sonra okunuşlarını yazınız.



Verilen saat görseliyle, okunan zamanı eşleştirelim.



4'e çeyrek var



9'a 20 var



4'ü 5 geçiyor



on



5'i 10 geçiyor



bir buçuk

Tablodaki boşlukları dolduralım.

15 dakika önce	Saat	30 dakika sonra
.....	12.00
.....	17.15
.....	09.20
.....	20.30
.....	22.10
.....	13.05