

Adı:

Soyadı:

Okuma - Anlama - Şiir

## GÖRDÜM GÖRDÜM

- Oh! Açıldı gözüm, gönlüm...  
Gördüm... gördüm... gördüm...
- Dur, bağırma avaz avaz,  
Neyi gördün a yaramaz?
- Dallar çiçek açtı.  
Kırlangıçlar uçtu.  
Kar eridi, sular coştı...  
Oh, ne hoştu, oh ne hoştu...  
Oh! Açıldı gözüm, gönlüm...  
Gördüm... gördüm... gördüm...
- Dur, bağırma avaz avaz,  
Neyi gördün a yaramaz?
- Yeşil başak, altın oldu.  
Değirmene buğday geldi.  
Ne güzeldi... Ne güzeldi...  
Oh! Açıldı gözüm, gönlüm...  
Gördüm... gördüm... gördüm...
- Dur, bağırma avaz avaz,  
Neyi gördün a yaramaz?  
Dağlar taşlar bembeyazdı,  
Sokakta kış, evde yazdı...  
Evi ne çok sevsem azdı...

**Behçet Kemal ÇAĞLAR**  
**hızl. Cuma KARATAŞ**



*Şiiri en az 3 defa dikkatlice oku .*

Adı:

Soyadı:

## Zıt ve Eş Anlam

A. Aşağıdaki kelimelerin zıt anlamlılarını yazalım.

satıcı

ucuz

veresiye

ödlek

üvey

helâl

kuzey

tümsek

hırçın

B. Aşağıdaki kelimelerin eş anlamlılarını yazalım.

zelzele

kılavuz

tümce

doğa

sağlık

onarım

kent

ilan

çaba

C. Aşağıdaki bulmacayı dolduralım.

1 "Güven" sözcüğünün eş anlamlısı.

2 "Üretici" sözcüğünün zıt anlamlısı.

3 "Zor" sözcüğünün zıt anlamlısı.

4 "Cahil" sözcüğünün zıt anlamlısı.

5 "Yetenek" sözcüğünün eş anlamlısı.

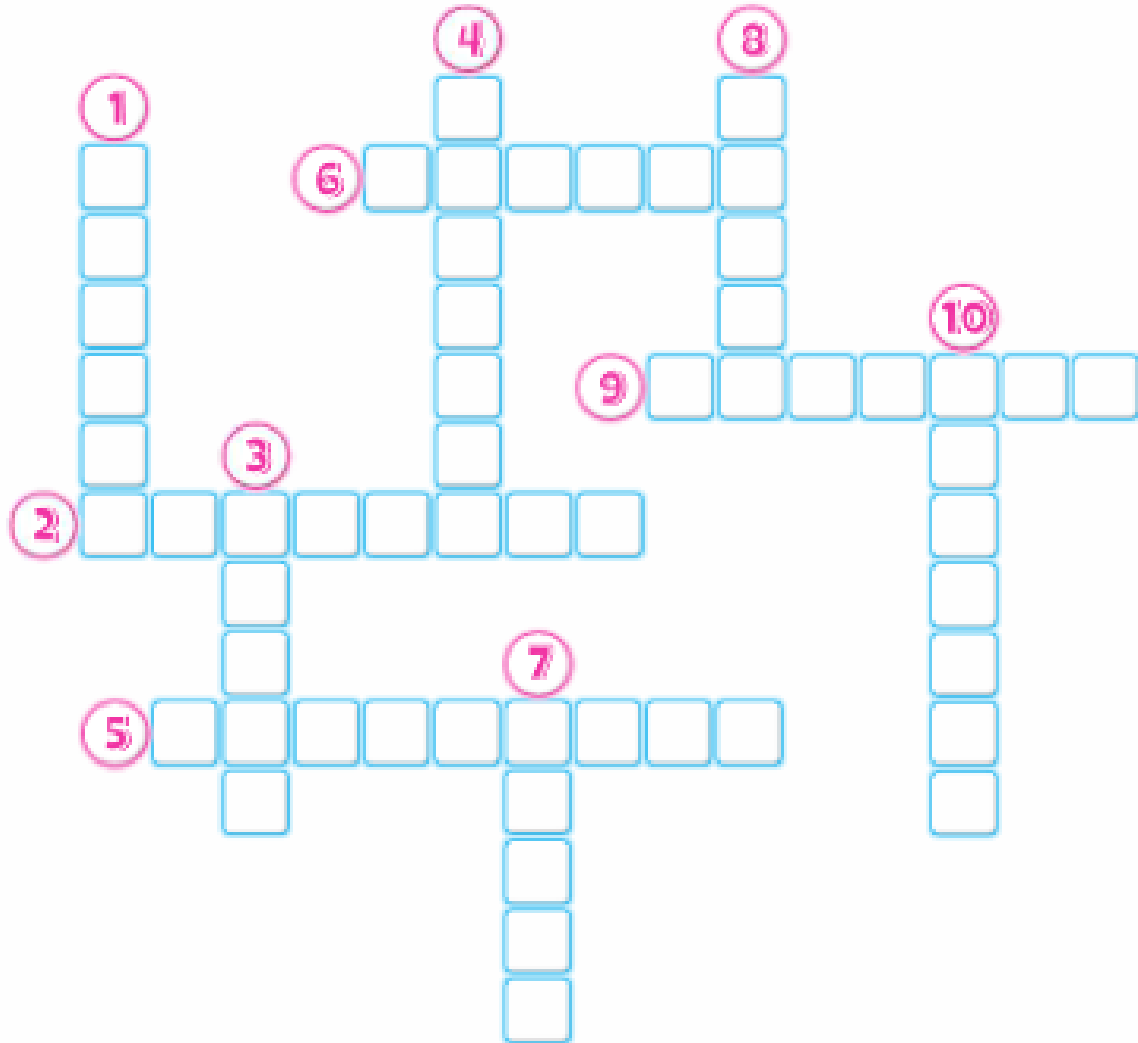
6 "Öykü" sözcüğünün eş anlamlısı.

7 "Özen" sözcüğünün eş anlamlısı.

8 "Kalabalık" sözcüğünün zıt anlamlısı.

9 "Yerli" sözcüğünün zıt anlamlısı.

10 "Pozitif" sözcüğünün zıt anlamlısı.



Adı: Soyadı: 

Değerlendirme - 6

1.  $\triangle: 6 \times 3 = 18$   $\square: 7 \times 8 = 64$   
 $\circ: 7 \times 4 = 28$   $\diamond: 8 \times 6 = 48$   
 $\bullet: 5 \times 7 = 35$   $\star: 4 \times 9 = 36$

Çarpma işlemlerinde hangileri yanlıştır?

- A.  $\square$   $\diamond$   $\bullet$   
 B.  $\triangle$   $\circ$   $\star$   
 C.  $\square$   $\circ$   $\star$

2. Aşağıdaki çarpma işlemlerinden hangisinin sonucu en büyüktür?

- A.  $\begin{array}{r} 34 \\ \times 5 \\ \hline \square\square\square \end{array}$  B.  $\begin{array}{r} 37 \\ \times 4 \\ \hline \square\square\square \end{array}$  C.  $\begin{array}{r} 43 \\ \times 3 \\ \hline \square\square\square \end{array}$

3.  $\begin{array}{r} 146 \\ \times 5 \\ \hline \square\square\square \end{array}$

Çarpma işleminin sonucu kaçtır?

- A. 630 B. 730 C. 830

4.  $\begin{array}{r} 107 \\ \times 6 \\ \hline 6A2 \end{array}$

Çarpma işleminde A yerine hangi sayı gelmelidir?

- A. 2 B. 3 C. 4

5.

$$\begin{array}{r} \boxed{3}\boxed{4} \\ \times \boxed{2}\boxed{3} \\ \hline \end{array}$$

Çarpma işleminin sonucu kaçtır?

- A. 782 B. 762 C. 784

6.

$$\boxed{42} + \boxed{42} + \boxed{42} + \boxed{42} + \boxed{42}$$

Toplama işleminin çarpma işlemi ile ifade edilişi hangisidir?

- A.  $42 \times 42$   
 B.  $5 \times 42$   
 C.  $42 \times 5 \times 42 \times 5$

7.

$$\begin{array}{r} \boxed{8} \text{ onluk} + \boxed{4} \text{ birlik} \\ \times \quad \quad \quad \boxed{9} \\ \hline \boxed{\phantom{0}} \text{ yüzlük} + \boxed{\phantom{0}} \text{ onluk} + \boxed{\phantom{0}} \text{ birlik} \end{array}$$

İşleminin sonucu kaçtır?

- A. 746 B. 756 C. 766

8.  $\boxed{2}$  yüzlük +  $\boxed{0}$  onluk +  $\boxed{8}$  birlik

$$\begin{array}{r} \times \phantom{00} \\ \phantom{0}4 \\ \hline \end{array}$$

$\boxed{\phantom{0}}$  yüzlük +  $\boxed{\phantom{0}}$  onluk +  $\boxed{\phantom{0}}$  birlik

İşleminin sonucu kaçtır?

A. 842      B. 812      C. 832

9.  $\boxed{8} \times \boxed{10} = \boxed{\dots\dots\dots}$

$$\boxed{10} \times \boxed{32} = \boxed{\dots\dots\dots}$$

İşlemlerin sonucunun toplamı

kaçtır?

A. 400      B. 390      C. 410

10.  $\boxed{\dots\dots\dots} \times \boxed{10} = \boxed{700}$

İşleminde noktalı yere hangi sayı gelmelidir?


A. 7      B. 70      C. 100

11.  $\boxed{34} \times \boxed{10} > \boxed{\dots\dots\dots}$

İşleminde noktalı yere gelebilecek en büyük sayı kaçtır?

A. 340      B. 341      C. 339

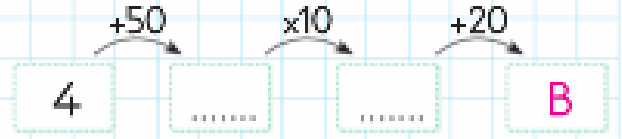
12.



A olan kutuya hangi sayı gelmelidir?

A. 420      B. 402      C. 421

13.



B olan kutuya hangi sayı gelmelidir?

A. 540      B. 560      C. 600

14. Mehmet 15 gün süresince her gün 10 sayfa kitap okudu. Okuduğu kitap 400 sayfa olduğuna göre okumadığı sayfa sayısı kaçtır?

A. 150      B. 250      C. 350

15. Bir manav 20 kasa kivi aldı. Her kasada 14 kivi vardı. Kivilerin 130'unu sattı. Geriye kaç kivi kaldı?

A. 130      B. 140      C. 150

UNIT-2 - MY FAMILY

A. Aşağıdaki kelimelerin İngilizce karşılıklarını yazınız.

AMCA

.....

HALA

.....

BABA

.....

ANNE

.....

BÜYÜK BABA

.....

BÜYÜK ANNE

.....

KUZEN

.....

KIZ KARDEŞ

.....

ERKEK KARDEŞ

.....