

Adı:
Soyadı:

4. SINIF MATEMATİK Değerlendirme

Tarih
...../...../2021

Bir gün kurt, yakaladığı avını yerken boğazına bir kemik batmış. Ne kadar uğraşmışsa da kemiği boğazından çıkaramamış. Gitmedik doktor kalmamış ama nafile, hiç kimse kurdun boğazındaki kemiği çıkaramıyormuş. Hayvanlardan birisi şöyle demiş; " Bu kemiği çıkarsa çıkarsa, ancak leylek çıkabilir. Çünkü onun çok uzun bir gagası var.

1, 2 ve 3. soruları parçaya göre cevaplayınız.





1-----
Okuduğunuz hikâyenin başlığı ne olabilir?

- A. Yavru ceylan B. Kurt ile Leylek
C. Gökkuşuğu D. Aslan ile Tilki

2-----
Kurdun boğazına ne batmış?

- A. Kalem B. Diken
C. Kemik D. Çatal

3-----
Kurt, boğazına batan cismi çıkartmak için hangi hayvana gitmiş?

- A.  Aslan B.  Tilki
C.  Leylek D.  Kurt

4-----
Aşağıdaki kelimelerden hangisi yanlış hecelenmiştir?

- A. ark-a-daş-ım-la
B. ko-nuş-ma-ma-lı
C. has-ta-lık-tan
D. gön-der-dik

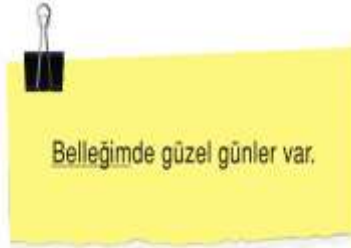
5-----
Aşağıdaki sözcük ikililerinden hangisi karşıt anlamlı değildir?

- A. savaş-barış B. ulus-millet
C. uzun-kısa D. aşağı-yukarı

6-----
Aşağıdaki kelimelerden hangisi eş sesli değildir?

- A. yüz B. eski C. yaş D. sal

7-----



Yukarıdaki cümlede altı çizili sözcüğün eş anlamlısı olan sözcük hangisidir?

- A. Rüya B. Anı
C. Hafıza D. Hatıra

8-----

- Kır saçları rüzgârda dalgalanıyordu.
- Davetine gelmediği için kırılmıştı.
- Kır çiçeklerinden taç yaptım.
- Kırdığı odunları sobaya attı.

"Kır" sözcüğü yukarıdaki cümlelerde kaç farklı anlamda kullanılmıştır?

- A. 1 B. 2 C. 3 D. 4

9-----

barış	1	a	ikaz
doğa	2	b	sonbahar
güz	3	c	tabiat
uyarı	4	d	sulh

Yukarıdaki sözcüklerin eş anlamlıları ile eşleştirilmesi hangi seçenekte doğru olarak yapılmıştır?

- A. 1-b, 2-d, 3-c, 4-a
B. 1-d, 2-c, 3-b, 4-a
C. 1-a, 2-b, 3-d, 4-c
D. 1-d, 2-a, 3-d, 4-b





10-----
Boş kelimesi aşağıdaki cümlelerin hangisinde "bir işe yaramayan" anlamında kullanılmıştır?

- A. Boş sözlerle beni oyalamaya çalışıyor.
B. Burada hiç boş yer kalmamış, başka yere gidelim.
C. Valizde boş yer kalmayınca çantasına yerleştirdi.
D. Kutunun boş olduğunu görünce çok kızdı.

11-----
"Kopmak" kelimesi, aşağıdaki cümlelerin hangisinde gerçek anlamıyla kullanılmıştır?

- A. Akşama kadar yük taşımaktan kollarım koptu.
B. Çamaşır astığımız ip kopmuş.
C. Sınıfta gürültü koparmanın anlamı yok.
D. Serkan ile ilişkilerimiz koptu.

12-----
Aşağıdakilerden hangisi basit bir kelimedir?

- A.  köyler B.  renkli
C.  çöpçü D.  ormanlık

13-----
Aşağıdaki görsellerin isimlerinden hangisi birleşik yapıdır?

- A.  B. 
C.  D. 

14-----
Aşağıdakilerden hangisi kurallı cümle değildir?

- A. Erkenden gelmiş çocuk dükkâna.
B. Buradaki gazeteyi onlar getirdi.
C. Kar yağışı her geçen saat hızlanıyor.
D. Tüm köyde elektrikler kesilmiş.

15-----
Aşağıdakilerden hangisi olumsuz cümledir?

- A. Bir bardak şeftali suyu içelim.
B. Bu bahçeye ağaç dikilmesini dedem istemiş.
C. Cebimde bir sürü misket var.
D. Bu benim kalemim değil.

16-----

- ★ Eyvah, yangın çıkmış
♥ Bugün mü gideceksiniz
■ Ay, kıyamam düşmüş
● Sen de sinemaya gelir misin

Yukarıdaki cümlelerden hangisi veya hangileri ünlem cümlesidir?

- A. ★, ♥, ■ B. ★, ■
C. ●, ♥ D. ♥, ■, ★

17-----

"Bayram dönüşü yolda kaza yapmışlar." Cümlesinde hangi sorunun cevabı yoktur?

- A. Ne zaman? B. Nerede?
C. Nasıl? D. Ne?

18-----



Yukarıdaki dörtlükte kaç tane özel isim vardır?

- A. 1 B. 2 C. 3 D. 4

19-----

Hangisi topluluk adına örnektir?

- A. sürü B. kuşlar
C. serçeler D. leylekler

20-----

Aşağıdaki cümlelerin hangisinde bir karşılaştırma söz konusudur?

- A. Kahvaltıdan önce mutlaka bir bardak süt içiyor.
B. Sağlığını hiç önemsemiyorsunuz.
C. Geçen yaz gittiğimiz otel daha büyüktü.
D. Feyza çok güzel resim yapar.

21-----

Aşağıdaki cümlelerin hangisinde sebep-sonuç ilişkisi kurulmamıştır?

- A. Bunu sana söyleyemem çünkü bu bir sır.
B. Kapı rüzgârdan kapandığı için dışarıda kaldık.
C. Kediciğim çok açtı bu nedenle ona süt verdim.
D. Buraya gelemeyeceksen beni arayıp haber ver.

22-----

Hangi cümlede abartılı bir ifade yoktur?

- A. Kardeşim daima geç gelir.
B. Onu görünce dünyalar benim olmuştu.
C. Kardeşim oyuncak alınmadığı için kıyameti kopardı.
D. Salon kapısından dev gibi bir adam girdi.

23-----

Çevremizi korumalıyız çöplerimizi poşete koyup atmalıyız.

Cümlesindeki ifadeyi desteklemek için boşluğa hangi kelimeyi koymalıyız?

- A. hatta B. ama
C. bunun için D. fakat

24-----

"Mert () dolaptan su getirir misin ()" cümlesinde yay ayrıçla () ayrılan yerlere hangi noktalama işaretleri gelmelidir?

- A. nokta – kesme işareti
B. soru işareti – nokta
C. konuşma çizgisi – tırnak işareti
D. virgül – soru işareti

25-----

Aşağıdaki cümlelerin hangisinden sonra ünlem işareti konmalıdır?

- A. Toplantı biraz önce bitti
B. Yaşasın, başardım
C. Öğretmenimiz bizi çağırmış
D. Kim bana yardım edebilir

MATEMATİK

1-----

$$\begin{array}{r} 217 \\ \times 4 \\ \hline 1085 \\ + 6 \\ \hline 9765 \end{array}$$

Yandaki çarpma işlemine göre (●+★) x ■ işleminin sonucu kaçtır?

- A. 85 B. 80 C. 70 D. 65

2-----

$$\begin{array}{r} \triangle 62 \\ - 3 \\ \hline 4 \end{array}$$

Yandaki bölme işlemine göre, "▲" kaçtır?

- A. 251 B. 228 C. 248 D. 250

3-----

$$\begin{array}{r} 488 \overline{)17} \\ \hline \end{array}$$

$$\begin{array}{r} 238 \overline{)4} \\ \hline \end{array}$$

$$\begin{array}{r} 882 \overline{)9} \\ \hline \end{array}$$

$$\begin{array}{r} 985 \overline{)3} \\ \hline \end{array}$$

Hangi renk kutudaki işlem kalansız bölme işlemidir?

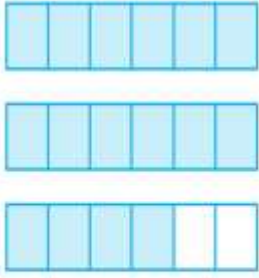
- A. B. C. D.

Adı:
Soyadı:

4. SINIF MATEMATİK
Değerlendirme

Tarih
...../...../2021

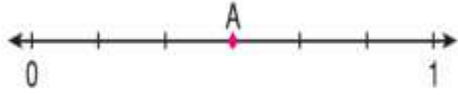
4-----



Yukarıda modellenen kesir aşağıdakilerden hangisidir?

- A. $2\frac{2}{4}$ B. $\frac{18}{6}$ C. $2\frac{4}{6}$ D. $\frac{16}{18}$

5-----



Sayı doğrusunda 0 ile 1 sayıları arası eş parçalara ayrılmıştır.

A noktasına karşılık gelen kesir hangisidir?

- A. $\frac{2}{6}$ B. $\frac{3}{6}$ C. $\frac{1}{3}$ D. $\frac{3}{5}$

6-----

altı → $\frac{4}{6}$
dokuz → $\frac{5}{9}$
beş → $\frac{3}{5}$

Yandaki kesirler, sözcüklerle ilişki kurularak oluşturulmuştur.

Bu ilişkiye göre "yedi" sözcüğü hangi kesirle gösterilebilir?

- A. $\frac{7}{3}$ B. $\frac{2}{7}$ C. $\frac{4}{7}$ D. $\frac{7}{7}$

7-----



Yukarıdaki sayı doğrusuna göre ★ + ■ işlemi sonucu hangisidir?

- A. $2\frac{6}{4}$ B. $3\frac{3}{4}$ C. $\frac{6}{4}$ D. $3\frac{6}{4}$

8-----

Aşağıdaki sıralamalardan hangisi doğrudur?

- A. $\frac{5}{8} < \frac{6}{8} < \frac{4}{8}$
B. $\frac{3}{4} < \frac{3}{5} < \frac{3}{6}$
C. $2\frac{1}{3} > 2\frac{1}{4} > 2\frac{1}{5}$
D. $\frac{1}{5} < \frac{1}{6} < \frac{1}{7}$

9-----

40 kişilik sınıfın $\frac{3}{10}$ 'ü erkektir. Sınıftaki kız öğrenci sayısı kaçtır?

- A. 12 B. 38 C. 28 D. 32

10-----

Cebimdeki 70 liranın önce $\frac{1}{7}$ 'ini, sonra $\frac{2}{7}$ 'sini harcadım.

Geriyeye ne kadar param kaldı?

- A. 10 B. 25 C. 35 D. 40

11-----

Bir meyve bahçesindeki ağaçların $\frac{3}{8}$ 'ü portakal, $\frac{1}{8}$ 'i elma, geriyeye kalanı erik ağacıdır.

Erik ağacı, ağaçların kaçta kaçtır?

- A. $\frac{3}{8}$ B. $\frac{2}{8}$ C. $\frac{5}{8}$ D. $\frac{4}{8}$

12-----



Kardeşim artık yılda dünyaya geldi.

Mert'in yaptığı açıklamaya göre kardeşi hangi yılda dünyaya gelmiş olabilir?

- A. 2009 B. 2012
C. 2013 D. 2010

13-----



Saat, çizgi filmin başlama saatini göstermektedir.

Film 95 dakika sürdüğüne göre filmin bitişinde saat kaç göstermektedir?

- A. 15.00 B. 15.10
C. 15.40 D. 15.50

14-----



Sevgi, annesine gitmek için saat 12.15'de otobüse biniyor. Yolculuğu 455 dakika sürüyor. Otobüsten indiğinde yarım saat servis bekliyor. Servis 40 dakikada Sevgi'yi annesine kavuşturuyor.

Buna göre Sevgi annesine saat kaçta kavuşmuştur?

- A. 19.15 B. 19.50
C. 21.00 D. 20.30

15-----



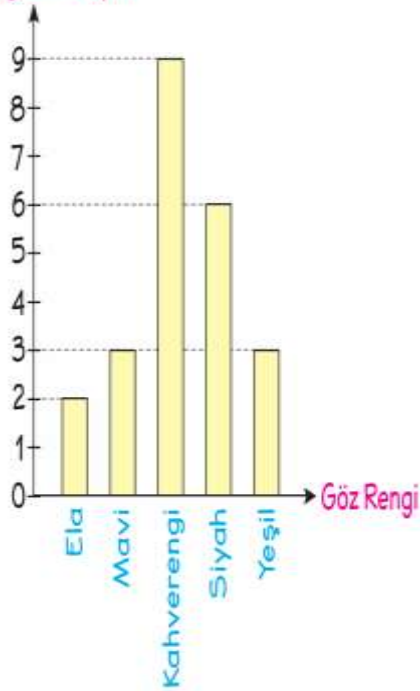
Bir kol saati, 6 saatte bir 5 dakika geri kalmaktadır.

Buna göre kol saati 8 günde kaç dakika geri kalır?

- A. 160 B. 170
C. 150 D. 240

Grafik: Öğrencilerin Göz Renkleri

Öğrenci Sayısı



16

Yeşil, mavi ve ela gözlü öğrenci sayıları toplamı kaçtır?

- A) 15 B) 9 C) 8 D) 6

17

Mavi gözlü öğrenci sayısı, siyah gözlü öğrenci sayısından kaç azdır?

- A) 6 B) 5 C) 4 D) 3

18

Bir kumbaradaki paranın $\frac{4}{5}$ 'ü 100 liradır.

Kumbaradaki paranın tamamı kaç liradır?

- A) 100 B) 105 C) 125 D) 140

19

3 saat 45 dakika dakika eder.

Yukarıdaki boşluğa hangi sayı gelmelidir?

- A) 205 B) 215 C) 225 D) 230

20

9 Mayıs 2018 günü yola çıkan babam 1 haftalık iş gezisine gidecek.

Babam işten hangi tarihte gelir?

- A) 10 Mayıs 2018 B) 12 Mayıs 2018
C) 16 Mayıs 2018 D) 20 Mayıs 2018

FEN BİLİMLERİ

1

Aydınlatma araçlarının günlük hayatımızdaki kullanım alanları arasında;

- ▲ Trafik akışının düzenlenmesi
- Hastane gibi kuruluşların gece de faaliyet gösterebilmesi
- Otomobillerin çalışması

verilenlerinden hangileri sayılabilir?

- A) Yalnız ● B) ▲ ve ●
C) Yalnız ▲ D) ▲, ● ve ■

2



Tabloyla ilgili aşağıdaki sorulardan hangisinin yanıtı "1"dir?

- A) Hangileri modern aydınlatma araçlarıdır?
B) Hangisi diğerlerinden sonra icat edilmiştir?
C) Hangisinin çevreye olumsuz etkisi diğerlerinden azdır?
D) Hangisi diğerlerinden daha ilkindir?

3

Aşağıdaki ses teknolojisi ve kullanım amacı eşleştirmelerinden hangisi **hatalıdır**?

Ses Teknolojisi	Kullanım Amacı
A) Telefon	Sesin iletimi
B) Radyo	Sesin kaydedilmesi
C) Plaklar	Sesin kaydedilmesi
D) Mikrofon	Ses şiddetini artırma

4

Aşağıdaki ses teknolojilerinden hangisi **diğerlerinden önce** geliştirilmiştir?



5

Şekildeki ses teknolojisi ile ilgili;



- ▲ Sesin şiddetini artırır.
- İşitme sorunu olan bireyler tarafından kullanılır.
- Çevredeki sesleri kaydeder.

verilenlerinden hangileri doğrudur?

- A) Yalnız ▲ B) ▲ ve ●
C) ● ve ■ D) ▲, ● ve ■

6

- Gereksiz çalınan korna sesleri gürültü kirliliğine neden olur.
- Ormanlık alandaki kuş sesleri gürültü kirliliğine neden olur.
- Yol çalışmalarında kullanılan araçlar gürültü kirliliğine neden olur.

Yukarıdaki bilgilerden doğru olanlar (+), yanlış olanlar (-) ile gösterilirse kutucuklar hangi seçenekteki gibi görünür?

- A)

+	+	+	+
+	+	-	-
+	-	+	-
- B)

+	+	+	+
+	+	-	-
+	-	+	-
- C)

+	+	+	+
+	+	-	-
+	-	+	-
- D)

+	+	+	+
+	+	-	-
+	-	+	-

7

Aşağıdakilerden hangisi gürültü kirliliği **yaratmaz**?



Adı:
Soyadı:

4. SINIF MATEMATİK Değerlendirme

Tarih
...../...../2021

8-----
Aşağıdakilerden hangisi gürültü kirliliğinin olumsuz sonuçlarından biri **değildir**?

- A) İnsanlarda baş ağrısı
B) İş veriminin artması
C) Geçici ya da kalıcı işitme kaybı
D) Uykusuzluk



Aşağıdaki maddeleri ayırmak için 1 ve 2 numaralı yöntemlerinden biri kullanılacaktır. Hangisi her iki yöntemle de ayrılmayacak karışımdır?

- A) Şekerli su B) Tuzlu su
C) Şeker - pirinç karışımı D) Pirinç su karışımı



Verilen görsellerden hangilerinde doğru davranışlar gösterilmektedir?

- A) I ve II B) II ve III C) I ve IV D) III ve IV

11-----
Kaynakların gerektiğinde ihtiyaç olduğu kadar kullanılmasına denir.

İfadesindeki noktalı yere aşağıdakilerden hangisi yazılmalıdır?

- A) tutumluluk B) tasarruf
C) geri dönüşüm D) su kaynakları

12-----
Ahmet Bey, evine ses yalıtım malzemeleri almıştır.

Buna göre hangi kutu Ahmet Bey'e aittir?



13-----
Gürültü hem ruhsal hem de bedensel rahatsızlıklara neden olur.



Yukarıda verilen birbirleriyle bağlantılı ifadelerin doğru ya da yanlış olduğuna karar vererek ilerlediğimizde hangi çıkışa ulaşırız?

- A) 1 B) 2 C) 3 D) 4

14-----
☆ Yüksek şiddetteki sesler
△ Az şiddetteki sesler
□ Düşük şiddetteki sesler

Buna göre hangi eşleştirme doğrudur?

- A) ☆ Kütüphane B) ☆ Hastane
△ Sınıf Ortamı △ Kütüphane
□ Okul Bahçesi □ Trafik
C) ☆ Eğlence mekanı D) ☆ Sınıf ortamı
△ Sinema salonu △ Tiyatro salonu
□ Kütüphane □ Ormanlık alan

15-----
Aşağıdaki ortamların hangisinde ses kirliliği en fazladır?

- A) Asfalt matkabının çalıştığı alan
B) Okul bahçesi
C) Park alanları
D) Orman

16-----
I. Geceleri aydınlatmaya duyulan ihtiyaç insanların aydınlatma teknolojilerine daha fazla ilgi duymasını sağladı.

II. İnsanlar yağlı odun ve meşaleden sonra gaz lambası, kandil ve mum gibi aydınlatma araçları icat etti.

III. Aydınlatma teknolojilerindeki en önemli buluşlardan biri ampuldür.

Yukarıda verilen ifadelerden hangileri doğrudur?

- A) I ve II B) I ve III
C) II ve III D) I, II ve III

17-----

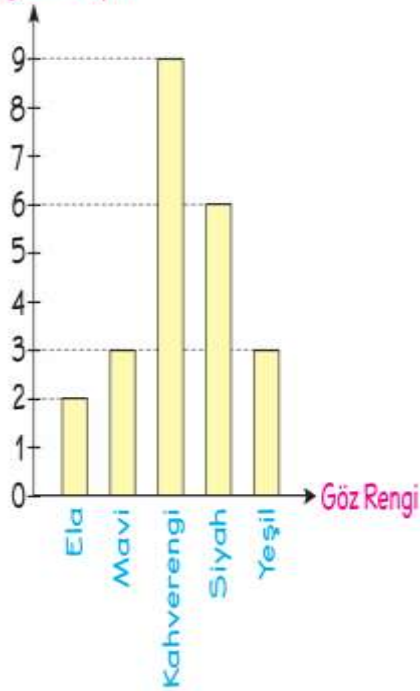
I.	Hava alanları, uçakların gece iniş yapabilmesi için aydınlatılır.
II.	Aydınlatma teknolojileri olmasaydı gündüzleri okullarda ders yapmak zorlaşır.
III.	Ameliyathanelerde aydınlatma teknolojileri sayesinde daha rahat ameliyatlara yapılabilmektedir.
IV.	Fotoğrafçılar güzel fotoğraflar çekebilmek için aydınlatma teknolojilerinden yararlanır.

Aydınlatma teknolojilerinin insan ve yaşam üzerindeki etkisi ile ilgili verilen örneklerden hangisi **yanlıştır**?

- A) I B) II C) III D) IV

Grafik: Öğrencilerin Göz Renkleri

Öğrenci Sayısı



16

Yeşil, mavi ve ela gözlü öğrenci sayıları toplamı kaçtır?

- A) 15 B) 9 C) 8 D) 6

17

Mavi gözlü öğrenci sayısı, siyah gözlü öğrenci sayısından kaç azdır?

- A) 6 B) 5 C) 4 D) 3

18

Bir kumbaradaki paranın $\frac{4}{5}$ 'ü 100 liradır.

Kumbaradaki paranın tamamı kaç liradır?

- A) 100 B) 105 C) 125 D) 140

19

3 saat 45 dakika dakika eder.

Yukarıdaki boşluğa hangi sayı gelmelidir?

- A) 205 B) 215 C) 225 D) 230

20

9 Mayıs 2018 günü yola çıkan babam 1 haftalık iş gezisine gidecek.

Babam işten hangi tarihte gelir?

- A) 10 Mayıs 2018 B) 12 Mayıs 2018
C) 16 Mayıs 2018 D) 20 Mayıs 2018

FEN BİLİMLERİ

1

Aydınlatma araçlarının günlük hayatımızdaki kullanım alanları arasında;

- ▲ Trafik akışının düzenlenmesi
- Hastane gibi kuruluşların gece de faaliyet gösterebilmesi
- Otomobillerin çalışması

verilenlerinden hangileri sayılabilir?

- A) Yalnız ● B) ▲ ve ●
C) Yalnız ▲ D) ▲, ● ve ■

2



Tabloyla ilgili aşağıdaki sorulardan hangisinin yanıtı "1"dir?

- A) Hangileri modern aydınlatma araçlarıdır?
B) Hangisi diğerlerinden sonra icat edilmiştir?
C) Hangisinin çevreye olumsuz etkisi diğerlerinden azdır?
D) Hangisi diğerlerinden daha ilkelidir?

3

Aşağıdaki ses teknolojisi ve kullanım amacı eşleştirmelerinden hangisi **hatalıdır**?

Ses Teknolojisi	Kullanım Amacı
A) Telefon	Sesin iletimi
B) Radyo	Sesin kaydedilmesi
C) Plaklar	Sesin kaydedilmesi
D) Mikrofon	Ses şiddetini artırma

4

Aşağıdaki ses teknolojilerinden hangisi **diğerlerinden önce** geliştirilmiştir?



5

Şekildeki ses teknolojisi ile ilgili;



- ▲ Sesin şiddetini artırır.
- İşitme sorunu olan bireyler tarafından kullanılır.
- Çevredeki sesleri kaydeder.

verilenlerinden hangileri doğrudur?

- A) Yalnız ▲ B) ▲ ve ●
C) ● ve ■ D) ▲, ● ve ■

6

- Gereksiz çalınan korna sesleri gürültü kirliliğine neden olur.
- Ormanlık alandaki kuş sesleri gürültü kirliliğine neden olur.
- Yol çalışmalarında kullanılan araçlar gürültü kirliliğine neden olur.

Yukarıdaki bilgilerden doğru olanlar (+), yanlış olanlar (-) ile gösterilirse kutucuklar hangi seçenekteki gibi görünür?

- A)

+	+	+	+
+	+	-	-
+	-	+	-
- B)

+	+	+	+
+	+	-	-
+	-	+	-
- C)

+	+	+	+
+	+	-	-
+	-	+	-
- D)

+	+	+	+
+	+	-	-
+	-	+	-

7

Aşağıdakilerden hangisi gürültü kirliliği **yaratmaz**?

