

10- Aşağıdaki sembollerle adlarını eşleştirdiğimizde hangisi dışarıda kalır?

1. sol anahtarı	2. sekizlik nota	3. ölçü çizgisi
4. ölçü	5. dörtlük nota	6. dörtlük sus



- A) 6 B) 5 C) 4 D) 1


11- Sol anahtarının yanındaki rakamlara denir. Üstteki sayı bir ölçü içindeki vuruş sayısını, alttaki sayı ise hangi değerde olacağını gösterir.



Boş bırakılan yere hangisi yazılmalıdır?

- A) ritmik sayma B) nota rakamı
C) zaman belirteci D) ritim çizgisi

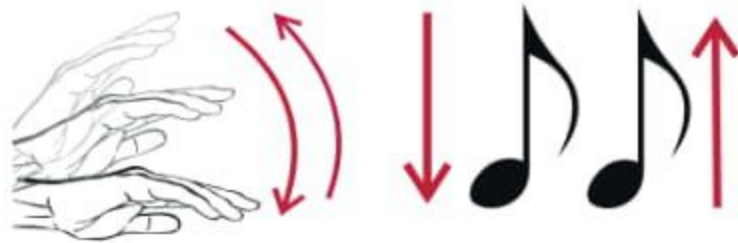
12- Müzikte sesleri gösteren işaretlere denir. Şekilleriyle seslerin sürelerini, dizek üzerindeki yerleriyle de seslerin adlarını belirtir.



Boş bırakılan yere hangisi yazılmalıdır?

- A) nota B) sus işareti
C) çalgı D) belirteç

13- Yarım vuruşluk sürede söylenen ya da çalınan nota değerine **nota** denir.



Boş bırakılan yere hangisi yazılmalıdır?

- A) yarım B) sekizlik
C) alçak D) yüksek

14- Aşağıdaki ifadelerden hangisi **doğrudur**?

- A) Kulaklıkla müzik dinlerken sesini çok yüksek açabiliriz.
B) İstiklâl Marşı'nı "hazır ol" durumunda söylemeliyiz.
C) Sürekli bağıra bağıra konuşmak ses tellerimize çok yararlıdır.
D) Şarkı söylemek sadece sanatçıların görevidir.

15- Aşağıdaki dizeğin üzerine 5 tane sol anahtarı çiziniz.



16- Aşağıdaki ifadelerden doğru olanların başına "D", yanlış olanların başına "Y" harfi yazınız. (5 x 3 = 15 Puan)

- () Milli bayramlarda ve törenlerde İstiklal Marşı'mızın sadece ilk iki kıtasını söyleriz.
() İstiklâl Marşı, bağımsızlığımızın sembolüdür.
() Birlikte şarkı söylerken istediğimiz gibi bağırabiliriz.
() Birlikte şarkı söylerken şarkıya aynı anda başlamalı ve aynı anda bitirmeliyiz.
() Birlikte şarkı söylerken şarkının sözlerini doğru ve anlaşılır bir biçimde söylemeliyiz.

17- Aşağıdaki kelimeler ile anlamlarını eşleştiriniz. (10 puan)

şafak	Yüz
çehre	Güneş doğmadan az önce beliren aydınlık.
hilâl	Bağımsızlık
istiklâl	Öfke, kızgınlık
celâl	Ay'ın ilk günlerinde aldığı yay biçimi
sancak	

CEVAPLARINIZI KONTROL EDİNİZ.

***** BAŞARILAR *****

4/F Sınıf Öğretmeni
Enes SERT

Not Dağılımı: 1-15. Sorular 5 puan,
16. soru 15 puan
17. soru 10 puan

1- İstiklâl Marşı'mızın ilk kıtasında bazı kelimeler eksik bırakılmıştır. Boş bırakılan yerlere seçeneklerden hangisi yazılamaz?

Korkma, sönmez bu yüzen al sancak;
Sönmeden yurdumun üstünde en son ocak.
○ benim milletimin, parlayacak;
○ benimdir, o benim milletimindir ancak.

- A) şafaklarda B) tüten
C) güneşidir D) yıldızdır

2- İstiklâl Marşı'mızın ikinci kıtasında bazı kelimeler eksik bırakılmıştır. Boş bırakılan yerlere hangileri yazılamaz?

1. çehreni 2. güzel 3. gül 4. şimdi

5. sonra 6. tapan 7. nazlı 8. sana

Çatma, kurban olayım, ey hilâl!
Kahraman ırkıma bir ! Ne bu şiddet, bu celâl?
..... olmaz dökülen kanlarımız helâl...
Hakkıdır, Hakk'a, milletimin istiklâl!

- A) 1, 5 ve 8 B) 2 ve 4
C) 3, 6 ve 7 D) 6, 7 ve 8

3- İstiklâl Marşı'mızı yazan şair
.....
bestesini yapan ise
.....'dür.

Öğretmenin cümlesini tamamlayan seçenek hangisidir?

- A) Mehmet Akif Ersoy – Zeki Müren
B) Mustafa Kemal – Mevlana
C) Mehmet Akif Ersoy – Barış Manço
D) Mehmet Akif Ersoy – Osman Zeki Üngör

4- Aşağıdaki durumların hangisinde İstiklâl Marşı söylenmez?

- A) Pazartesi ilk dersten önce
B) Cuma son dersten sonra
C) Sınıfça kaymakamlığı ziyaret ettiğimizde
D) Resmî bayram törenlerinin başlangıcında



5- Birbirine paralel ve eşit aralıklı beş çizgiden ve dört aralıktan oluşur. Çizgiler ve aralıklar aşağıdan başlanarak numaralandırılır. Müzik seslerini gösteren notalar ve işaretler bu çizgilerin üzerine ve aralıklara yazılır.



Acaba öğrencimiz neyin tanımını yapmaktadır?

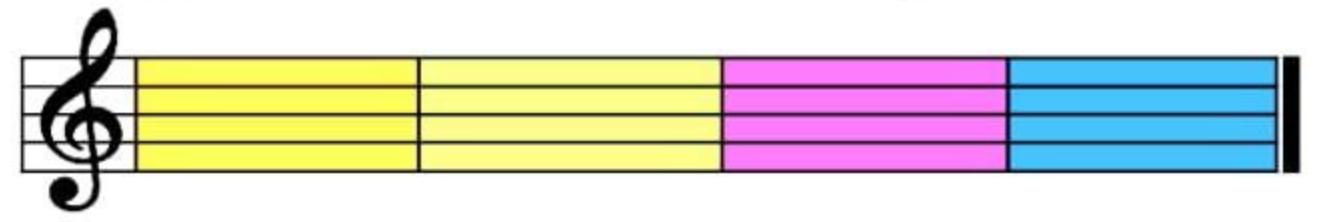
- A) dizek B) nota
C) sus işareti D) ölçü

6- Yandaki sembolün adı hangisidir?

- A) bitiş çizgisi B) nota
C) sol anahtarı D) dizek



7- Dizek üzerinde düz çizgilerle bölünmüş küçük kutucuklar görürüz. Bu kutucukların büyüklükleri birbirine eşittir. Dizek üzerinde gördüğümüz bu minik kutucuklara



Boş bırakılan yere hangisi yazılmalıdır?

- A) ölçü B) kesir C) beste D) vuruş

8- Bir müzik parçasının sona erdiğini belirtmek için son ölçüden sonra çizilen kalın çizgiye verilir.



Boş bırakılan yere hangisi yazılmalıdır?

- A) dörtlük nota B) sus işareti
C) vuruş sayısı D) bitiş çizgisi

9- Seslerin sürelerini ölçmek için elimiz ve ayağımızla yaptığımız, aşağı ve yukarı yöndeki eşit süreli harekete ne denir?

- A) sol anahtarı
B) vuruş
C) sus işareti
D) nota

