

1- "Öğretmenimiz, birlikte şarkı söylerken nelere dikkat etmemiz gerektiğini hatırlatmıştı:
– Şarkıları uygun hız ve gürlükte, şarkının sözlerini ise ve biçimde söylemeliyiz. Şarkıya aynı anda başlamalı ve şarkıyı aynı anda bitirmeliyiz. Eğer böyle söylersek şarkılar daha güzel duyulacaktır."

Yukarıdaki paragrafa göre boş bırakılan yerlere hangilerinin yazılması daha uygun olur?

- A) doğru – anlaşılır
B) bağırarak – hızlı
C) çabucak – sessiz
D) fısıltıyla – kaba

2- Aşağıdaki kelimelerden hangileri "İstiklâl Marşı" mızın ikinci kıtasında geçmez?

1. kurban	2. nazlı	3. gül	4. vatan
5. bayrak	6. tapan	7. Atatürk	8. helâl

- A) 1, 3 ve 8
B) 4, 5 ve 7
C) 2, 6 ve 8
D) 2 ve 3

3- Aşağıda kendini tanıtan nedir?

..... benim adım, Beş çizgi, dört aralığım. Çeşit çeşit notaları Üzerime sıralarım.	5. Çizgi 4. Çizgi 3. Çizgi 2. Çizgi 1. Çizgi	4. Aralık 3. Aralık 2. Aralık 1. Aralık
--	--	--

- A) dörtlük nota
B) sus işareti
C) dizek
D) ölçü

4- "Notaları dizek üzerinde isimlendirmek için anahtarlar vardır. Bunlardan biri anahtarıdır. anahtarı dizeğin en başına yazılır. Dizeğin ikinci çizgisine adını verir."

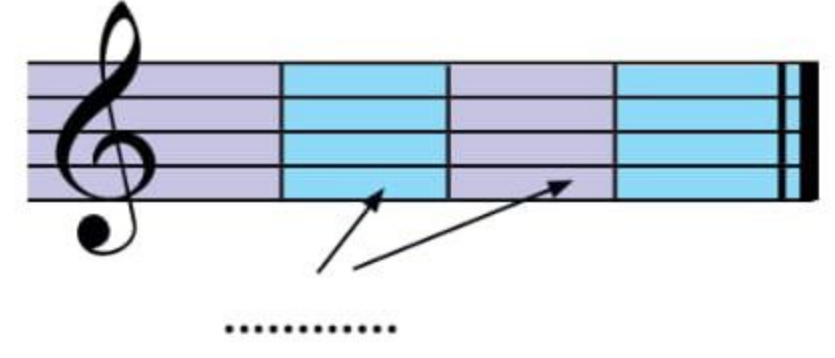


Yukarıdaki ifadeye göre boş bırakılan yere hangisi yazılmalıdır?

- A) vuruş
B) sus
C) ölçü
D) sol

5- Aşağıda kendini tanıtan nedir?


..... benim adım,
Kutu kutu iki yanım.
Dik çizgilerle bölünüp
Eşit sürelerle yayılırım.



- A) ölçü
B) nota
C) dizek
D) kesir çizgisi

6- Aşağıda kendini tanıtan nedir?

.....yim ben,
Dizekte dik dururum.
Notaları ayırıp
Ölçüler oluştururum.



- A) Ölçü çizgisi
B) Dizek işareti
C) Düz belirteci
D) Basit çizgi

7- Aşağıdaki boşluğa hangisi yazılmalıdır?


..... çizgisi benim adım,
Şarkının sonundayım.
Ölçü çizgisine göre
Bir ince, bir kalınım.



- A) Seksek
B) Başlangıç
C) Soru
D) Bitiş

8- "Sol anahtarının yanındaki rakamlara denir. Üstteki sayı bir ölçü içindeki vuruş sayısını, alttaki sayı ise hangi değerde nota olacağını gösterir. Böylelikle müzik eserlerinin notalarını daha kolay okur ve çalarız."

Sol anahtarına komşuyum,
Sayılardan oluşurum.
Ritimlere ad veren
Notaların dostuyum.



Boş bırakılan yere hangisi yazılmalıdır?

- A) ritmik rakamlar
B) zaman belirteci
C) dizek
D) durum sayıları

9- Aşağıdaki varlık seslerinin inceden kalına doğru sıralanışı hangisidir?

1- kedi

2- köpek

3- aslan

4- fare

- A) 1 – 3 – 4 – 2
B) 4 – 3 – 1 – 2
C) 4 – 1 – 2 – 3
D) 2 – 1 – 3 – 4

10- Dizekte gösterilen notanın adı hangisidir?



- A) sol notası
B) fa notası
C) la notası
D) mi notası

11- Dizekte gösterilen notanın adı hangisidir?



- A) sol notası
B) fa notası
C) la notası
D) do notası

12- Dizekte gösterilen notanın adı hangisidir?



- A) sol notası
B) fa notası
C) la notası
D) si notası

13- Notalar, dizek üzerinde yukarıya doğru çıkıldıkça, aşağıya doğru inildikçe

Boş bırakılan yerlere sırasıyla hangileri yazılmalıdır?

- A) inceler – kalınlaşır
B) güçlenir – zayıflar
C) çoğalır – azalır
D) genişler – daralır

14- Aşağıdaki taşıt seslerinden hangisi daha kalındır?

- A) otomobil
B) motosiklet
C) kamyon
D) minibüs

15- Ok ile gösterilenlerin isimlerini kutuya bakarak yazınız.

nota sapı - kuyruk - nota gövdesi






16- Aşağıdaki kelimeleri, sembollerin yanına uygun olacak şekilde yazınız.

dörtlük nota

dörtlük sus

sekizlik nota

sekizlik sus



CEVAPLARINIZI KONTROL EDİNİZ.

***** BAŞARILAR *****

Puan Dağılımı: 1-14. Sorular 6 puan,
15 ve 16. sorular 8 puandır.