

Adı:
Soyadı:



Matematik
3/F Çalışma Kağıdı

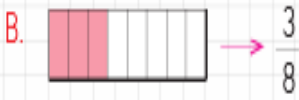
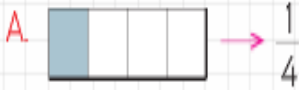


Tarih
...../...../2019

İşlemleri boşluklara yapınız.

Ünite Değerlendirme

1 Aşağıdaki şekil, kesir eşleştirmelerinden hangisi yanlıştır?



Yukarıdaki sayı doğrusunda A yerine hangi kesir yazılmalıdır?

A. $\frac{8}{8}$ B. $\frac{7}{8}$ C. $\frac{1}{8}$

4 Bir tabakta bulunan 24 cevizin önce $\frac{1}{4}$ 'ini sonra $\frac{1}{2}$ 'ini yedik.
Tabakta kaç ceviz kaldı?

A. 12 B. 8 C. 6

5 96 km'lik yolun $\frac{3}{8}$ 'ü asfaltlandı.
Asfaltlanmayan yol kaç kilometredir?

A. 66 B. 60 C. 36

3 Nilüfer, 60 m'lik yolun $\frac{1}{5}$ 'ini yürüyor.
Nilüfer, kaç metre yol yürümüştür?

A. 12 B. 14 C. 16

6 Yanda verilen saat modeli kaç göstermektedir?



A. 9.40 B. 9.30 C. 9.08

Problemler

Çeyrek kilogramı 2 ₺ olan üzüm-den 4 kilogram aldık. Kaç lira ödedik?

Yandaki saat öğleden önceki zamanı göstermektedir.



75 dakika sonra saat kaç gösterir?

2 kilogramı 600 kr. olan portakallardan 5 kg aldık. Portakallar için kaç lira ödedik?

30 kişilik bir sınıfın $\frac{2}{5}$ 'si kız, diğerleri erkek öğrencidir. Bu sınıfta kaç erkek öğrenci vardır?

Bir çiftlikteki 90 hayvanın $\frac{1}{5}$ 'i koyun, $\frac{1}{10}$ 'i inektir. Çiftlikteki inek ve koyunların sayıları toplamı kaçtır?

Bir tabakta 40 yarım elma vardır. Tabaktaki elmaların $\frac{3}{4}$ 'ü kaç bütün elmadır?

Adı:
Soyadı:

Matematik
3/F Çalışma Kağıdı

UNUTMA VE ÖĞREN
Kral Kaya Mezarlıkları hangi
ilimizdedir.

- 7 Arzu Hanım, market alışverişini 2 saat 20 dakikada bitirmiştir. Arzu Hanımın alışverişini kaç dakika sürmüştür?
A. 140 B. 120 C. 80
- 10 Bir kilogramı 24 ₺ olan zeytinden çeyrek kilogram aldık. Kaç lira ödememiz gerekir?
A. 12 B. 8 C. 6

- 8 Bir futbol maçı 90 dakika oynanmaktadır. Buna göre futbol karşılaşması kaç saat kaç dakika sürer?
A. 1 saat 30 dakika
B. 1 saat 45 dakika
C. 1 saat 50 dakika
- 11 Bir tabakta bulunan 4 kg 500 g gelen meyvenin 2 kg 100 g'ını tükettik. Tabakta ne kadar meyve kaldı?
A. 2 kg 500 g
B. 2 kg 400 g
C. 2 kg 300 g

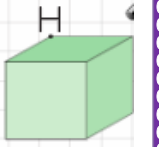
- 9 Babam cebindeki 90 ₺'nin tamamını beşer lira olarak bozdurdu. Babamın kaç tane 5 ₺'si olmuştur?
A. 20 B. 18 C. 10
- 12 Her birinde 18 kg zeytin olan 5 teneke zeytinin $\frac{1}{5}$ 'i satıldı. Tenekeerde kaç kilogram zeytin kaldı?
A. 68 B. 70 C. 72



Yukarıdaki hediye paketinin yüzü kaç numaralı ok ile gösterilmiştir?

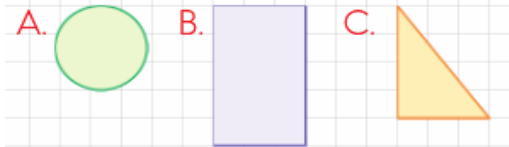
- A. 1 B. 2 C. 3

Yandaki küpün H köşesinin gösterimi aşağıdakilerden hangisidir?

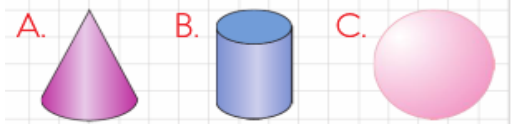


- A. . H
B. h .
C. H .

Aşağıdakilerden hangisi silindirin yüzlerinden biri değildir?



İki yüzü dairesel bölgeden oluşan geometrik cisim hangisidir?



Aşağıdakilerden hangisinin bir yüzü düzleme örnek gösterilemez?

